

NOT: Bu testler www.meb.gov.tr Ölçme ve Değerlendirme Sınav Hizmetleri Genel Müdürlüğünden alınmıştır.

4- NÜFUS POLİTAKALARI

1. Ülkelerin nüfus politikası uygulamalarının amaçları arasında,

- I. Nüfusun eğitim düzeyini artırmak
- II. Nüfusun sağlık durumunu kontrol altında tutmak
- III. Ülke dışına göçleri teşvik etmek

Verilenlerin hangileri gösterilemez?

- A) Yalnız I. B) Yalnız II. C) Yalnız III. D) I ve II. E) I ve III.

2. Nüfus artış hızının fazla olduğu yerlerde, eğitim, sağlık, ulaşım vb. hizmetlerde aksamalar yaşanmaktadır.

Kıtaların nüfus artış hızları düşünüldüğünde bu aksamaların hangisinde daha fazla yaşanması beklenir?

- A) Asya B) Afrika C) Güney Amerika
D) Avrupa E) Avustralya

3. Nüfus artış hızının azaldığı ülkelerde,

- I. Yaşlı nüfus oranı artar.
- II. Çalışma çağındaki nüfus oranı azalır.
- III. İş gücünü karşılamak için diğer ülkelerden göç alır.

Verilen durumların hangilerinin gerçekleşmesi beklenir?

- A) Yalnız I. B) Yalnız II. C) I ve II. D) II ve III. E) I, II ve III.

4. 1963 yılına kadar ülkemizde uygulanan nüfus artış hızını arttırmaya yönelik politikalar arasında hangisi yoktur?

- A) Vergi muafiyeti
B) Ücretsiz sağlık hizmetleri
C) Göçmenlere gümrük muafiyeti
D) Altı çocuktan fazla çocuklu ailelerin ödüllendirilmesi
E) Tarım sektöründe çalışan ailelerin şehirlere göç etmesini engellemek

5. Aşağıdaki tabloda K ülkesinin bazı yıllardaki nüfus miktarları verilmiştir.

Yıllar	Nüfus
2012	80.425.823
2011	81.797.673
2010	81.776.930
2009	81.902.307
2008	82.110.097

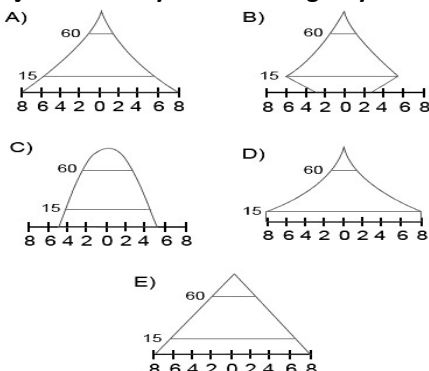
Tablodaki bilgilere bakıldığında K ülkesi ile ilgili olarak:

- I. Nüfusun artış hızını yükseltecek politikalar uygulamalıdır
- II. Nüfusu giderek azalmaktadır.
- III. Ülkede cinsiyet dengesizliği ortaya çıkmıştır.

Verilenlerden hangileri doğrudur?

- A) Yalnız I. B) Yalnız II. C) I ve II. D) II ve III. E) I, II ve III.

6. Aşağıda nüfus piramitleri verilen ülkelerden hangisinin nüfus artış hızının son yıllarda azaldığı söylenebilir?



7. Aşağıdaki verilen ülkelerden hangisinin, nüfus artış hızını azaltmaya yönelik politikalar uygulaması gerekir?

- A) Hindistan B) Japonya C) İsveç
D) Kanada E) Danimarka

8. Aşağıdakilerden hangisi nüfus artış hızının yüksek olduğu ülkelerde ortaya çıkan olumsuz durumlardan biridir?

- A) Mal ve hizmetlere olan talep artar.
B) Üretim maliyetleri azalır.
C) İş gücü potansiyeli artar.
D) Yeni iş imkânları oluşur.
E) Demografik yatırımlar artar.

9. Türkiye 1960 yılına kadar uyguladığı nüfus artış hızını yükseltmeye yönelik politikalarından vazgeçmiştir. 1960 yılından sonra nüfus artış hızını azaltmaya yönelik yeni politikalar uygulamaya koyulmuştur. Bu durumun nedenleri arasında aşağıdakilerden hangisi gösterilemez?

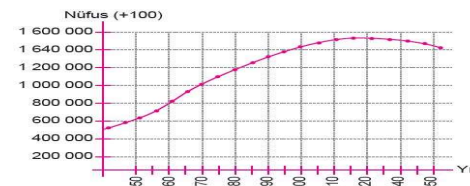
- A) Nüfusun hızlı artışı nedeniyle tüketim miktarının artması
B) Askeri güç üzerinde nüfusun etkisinin azalması
C) Tarımda makine kullanımının artış göstermesiyle insan emeğine duyulan ihtiyacın azalması
D) Nüfus artışının kalkınma hızını yavaşlatması
E) Sanayi üretiminin azalması

10. Almanya, Fransa ve Japonya'nın yıllara göre nüfus dağılımına bakıldığında, nüfus artış hızlarının özellikle 1950 – 1970 yılları arasında çok yüksek olduğu görülmektedir.

Yukarıda verilen durumun ortaya çıkmasının temel nedeni nedir?

- A) Sağlık koşullarının iyileşmesi
B) Çocuğu çok olan ailelere maddi yardımların yapılması
C) İkinci Dünya Savaşı nedeni ile doğum oranlarının azalması
D) Sanayi ile birlikte iş gücü açığının ortaya çıkması
E) Eğitim seviyesinin düşük olması

11. Aşağıda Çin'in 1950-2050 yılları arasındaki tahmini nüfus değişim grafiği verilmiştir. Bu grafiğe göre Çin'de nüfusun 2030 yılından itibaren azalma eğilimine gireceği tahmin edilmektedir.



Bu durum üzerinde;

- I. tek çocuk politikası,
- II. doğum kontrol yöntemlerinin yaygınlaştırılması
- III. kırsal kesimde tarımsal üretimin yüksek olması

Verilenlerden hangilerinin etkili olduğu söylenebilir?

- A) Yalnız I. B) Yalnız II. C) I ve II. D) II ve III. E) I, II ve III.

12. Nüfus artış hızını yükseltmek isteyen bir ülkenin aşağıdaki politikalarından hangisini uygulaması doğru değildir?

- A) Sağlık koşullarının iyileştirilmesi
B) Kreşlerin yaygınlaştırılması ve ücretsiz hizmet vermesi
C) Çocuk sayısına paralel olarak vergi artırımı yapılması
D) Çalışan kadınlar için doğum izinlerinin uzatılması
E) Dış göçle gelen nüfus için yatırımların yapılması

Test 4 1. C 2. B 3. E 4. E 5. C 6. B 7. A 8. E 9. E 10. C 11. C 12. C

5- ŞEHİRLERİN FONKSİYONEL ÖZELLİKLERİ

- Marsilya
- Barcelona
- Rotterdam

1. Yukarıda verilen şehirlerin gelişmesinde aşağıdaki fonksiyonlardan hangisi daha fazla etkili olmuştur?

- A) Tarım B) Eğitim C) Turizm D) Din E) Maden

2. Almanya'nın önemli kentlerinden biri olan Essen'nin gelişmesindeki en önemli unsur aşağıdakilerden hangisidir?

- A) Önemli yolların kavşak noktasında bulunması
B) Tarihi dokusu ile çok sayıda turist çekmesi
C) Önemli demir ve kömür yataklarına sahip olması
D) Verimli tarım alanları üzerine kurulmuş olması
E) Büyük kültür merkezlerine sahip olması

3. Aşağıda verilen kentlerden hangisi diğerlerinden daha geniş bir etki alanına sahiptir?

- A) Roma B) Bakü C) Antalya D) Jakarta E) Tiran

4. Aşağıda şehirlerin büyüüp gelişmesinde etkili olan bazı fonksiyonlar verilmiştir.

- Din
- Eğitim
- Teknoloji
- Bankacılık

Verilen şehirlerin gelişmesinde en fazla etkili olan fonksiyon eşleştirildiğinde hangi şehir dışarıda kalır?

- A) Kudüs B) Tokyo C) Şam D) New York E) Oxford

5. Ekonomik faaliyetlerin gelişmiş olduğu bölgelerde şehirleşme oranı daha fazladır.

- I. Orta Afrika
- II. Batı Avrupa
- III. Kuzey Amerika
- IV. Orta Doğu

Buna göre yukarıda verilen bölgelerden hangilerinde şehirleşme oranı diğerlerinden daha fazladır?

- A) I ve II. B) I ve III. C) II ve III. D) II ve IV. E) III ve IV.

6. Aşağıda verilen şehirlerin ekonomik yapıları düşünüldüğünde hangisinin diğerlerine göre daha az fonksiyona sahip olduğu söylenir?

- A) Paris B) Nairobi C) İstanbul D) Pekin E) New York

7. Aşağıda, şehirlerin kurulup gelişmesinde en fazla etkili olan fonksiyon eşleştirilmiştir. Bu eşleştirmelerinden hangisi yanlıştır?

- A) Sidney - İdari
B) Hamburg - Liman
C) Paris - Moda
D) Musul - Maden
E) Mekke - Din

8. Tarihteki ilk kent yerleşmelerinin kurulduğu yerlerin özellikleri olarak,

- I. akarsulara yakın yerlerdir,
- II. verimli tarım alanlarına yakın alanlardır,
- III. kış aylarının ılık geçtiği yerlerdir

Verilenlerden hangileri gösterilir?

- A) Yalnız I. B) I ve II. C) I ve III. D) II ve III. E) I,II ve III.

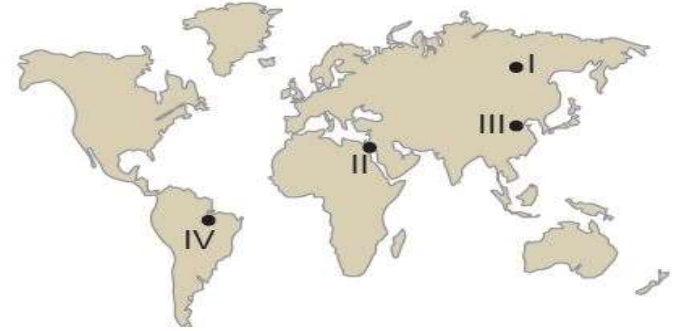
9. Aşağıda verilen kentlerden hangisi uzun süre başkent olduğu için "Dünya'nın Başkenti" olarak adlandırılmaktadır?

- A) Paris B) Londra C) New York D) Roma E) Moskova

- M.Ö 7000 yıllarında Dicle Irmağı'nın yakınında kurulmuştur.
- Kuruluşundan günümüze kadar bir çok medeniyetin hâkimiyetine girmiştir.
- 1950'li yıllara kadar bir köy yerleşmesi olan kent 1957 yılında ilçe, 1990 yılında il olmuştur.
- Günümüzde hızla gelişen ve büyüyen Batman'ın nüfusu 400 bini aşmıştır.

10. Yukarıda özellikleri verilen şehrin gelişmesi üzerinde hangi fonksiyon diğerlerine göre daha fazla etkili olmuştur?

- A) Tarım B) Turizm C) Maden D) Ticaret E) Sanayi



11. Haritada verilen taralı alanlardan hangileri ilk yerleşmelerin kurulduğu yerler arasındadır?

- A) I ve II. B) I ve III. C) II ve III. D) II ve IV. E) III ve IV.

12. Şehirleşme oranı özellikle 1850'li yıllardan sonra hızla artmaya başlamıştır. Bu durumun ortaya çıkmasının temel nedeni aşağıdakilerden hangisidir?

- A) Sanayi inkılabı
B) Hızlı nüfus artışı
C) Madencilik faaliyetlerinin artması
D) Kırsal kesimde güvenlik sorunu
E) Kırsal alanlarda tarımsal üretimin azalması

Test 5 1. C 2. C 3. A 4. C 5. C 6. B 7. A 8. E 9. D 10. C 11. C 12. A

7- ÜRETİM, DAĞITIM, TÜKETİM

1. Aşağıdakilerden hangisi doğal koşulların üretim faaliyetleri üzerindeki etkisine örnek olarak gösterilir?

- A) Kış aylarının ılık geçtiği yerlerde zeytin tarımının yapılması
- B) Zeytin tüketiminin artmasıyla zeytin tarımının yaygınlaşması
- C) Nüfusu kalabalık yerlerde gıda tüketiminin fazla olması
- D) Sanayi üretiminin fazla olduğu yerlerde işgücü ihtiyacının fazla olması
- E) Üretim tesislerinin yer seçiminde işgücünün temin edildiği yerlerin tercih edilmesi

2. (I) Türkiye’de ilkbahar yağışlarının gerçekleştiği dönemde süt üretiminde artış görülmektedir. (II) Yaz aylarında ise yağışların azalması ve sıcaklığın artmasına bağlı olarak süt üretimi azalmaktadır. (III) Sütün çabuk bozulabilir olması, tüketim alanlarına hızlı ulaştırılmasını gerektirmektedir. (IV) Bu sebeple süt üretiminin tüketim alanlarına yakın yerlerde yapılması daha uygundur.

Numaralandırılarak verilen cümlelerden hangileri dağıtım faaliyetleri ile ilgilidir?

- A) Yalnız I. B) Yalnız II. C) Yalnız III. D) I ve IV. E) III ve IV.

3. I. Güneydoğu Asya ülkelerinin iklim özellikleri çeltik tarımı için elverişlidir. Bu yüzden pirinç tüketimi fazladır. II. Rize ve çevresinde iklim koşulları buğday üretimi için uygun değildir. Bu bölgede buğday yerine daha çok mısır tüketilmektedir.

III. Çukurova üzerinde ekonomik değeri yüksek tarımsal ürünlerin üretilmesi sebebiyle buğday üretim alanları dardır.

Yukarıda verilenlerden hangileri doğal koşulların tüketim faaliyetleri üzerindeki etkisine örnek olarak gösterilir?

- A) Yalnız I. B) Yalnız II. C) I ve II. D) I ve III. E) II ve III.

4. Aşağıdakilerden hangisi üretim, tüketim ve dağıtım etkileyen doğal faktörlerden biri değildir?

- A) Yer şekilleri B) Su kaynakları
- C) İklim koşulları D) Bitki örtüsü
- E) Nüfus miktarı

5. Aşağıdakilerin hangisi beşerî faaliyetlerin üretim faaliyetleri üzerindeki etkisine örnek olarak gösterilir?

- A) Tropikal iklim Bölgesi içerisinde muz tarımının yaygın olması
- B) Sanayi Devrimi’nin zengin kömür ve demir yatakları çevresinde gerçekleşmesi
- C) Kağıt sanayisinin orman alanları çevresinde gelişme göstermesi
- D) İş gücünün ucuz olduğu ülkelerde sanayi üretiminin artış göstermesi
- E) Güneşli gün sayısının fazla olduğu deniz kıyılarında turizm faaliyetlerinin gelişmesi

6. I. Teknolojik gelişmeler sayesinde birim alandan alınan ürün miktarının artış göstermesi

II. Reklam ve pazarlama sektörlerinin gelişme göstermesi

III. Okyanus aşırı olarak yapılan ticari faaliyetlerde deniz yolu ulaşımının ekonomik olması

Verilenlerin hangileri dağıtım faaliyetleri ile ilgili bir durum değildir?

- A) Yalnız I. B) Yalnız II. C) I ve II. D) I ve III. E) II ve III.

7. Aşağıdakilerden hangisi üzerinde insan etkisinden söz edilemez?

- A) Seracılık faaliyetleri ile kış aylarında sebze üretiminin yapılması
- B) Tarımsal üretim üzerinde tüketim faaliyetlerinin belirleyici olması
- C) Balıkların göç yolları üzerinde bulunan boğazlarda balık çeşidinin fazla olması
- D) Mısır ve pamuk üretiminin sulama imkânları ile artış göstermesi
- E) Gıda tüketiminde reklamcılık faaliyetlerinin etkili olması

8. Aşağıda verilenlerin hangisinin ülkemizde iç ticaretin gelişmesi üzerinde olumlu katkı yaptığı söylenemez?

- A) Sanayi üretiminin artış göstermesi
- B) Ulaşım sistemlerinin gelişmesi
- C) Ekonomik gelişmişliğin sağlanması
- D) Hammaddede ihracatı yapılması
- E) Hızlı nüfus artışı

9. Ülkemizde yaz turizmi faaliyetlerinin gelişmesi üzerinde aşağıdakilerin hangisinin etkisi daha fazladır?

- A) Ulaşım sistemlerinin gelişmesi
- B) Tarım ürünlerine olan talebin artış göstermesi
- C) Madencilik faaliyetlerinin artış göstermesi
- D) İnşaat sektörünün gelişmesi
- E) Ekonomik çeşitliliğin sağlanması

10. Aşağıdakilerden hangisi tüketim faaliyetlerinin üretim faaliyetlerine olan etkisine örnek olarak gösterilir?

- A) Hazar Denizi’nden elde edilen doğalgazın Türkiye üzerinden Avrupa’ya ulaştırılması
- B) Kuş gribinin yaşandığı dönemlerde beyaz et üretiminin azalması
- C) Sebze üretiminin fazla olduğu yıllarda sebze fiyatlarının düşürülmesi
- D) Kış aylarının uzun ve soğuk geçtiği yıllarda doğalgaz ithalatının artması
- E) Kırmızı et üretiminin yetersiz olduğu yıllarda canlı hayvan ithalatının artması

I. İletişim sistemlerinin gelişmesi dağıtım üzerinde etkilidir.

II. Ulaşım sistemlerinin gelişmesi üretim faaliyetleri üzerinde olumsuz etki yapmıştır.

III. Günümüzde ulaşım faaliyetleri üzerinde doğal çevre koşulları etkili olmamaktadır.

11. Üretim, dağıtım ve tüketim faaliyetleri ile ilgili olarak yukarıda verilenlerin hangileri doğrudur?

- A) Yalnız I. B) Yalnız II. C) I ve II. D) I ve III. E) II ve III.

12. Aşağıda verilen yerlerin hangisinde gıda tüketiminin diğerlerine göre daha fazla olduğu söylenir?

- A) Güneydoğu Asya B) İskandinavya Yarımadası
- C) Avustralya D) Orta Asya
- E) Kuzey Afrika

Test 7 1. A 2. C 3. C 4. E 5. D 6. B 7. C 8. D 9. A 10. B 11. A 12. A

8- DOĞAL KAYNAKLAR

1. Dünya enerji ihtiyacının yarısından fazlası termik santrallerden karşılanmaktadır. **Bu santrallerde enerji kaynağı olarak aşağıdakilerin hangisi kullanılmaz?**

- A) Petrol B) Doğalgaz C) Taş kömürü D) Su gücü E) Linyit

2. **Aşağıda verilenlerden hangisi tükenebilen doğal kaynaklar arasında yer alır?**

- A) Su B) Rüzgâr C) Dalga
D) Güneş E) Linyit

3. Okyanuslardaki gelgit hareketi sırasında, büyük su kütleleri kıyı çizgisini aşarak karalara doğru ilerler. Okyanus kıyısında kurulan türbinler ile suyun bu gücünden yararlanılarak elektrik enerjisi üretilir. Buna gelgit enerjisi denir.

Aşağıdaki ülkelerin hangisinde gelgit enerjisi ile çalışan santrallerin varlığından söz edilemez?

- A) Çin B) ABD C) İtalya D) Fransa E) İngiltere

4. Türkiye'nin enerji üretim ve tüketim alanları arasında bir konuma sahip olması ekonomisini olumlu yönde etkilemektedir.

Bu durum üzerinde;

- I. Su II. Kömür
III. Doğalgaz IV. Petrol

Verilen doğal kaynaklardan hangisi daha fazla etkiye sahiptir?

- A) I ve II. B) I ve III. C) II ve III. D) II ve IV. E) III ve IV.

5. Bazı ülkeler doğal kaynaklarını verimli bir şekilde kullanarak gelişmelerini sağlamışlardır. **Aşağıda verilen ülkelerden hangisi bu şekilde gelişmiş ülkelere biridir?**

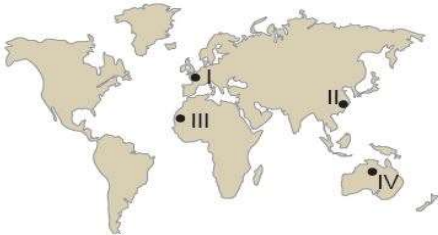
- A) Almanya B) Japonya C) Nijerya D) Hindistan E) Cezayir

6. Enerji üretimi yapan bazı santraller atmosferde kirliliğe neden olmaktadır. **Aşağıda verilenlerden hangisi bu duruma örnek olarak gösterilir?**

- A) Jeotermal enerji santrali
B) Termik enerji santrali
C) Hidroelektrik enerji santrali
D) Güneş enerji santrali
E) Rüzgar enerji santrali

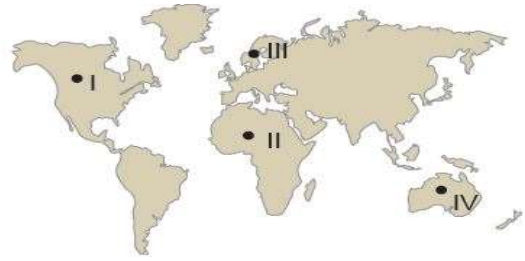
7. Sanayi üretimi ve nüfusun fazla olduğu yerlerde doğal kaynakların tüketimi daha fazladır.

Buna göre,



Haritada verilen yerlerin hangisinde doğal kaynak tüketiminin fazla olduğu söylenir?

- A) I ve II. B) I ve III. C) II ve III. D) II ve IV. E) III ve IV.



8. Orman alanları bakımından zengin olan ülkelerde mobilya, kâğıt, kereste gibi sanayi kuruluşlarının sayısı fazladır. **Buna göre yukarıda verilen sanayi kuruluşlarının hammaddesi, haritada verilen yerlerin hangisinde daha fazladır?**

- A) I ve II. B) I ve III. C) II ve III. D) II ve IV. E) III ve IV.

9. **Ilıman Okyanus İklim Bölgesi içerisinde, yer şekillerinin engebeli olduğu bir alanda enerji üretiminde aşağıdaki doğal kaynaklardan hangisinin kullanılması beklenir?**

- A) Nükleer enerji B) Hidroelektrik enerji
C) Jeotermal enerji D) Güneş enerjisi
E) Biyokütle enerjisi

10. **Aşağıdakilerin hangisi ekonomiye katkı sağlayan doğal kaynaklar arasında yer almaz?**

- A) Hawaii'de volkanik faaliyetlere bağlı olarak oluşan topraklar üzerinde endemik bitki türlerinin yaygın olması ve buna bağlı olarak turizm potansiyeli oluşturması
B) İsviçre'nin gelişmiş bankacılık sistemlerine sahip olması
C) Almanya'da akarsuların yatak eğiminin az olmasına bağlı olarak akarsu taşımacılığının gelişmesi
D) Norveç'te ilginç buzul şekilleri ve fiyortların turizm faaliyetlerine neden olması
E) Nil Nehri Havzası'nın tarımsal yönden verimli olması sebebiyle tarihte önemli bir yerleşim merkezi olması

11. Bazı ülkeler doğal kaynaklarını verimli bir şekilde kullanamamaktadır. Bu ülkelerin ihracatında doğal kaynaklarından elde ettiği yarı işlenmiş veya işlenmemiş ürünler geniş yer tutar.

Aşağıdakilerden hangisi bu ülkelere örnek olarak gösterilir?

- A) Kanada B) Güney Kore C) Çin D) Nijerya E) Japonya

12. **Aşağıdakilerin hangisi üzerinde iklimin etkisi yoktur?**

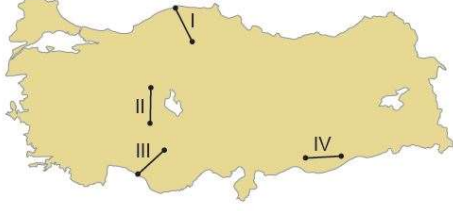
- A) Azerbaycan'ın ihracatında doğalgazın geniş yer tutması
B) Akdeniz İklim Bölgesi içindeki ülkelere Güneş enerjisi potansiyelinin yüksek olması
C) Sibirya'da bulunan tayga ormanlarının ülke ekonomisinde önemli yere sahip olması
D) Orta kuşaktaki karaların batı kıyılarında rüzgâr enerjisi potansiyelinin yüksek olması
E) Karasal İklim Bölgesi içerisinde küçükbaş hayvancılık faaliyetlerinin yaygın olması

Test 8 1. D 2. E 3. C 4. E 5. A 6. B 7. A 8. B 9. B 10. B 11. D 12. A

1. Türkiye'de coğrafi konum, yer şekilleri, üç tarafının denizlerle çevrili olması vb. özellikler dolayısıyla iklim çeşitliliğinin fazla olduğunu söyleyebiliriz.

Bu durumun aşağıda verilenlerden hangisini daha az etkilediği söylenir?

- A) Hayvancılık faaliyetleri B) Tarım ürünü çeşitliliği
C) Ulaşım imkânları D) Maden çeşitliliği
E) Turizm etkinlikleri



2. Coğrafi konum özellikleri düşünüldüğünde aynı uzunlukta ve aynı özelliklere sahip olan bu hatlardan hangi ikisinin maliyetinin diğer ikisine göre daha fazla olması beklenir?

- A) I ve II. B) I ve III. C) II ve III.
D) II ve IV. E) III ve IV.

3. Türkiye'de 1927 yılında çalışan nüfusun yaklaşık %75'i tarım sektöründe çalışıyor iken günümüzde bu oran %25'e kadar düşmüştür. **Yalnızca bu bilgiye bakılarak,**

- I. tarımsal verimliliğin azaldığı,
II. tarım alanlarının sanayi alanına dönüştürüldüğü,
III. hizmet ve sanayi sektörlerinde çalışanların oranının arttığı **çıkarımlardan hangileri yapılır?**
A) Yalnız I. B) Yalnız II. C) Yalnız III. D) I ve II. E) II ve III.

4. Türkiye ekonomisinde, enerji nakil hatlarından gelen gelir miktarı önemli bir paya sahiptir. **Türkiye'nin böyle bir gelir kaynağına sahip olmasının temel nedeni aşağıdakilerden hangisidir?**

- A) Sermaye B) Siyasi otorite
C) İş gücü D) Kültürel özellikler
E) Coğrafi konum

5. Aşağıdakilerden hangisinin Türkiye ekonomisi üzerinde olumlu katkı yapacağı söylenemez?

- A) İşsizliğin azalması
B) Kalkınma hızının artması
C) Kaynakların verimli kullanılması
D) Tarımda insan gücünün artırılması
E) Dış ticaret açığının azalması

6. Aşağıdaki tabloda Türkiye gelirlerinin bazı yıllara ait sektörel dağılımı gösterilmiştir.

Sektör	1970	1990	1995
Sanayi	%16,6	%24,8	%32
Hizmet	%46,7	%58,4	%56
Tarım	%36,7	%16,8	%12

Tablodaki bilgiler kullanılarak bu yıllar ile ilgili aşağıdakilerden hangisi hakkında çıkarım yapılabilir?

- A) Dış ticaret açığı B) Turizm geliri
C) Ticaret potansiyeli D) Doğal kaynak verimliliği

7. Türkiye'de 1923 -1932 yılları arasında uygulanacak ekonomi politikalarına aşağıdakilerden hangisinde karar verilmiştir?

- A) Sivas Kongresi B) Mudanya Mütarekesi
C) Erzurum Kongresi D) İzmir İktisat Kongresi
E) Amasya Görüşmeleri

8. Cumhuriyet'in ilk yıllarında ekonomik kalkınmanın sağlanması için tarımsal alanda çeşitli çalışmalar yapılmıştır. **Aşağıdakilerden hangisi bu dönemde tarımsal alanda kalkınmayı arttırmak amacıyla alınan önlemler arasında gösterilemez?**

- A) Toprak reformu yapılması
B) Aşar vergisinin kaldırılması
C) Karabük demir-çelik fabrikasının kurulması
D) Tarımda makineleşmenin sağlanması için teşvik verilmesi
E) Ziraat Bankası aracılığıyla çiftçilere kredi imkânı sağlanması

9. Türkiye'de 1950 – 1960 dönemindeki ekonomik gelişmeler için aşağıdakilerden hangisi söylenemez?

- A) Ulaşım faaliyetlerine önem verilmiştir.
B) Sanayi sektörüne olan yatırımlar azalmıştır.
C) Alt yapı hizmetlerine önemli yatırımlar yapılmıştır.
D) Millî Ekonomiyi Koruma Kanunu çıkarılmıştır.
E) Ekonomik kalkınma hızlanmıştır.

10. 1929 yılında bütün dünyayı sarsan ekonomik bunalım nedeniyle devletçilik politikası uygulanmaya başlanmış, yabancı rekabete karşı korunmak için bazı tedbirler alınmıştır. **Aşağıdakilerden hangisi Türkiye'nin bu dönemde yabancı rekabete karşı korunmak için aldığı tedbirlerdendir?**

- A) Ekonomide devletin etkisi azaltılmıştır.
B) Altyapı çalışmalarına önem verilmiştir.
C) Özel sektör desteklenmiştir.
D) Tarıma sanayiden daha çok öne
E) Gümrük vergileri arttırılmıştır.

11. Aşağıdakilerden hangisi Türkiye'de uygulanan ekonomi politikalarının amaçlarından biri değildir?

- A) Doğal kaynakları en verimli şekilde kullanmak
B) İstikrarlı kalkınmayı sağlamak
C) Gelir dağılımını dengelemek
D) Ucuz iş gücü sağlamak
E) Büyümeyi hızlandırmak

12. Bir yerde kış turizminin gelişebilmesi için;

- Karın yerde kalma süresi
- Yer şekilleri özellikleri
- Ulaşım imkânları
- Kar kalınlığı
- Sermaye

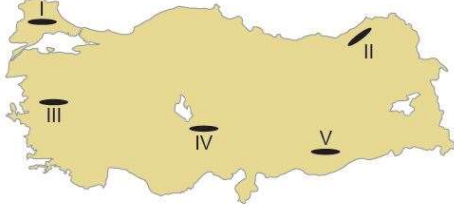
Gibi etmenlerin uygun olması gereklidir. **Buna göre aşağıda verilen yerlerden hangisinde bu turizm türünün gelişmesi daha güçtür?**

- A) Bolu B) Antalya C) Kayseri D) Bursa E) Erzurum

1. Türkiye’de tarım alanlarında verimi arttırmak için aşağıdakilerden hangisinin yapılması yanlış olur?

- A) Yaz aylarının kurak geçtiği yerlerde sulama olanaklarının artırılması
B) Otlak ve mera alanlarının tarım alanlarına dönüştürülmesi
C) Tarımda makine kullanımının yaygınlaşması
D) Ürünlere zarar veren böceklerle mücadele edilmesi
E) Toprakta eksik olan minerallerin gübre kullanımı ile Arttırılması

2. Yer şekillerinin dağlık ve engebeli, eğimin fazla olduğu yerlerde tarım alanları dardır.



Buna göre haritada verilen taralı alanlardan hangisinde tarım alanlarının daha dar olması beklenir?

- A) I. B) II. C) III. D) IV. E) V.

3. Ülkemizde tarımda makine kullanımının artış göstermesi sonucunda;

- I. kırsal kesimdeki işsizlik oranı,
II. insan gücüne duyulan ihtiyaç,
III. ürünlerin hasat süresi

verilenlerden hangilerinde artış görülmesi beklenir?

- A) Yalnız I. B) Yalnız II. C) I ve III. D) II ve III. E) I, II ve III.

4. Türkiye’de farklı iklim tiplerinin görülmesi yetiştirilen tarım ürünleri çeşitliliğini artırmıştır. Aşağıdakilerden hangisinde verilen ürünlerin ülkemizde yetiştirilmesi farklı iklim tiplerinin görüldüğüne kanıt gösterilebilir?

- A) Çay – Fındık B) Buğday - Arpa
C) Zeytin – Fındık D) Turunçgil - İncir
E) Mercimek – Arpa

5. Nadas tarımı ile ilgili olarak;

- I. Yıllık yağış miktarının az olduğu yerlerde yapılır.
II. Karadeniz İklim Bölgesinde ihtiyaç duyulmaz.
III. GAP sonucunda Şanlıurfa’da nadasa bırakılan alanlar azalmıştır.

verilenlerden hangileri doğrudur?

- A) Yalnız I. B) Yalnız II. C) I ve III.
D) II ve III. E) I, II ve III.

6. I. Üretim sürecinde doğanın dengesini bozacak ve insan sağlığına zararlı olabilecek kimyasal madde kullanmadan yapılan bir tarım şeklidir.

II. Yağışın az, sulamanın yetersiz olduğu alanlarda tarlaların bir yıl ekilip, bir yıl dinlendirilmesi şeklinde uygulanan bir tarım yöntemidir.

III. Kış sıcaklık ortalamasının 0 °C’nin altına inmediği yerlerde uygulanan tarım yöntemidir. Bu yöntem tarım ürünlerinin mevsimi dışında yetiştirilmesine olanak sağlar.

Yukarıda anlatılan tarımsal faaliyetler hangisinde doğru verilmiştir?

- I II III
A) Organik Nadas Seracılık
B) İntansif Organik Ekstansif
C) Seracılık Nadas Organik
D) Organik Ekstansif Seracılık
E) Ekstansif Nadas Organik

7. I. Yıllık sıcaklık farkının fazla olması

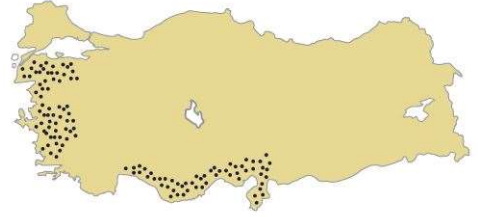
II. Kış aylarında sıcaklık ortalamasının 0°C’nin altına düşmemesi

III. Her mevsimin yağışlı olması

Yukarıdakilerden hangileri Türkiye’de muz tarımının yapıldığı alanların özelliklerinden değildir?

- A) Yalnız I. B) Yalnız II. C) Yalnız III. D) I ve III. E) II ve III.

8. Aşağıdaki haritada Türkiye’de yetiştirilen bir tarım ürününün dağılışı verilmiştir.



Bu tarım ürünü aşağıdakilerden hangisidir?

- A) Ayçiçeği B) Çeltik C) Zeytin D) Üzüm E) Fındık

9. Bazı tarım ürünleri devlet kontrolünde sınırlı alanlarda üretilmektedir. Aşağıdakilerden hangisi bu ürünlere örnektir?

- A) Zeytin B) Muz C) Haşhaş D) İncir E) Fındık

10. Türkiye’de sebze üretimi ile ilgili olarak,

I. Yaz mevsiminin uzun sürdüğü ve sulama imkânlarının olduğu yerlerde yapılır.

II. Ulaşım sistemlerinin gelişmesi ile sebzenin tüketiciye ulaşması kolaylaşmıştır.

III. Kış aylarının ılık geçtiği yerlerde seracılığa bağlı sebze üretimi artmıştır.

verilenlerden hangileri doğrudur?

- A) Yalnız I. B) Yalnız II. C) I ve II. D) II ve III. E) I, II ve III.

11. Çukurova’da yıl içinde birden fazla tarım ürünü yetiştirilmektedir. Buğday hasadı yapıldıktan sonra genellikle mısır veya soya üretimi yapılmaktadır. Bu durum üzerinde Çukurova’nın;

I. verimli alüvyal topraklara sahip olması,

II. iklim koşullarının uygun olması,

III. yer şekillerinin sade olması

özelliklerinden hangileri etkili olmuştur?

- A) Yalnız I. B) Yalnız II. C) I ve II. D) II ve III. E) I, II ve III.

12. Bir yerde doğal koşulların etkisiyle en çok yetiştirilen tarım ürününe o yer için mono kültür bitki denir.

Buna göre aşağıdakilerden hangisinde verilen tarım ürünü – yer eşleştirmesi bu duruma örnek oluşturmaz?

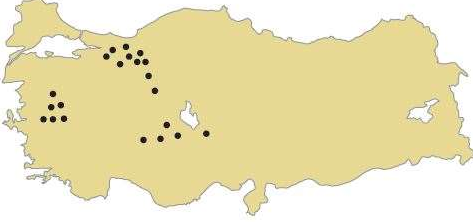
- A) Ayçiçeği – Edirne B) Fındık – Ordu
C) Muz – Anamur D) Buğday – Artvin
E) Çay – Rize

1. Ülkemizde hayvancılıktan elde edilen verimin az olduğunu söyleyebiliriz. Bu sebeple son yıllarda canlı hayvan ve et ithalatı yapılmaktadır.

Buna göre, canlı hayvan ve et ithalatını azaltmak için aşağıdakilerden hangisinin yapılması yanlıştır?

- A) Hayvan soylarının ıslah edilmesi
B) Besi hayvancılığının teşvik edilmesi
C) Hayvan hastalıkları ile mücadele edilmesi
D) Tarım alanlarının mera alanı olarak kullanılması
E) Çiftçilerin ucuz ve kaliteli yem konusunda desteklenmesi

2. Aşağıdaki haritada Türkiye'de kümes hayvancılığının gelişme gösterdiği yerler işaretlenmiştir.



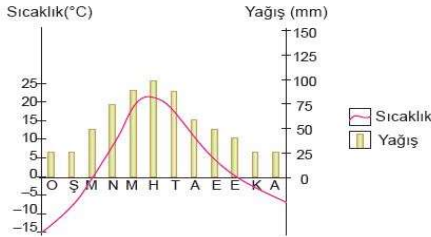
Haritaya bakıldığında kümes hayvancılığının geliştiği yerlerin temel özelliği olarak aşağıdakilerden hangisi gösterilir?

- A) Kış mevsiminin ılık geçmesi
B) Yer şekillerinin sade olması
C) Su kaynaklarına yakın olması
D) Tüketim alanlarına yakın olması
E) Tahıl üretim alanlarına yakın olması

3. I. Büyükbaş besi hayvancılığı II. Kümes Hayvancılığı
III. İpek böcekçiliği IV. Arıcılık

Yukarıda verilen hayvancılık türlerinden hangi ikisi üzerinde doğal koşulların daha fazla etkili olduğu söylenir?

- A) I ve II. B) I ve III. C) II ve III. D) II ve IV. E) III ve IV.



4. Yukarıda sıcaklık yağış grafiği verilen yerde;

I. sığır, II. keçi, III. koyun

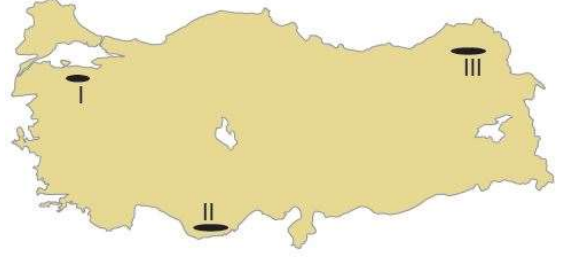
verilen hayvancılık türlerinden hangisinin daha fazla gelişmesi beklenir?

- A) Yalnız I. B) Yalnız II. C) I ve II. D) I ve III. E) II ve III.

5. Balıklar, mevsim değişimleri sonucunda soğuk yerlerden sıcak yerlere doğru göç etmektedirler. Bu nedenle balıkların göç yolları üzerinde bulunan yerlerde balıkçılık faaliyetleri yoğunudur. **Buna göre aşağıda verilen yerlerden hangisinde balıkçılık faaliyetlerinin daha yoğun olması beklenir?**

- A) Batı Anadolu kıyıları B) Çanakkale Boğazı
C) Karaburun Yarımadası D) Antalya Körfezi
E) Çukurova Deltası

6. Bir yerin konum özelliklerine bakılarak bu yerde yaygın olarak yapılan hayvancılık türü hakkında çıkarımda bulunulabilir. **Buna göre;**



Haritada verilen yerlerde yaygın olarak yapılan hayvancılık faaliyetleri aşağıdakilerden hangisinde doğru eşleştirilmiştir?

- I II III
A) İpek böcekçiliği Büyükbaş Kümes
B) İpek böcekçiliği Kıl keçisi Büyükbaş
C) Büyükbaş Koyun Tiftik keçisi
D) Koyun Arıcılık İpek böcekçiliği
E) Kümes İpek böcekçiliği Koyun

7. Türkiye'de aşağıda verilen hayvanlardan hangisinin popülasyonu daha fazladır?

- A) Sığır B) Manda C) Koyun D) Kıl keçisi E) Tiftik keçisi

8. Ülkemizde sünger avcılığı daha çok aşağıdaki kıyılardan hangisinde yapılmaktadır?

- A) Çarşamba B) Silifke C) Bodrum
D) Sinop E) Adapazarı

9. Tarımsal nüfusumuzun önemli bir kısmı büyükbaş ve küçükbaş hayvancılıkla uğraşmaktadır. Bu hayvancılık faaliyetleri çeşitli sanayi kollarına hammadde kaynağı sağlamaktadır. **Buna göre Türkiye'de aşağıdaki sanayi kollarından hangisinin ham madde ihtiyacı küçükbaş hayvancılıktan sağlanır?**

- A) Yünlü dokuma B) İpekli dokuma
C) Kendir dokuma D) Pamuklu dokuma
E) Keten dokuma

10. Ülkemiz doğal bitki örtüsünün çeşitliliğine bağlı olarak arıcılık bakımından oldukça elverişli şartlara sahiptir. Çiçekli bitkilerin ve çam ağaçlarının varlığı arıcılık faaliyetlerini olumlu yönde etkilemiştir.

Buna göre aşağıdaki yerlerden hangisinde arıcılık faaliyetlerinin gelişmesi için gerekli olan doğal koşulların en az olduğu söylenebilir?

- A) Muğla ve çevresi B) Rize ve çevresi
C) Hakkari ve çevresi D) Ordu ve çevresi
E) Konya ve çevresi

11. Türkiye'de hayvansal ürünlerin üretiminde yıldan yıla büyük dalgalanmaların görülmesi aşağıdakilerden hangisine kanıt oluşturur?

- A) Doğal koşullara bağlı yapıldığına
B) İç tüketimin fazla olduğuna
C) Dış piyasada çok fazla talep görmediğine
D) Hayvan soylarının ıslah edilemediğine
E) Elde edilen verimin düşük olduğuna