

TYT DENEME 9



1. Yukarıda Ortadoğu ülkelerine ait dilsiz harita gösterilmiştir. Haritaya göre aşağıdakilerden hangisi **doğru değildir**?
- A) 5 numaralı ülke Hac ve umreden önemli gelir elde eder.
B) 7 numaralı ülke sınırları içindeki yapay su yolundan önemli gelir elde eder.
C) 6 numaralı ülkenin güneyi çöl kuzeyindeki Atlas dağlarının Akdeniz'e bakan yamaçlarında Akdeniz iklimi görülür.
D) 1 numaralı ülke ilk çağdan beri yerleşmenin olduğu Mezopotamya'da bulunur.
E) 4 Numaralı ülkede dünyanın önemli petrol rezervi olduğundan güçlü ekonomiye sahiptir.

2. Türkiye'de Doğu Karadeniz kıyı kesimine ait aşağıdaki özelliklerin hangisinde, yer şekillerinin etkisi yoktur?
- A) Yol yapım maliyetlerinin yüksek olmasında
B) Kıyıyla iç kesimler arasındaki iklim farkında
C) Nüfusun, dar kıyı kesiminde yoğunlaşmasında
D) Yer altı kaynaklarının dağılışında
E) Tarım alanlarının az ve dağınık olmasında

Kent	21 Haziran	21 Aralık
K	11	13
L	14	10
M	19	5

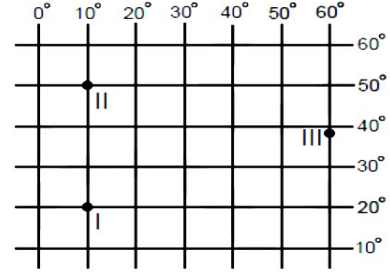
3. Yukarıdaki tabloya göre aşağıdakilerden hangisi **söylenemez**?
- A) Ekvatora en yakın merkez K'dır.
B) Yerçekiminin en az olduğu merkez M'dir.
C) L kenti M'ye göre ekvatora daha yakındır.
D) M kenti yıl boyunca güneş ışınlarını L'ye göre daha eğik açıyla alır.
E) Gece gündüz süre değişimi en belirgin M'dedir.

4. Aşağıda, dört farklı iklim tipinin özellikleri verilmiştir.

- Bütün yıl yağışlı ve sıcaklık daima 20°C'nin üzerinde
- Her mevsim yağışlı, kışlar ılık, yazlar serin
- Yıllık yağış miktarı 250 mm'nin altında, sıcak ve kurak
- Sıcaklık daima 0°C'nin altında, çok soğuk ve kurak

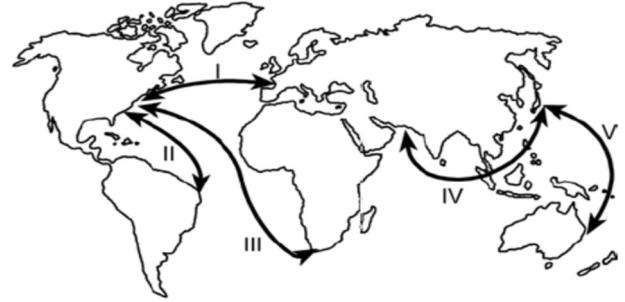
Aşağıdakilerden hangisi bu iklim tiplerinden biri değildir?

- A) Okyanusal iklim B) Ekvatorial iklim
C) Muson iklimi D) Çöl iklimi
E) Kutup iklimi

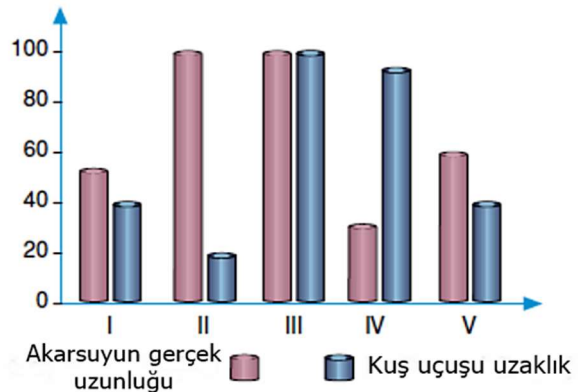


5. Türkiye'nin coğrafi koordinatları göz önüne alındığında, yukarıda numaralarla gösterilen merkezlerden hareket eden uçakların Türkiye'ye ulaşabilmeleri için hangi yönü izlemeleri gerekmektedir?

- | I | II | III |
|--------------|-----------|-----------|
| A) Doğu | Kuzeydoğu | Kuzey |
| B) Kuzeydoğu | Doğu | Kuzeybatı |
| C) Kuzey | Batı | Güneydoğu |
| D) Batı | Doğu | Kuzeybatı |
| E) Kuzeydoğu | Güneydoğu | Batı |



6. Deniz yolu ulaşımı ile dünyanın farklı yerleri arasında önemli ticari ilişkiler kurulmaktadır. Bölgeler arası etkileşimin fazla olduğu yerler arasında deniz yolu ulaşımı da gelişmiştir. Buna göre yukarıdaki haritada gösterilen güzergâhlardan hangisi, en fazla gelişen deniz yolu durumundadır?
- A) I B) II C) III D) IV E) V



7. Yukarıda beş farklı ırmağın doğduğu yer ile döküldüğü yer arasındaki gerçek uzunluk ile kuş uçuşu uzunlukları gösterilmiştir. Eğimin azaldığı yerde akarsuyun salınımlar yaparak aktığı bilindiğine göre hangi ırmağın olduğu bölgede yer şekillerinin sade olduğu söylenebilir?
- A) I B) II C) III D) IV E) V