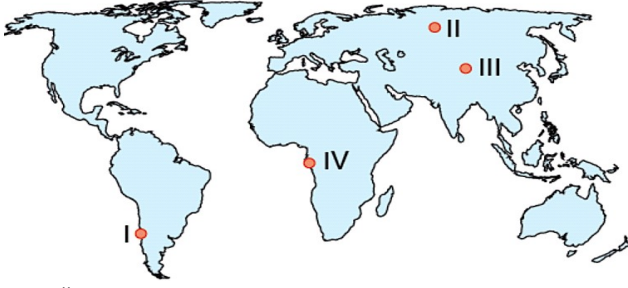


TYT DENEME 10



1. Aşağıdaki haritada bazı yerler numaralandırılarak gösterilmiştir. Haritada verilen merkezlerle ilgili aşağıda verilen ifadelerden hangisi doğru **değildir**?

- A) IV. de Dünya'nın dönüş hızı diğer merkezlerden daha fazladır.
 B) Ardışık iki meridyen arasındaki uzaklık ekvattan II. nin bulunduğu bölgeye gidildikçe daralır.
 C) Enleme bağlı, yer çekiminin etkisiyle cismin ağırlığı II. de en fazladır.
 D) I. merkezde bulunan biri Kutup Yıldızı'nı göremez.
 E) Aralık ayında II. merkezde yaşanan gündüz süresi diğer merkezlere göre daha uzundur.

2. Sınıfta bazı öğrenciler Dünya'nın hareketleri ünitesiyle ilgili olarak hazırladıkları proje ödevlerini sunmuşlardır.

Murat: Dünya'nın Güneş'e en yakın olduğu tarih 3 Ocak, en uzak olduğu tarih ise 4 Temmuz'dur.

Elif: Dünya'nın yörüngesi elips değil de tam bir daire olsaydı mevsimler oluşmazdı.

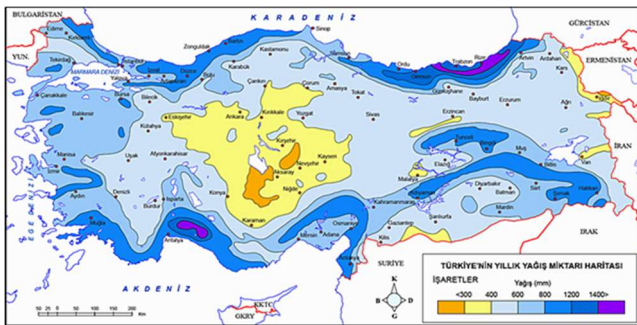
Ali: Dünya'nın eksen eğikliği sonucunda mevsimler oluşur.

Erkan: 21 Haziran ve 21 Aralık tarihlerinde Dünya'da yaşanan gece ve gündüz süre farkları en azdır.

Merve: Dünya'nın kendi eksenini etrafındaki hareketi sonucunda 30 ve 60 enleminde dinamik basınç kuşakları oluşur.

Buna göre hangi öğrencilerin aktardığı bilgiler öğretmen tarafından doğru kabul **edilmemiştir**?

- A) Murat ve Elif
 B) Elif ve Ali
 C) Ali ve Erkan
 D) Erkan ve Elif
 E) Murat ve Merve

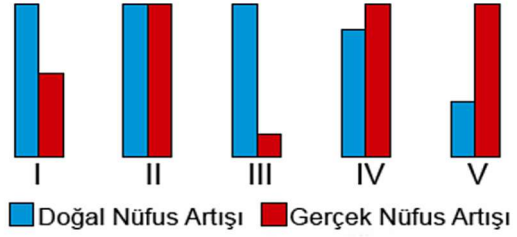


3. Yukarıdaki Türkiye haritasında yağışın dağılışı verilmiştir. Yağış miktarının fazla olduğu yerlerin en belirgin özelliği nedir?

- A) Deniz kıyısında olmaları
 B) Yüksek sıradağların etekleri olması
 C) Batı Rüzgârlarının etkisinde kalmaları
 D) Yeryüzü şekillerinin sade olması
 E) Toprak örtüsünün verimli olması

4. Toprağın oluşum süreçleri hakkında verilen bilgilerden hangisi **yanlıştır**?

- A) Eğimli yamaçlarda toprak oluşumu yavaştır, toprak örtüsü incedir.
 B) Dünya genelinde dağların güney yamacında bakı etkisi dolayısıyla toprak oluşumu daha hızlıdır.
 C) Karasal yerlerde fiziksel çözülme; nemli bölgelerde daha çok kimyasal çözülme yaygındır.
 D) Humus toprağın rengini koyulaştırdığından humuslu topraklar hem koyu renkli hem de verimlidir. Örneğin Çernozyum topraklar
 E) Ana kayanın yapısı toprağın temel özelliğini oluşturur.

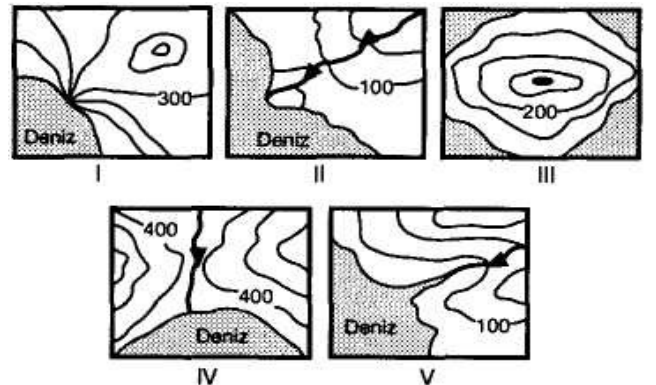


5. Yukarıda doğal ve gerçek nüfus artış hızları verilen ülkelerin hangisinde dışarıya verilen göç oranı **daha yüksektir**?

- A) I
 B) II
 C) III
 D) IV
 E) V

6. Türkiye'deki doğal bitki örtüsünün özellikleri ve dağılışı ile ilgili olarak aşağıdakilerden hangisi **söylenemez**?

- A) Kızılçamın Dünya'daki en geniş yayılış alanı Türkiye'dedir.
 B) Türkiye'de en fazla orman Karadeniz kıyılarında yer alır.
 C) Türkiye'de yer şekillerinin engebeli ve yüksek olması bitki çeşitliliğini artırmıştır.
 D) Ülkemizdeki endemik bitkiler yükselti sebebiyle en fazla Doğu Anadolu'da yaygındır.
 E) Türkiye, bitki türü çeşitliliği bakımından dünyanın en zengin ülkelerinden biridir.



7. Yukarıda verilen izohips haritaları sırasıyla aşağıda verilen yer şekillerinden hangisine aittir?

- A) Falez Delta Doruk Vadi Haliç
 B) Delta Delta Doruk Haliç Vadi
 C) Haliç Vadi Doruk Delta Falez
 D) Falez Delta Çanak Boyun Haliç
 E) Vadi Haliç Delta Doruk Falez