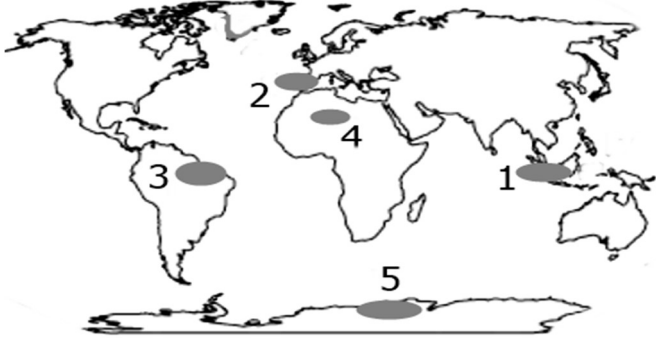


# TYT DENEME 1

1. Aşağıdaki haritada bazı işaretli alanlar gösterilmiştir.

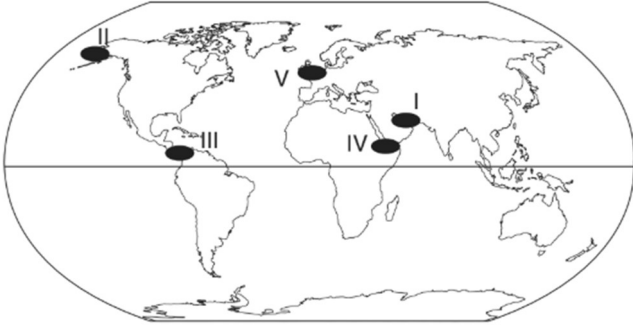
- I. Nüfusun ve yerleşik hayatın olmadığı
- II. Deprem, tsunami, volkanizma gibi jeolojik afetlerin yoğun olarak yaşandığı
- III. Maki bitki örtüsü ve yaz kuraklığının görüldüğü
- IV. Aşırı kuraklık ve sıcaklıktan dolayı nüfusun çok seyrek olduğu



Harita üzerindeki işaretli noktaların hangisiyle ilgili bilgi verilmemiştir?

- A) 1 B) 2 C) 3 D) 4 E) 5

2. Tekinerhoca coğrafya dersinde dünya üzerinde öneme sahip olan bazı kanal ve boğazlar hakkında sorular sormuştur. Bu sorulara cevap olarak öğrenciler aşağıdaki haritayı kullanarak çeşitli bilgiler vermişlerdir.



**Esra:** Dünya petrol taşımacılığında büyük öneme sahip olup Basra Körfezi'ni Hint Okyanusu'na bağlar.

**Şeyma:** Uluslararası tarih değiştirme çizgisi buradan geçer.

**Elif:** Havuzlu geçiş sistemine sahip olan bu yol dünya ticaretinde büyük öneme sahiptir.

**Kübra:** İngiltere ile Fransa arasında yer alan bu su yolunda aynı zamanda Manş Tüneli bulunmaktadır.

Haritadaki işaretli su yolları ile öğrencilerin verdiği bilgiler eşleştirildiğinde hangisi bunların dışında kalır?

- A) I B) II C) III D) IV E) V

3. I. Rize çevresinde çay tarımı yoğun olarak yapılmaktadır.

II. Arazinin genç oluşumlu yapıya sahip olması deprem riskini artırır.

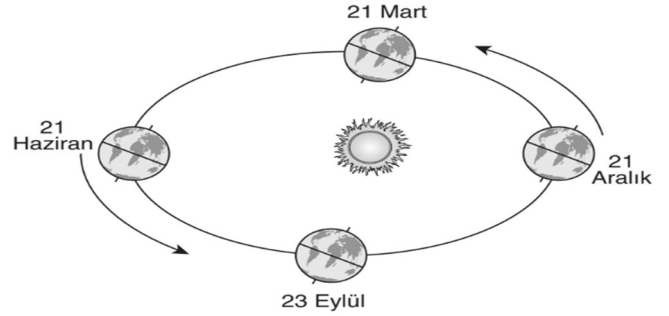
III. Sanayi tesislerinden çıkan karbon gazları küresel ısınmanın nedenlerindedir.

IV. Kuzey Afrika ve Orta Avustralya'da kuraklığa dayanıklı bitkiler yetişmektedir.

Coğrafyanın üç ilkesi vardır: nedensellik, karşılıklı ilgi ve dağılış. Buna göre yukarıda verilen yargılardan hangilerinde coğrafyanın dağılış ilkesinden bahsedilmiştir?

- A) Yalnız I B) I ve II C) II ve III  
D) II, III ve IV E) I ve IV

4. Aşağıda dünyanın yıllık hareketini yaparken izlemiş olduğu elips biçimindeki yörüngesi gösterilmiştir.



21 Mart'tan 23 Eylül'e kadar geçen sürede aşağıdakilerden hangisinin meydana geldiği söylenemez?

- A) Güney yarım kürede geceler gündüzlerden uzundur.  
B) Güneş ışınları 10° kuzey enlemine iki kez dik düşer.  
C) Türkiye'de en sıcak günler yaşanır.  
D) Kuzey kutup dairesinde 24 saat gündüz yaşanır.  
E) Öğlak dönencesinde öğlen vakti gölge oluşmaz.

5. Doğada kendiliğinden oluşan ve büyük oranda can ve mal kaybına neden olan doğa olaylarına doğal afet denir. Doğal afetler kendi içerisinde jeolojik, jeomorfolojik, hidrolik ve klimatolojik kökenli olmak üzere gruplara ayrılır. Aşağıda verilen doğal afetlerden hangisinde klimatolojik faktörlerin doğrudan veya dolaylı etkisinin varlığından bahsedilemez?

- A) Sel ve taşkın B) Heyelan C) Tsunami  
D) Kuraklık E) Çığ

**CEVAPLAR: 1C 2D 3E 4E 5C**