

11. SINIF COĞRAFYA (BÖLGELER VE ÜLKELER –DOĞAL KAYNAKLAR, ÇEVRE VE TOPLUM)

- I. Ülkelerin ve bölgelerin alışkanlıkları ve gelenekleri
- II. Ülkelerde nüfus yoğunluğunun farklılık göstermesi
- III. Giyim kuşam, müzik, mimari, din ve dil özellikleri
- IV. Ülkelerin yeraltı zenginliklerinin oluşmasında etkili olan faktörler

1. Yukarıda verilenlerden hangisi kültürel coğrafyanın inceleme alanına girmez?

- A) Yalnız I B) Yalnız III C) I ve II D) II ve IV E) III ve IV

- I. Coğrafi özellikler nedeniyle hem göçebe hem yerleşik özellikler taşıması
- II. Birçok farklı kültürü etkilemesi ve onlardan etkilenmesi
- III. Köklerini tarihin derinliklerinden aldığından durağan bir yapıya sahip olması
- IV. Bulduğu bölgenin coğrafi şartlarına bağlı olarak denizcilik faaliyetlerinin gelişmemiş olması

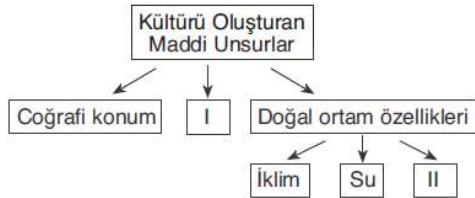
2. Yukarıda verilenlerden hangileri Türk kültürünün genel özellikleri arasında yer almaz?

- A) Yalnız III B) Yalnız IV C) I ve II D) II ve III E) III ve IV

İnsanlar göç etmeden yaşamak için doğal yiyeceklerin ve hayvanlarının bulunduğu, verimli, sulak alanların yer aldığı doğal şartları uygun yerleşme yerleri bularak bugünkü köklü kültürlerin de oluşmasını sağlamışlardır.

3. Aşağıda verilenlerden hangisi kültürlerin oluşmasını sağlayan ilk yerleşim alanlarından biri değildir?

- A) Kuzey Avrupa B) Nil vadisi
C) Akdeniz havzası D) Güneydoğu Asya
E) Hindistan



4. Yukarıdaki kavram haritasında I ve II numaralı yerlere aşağıdakilerden hangisinin yazılması doğru olur?

- | | |
|--------------------|----------------|
| I | II |
| A) Ahlak kuralları | Dil |
| B) Komşu kültürler | Simgeler |
| C) Din ve inançlar | Dünya görüşü |
| D) Simgeler | Toprak |
| E) Simgeler | Örf ve adetler |

- I. Hem göçebe hem de yerleşik özellikler taşıması
- II. Çok köklü ve eski olması
- III. Savaşçılık özelliklerinin belirgin olması
- IV. Güneş inancına ait simgeler içermesi
- V. Komşu olduğu kültürlerden etkilenmemesi

5. Yukarıda verilenlerden hangilerinin Türk kültürünün genel özellikleri arasında yer aldığı söylenemez?

- A) I ve II B) I ve III C) II ve III D) III ve V E) IV ve V

6. Türkler dünya coğrafyası üzerinde sık sık yurt değiştirerek çok geniş bir alana yayılmışlar, birçok kültürü etkilemiş ve farklı kültürlerden etkilenmişlerdir. Buna göre, çok geniş bir alana yayılan Türk kültürünün izlerini aşağıda verilen ülkelerden hangisinde geniş alanlarda görmek mümkün değildir?

- A) Hindistan B) Makedonya C) İsveç D) İran E) Arnavutluk

7. Aşağıda Türklerin yaptığı mimari eserler ile bu eserlerin bulunduğu ülke eşleştirmeleri verilmiştir.

I. Taç Mahal – Pakistan

II. Kavalalı Mehmet Ali Paşa Camisi – Mısır

III. Selimiye Camisi – Türkiye

IV. İshak Paşa Sarayı – İran

V. Mostar Köprüsü – Bosna Hersek

Buna göre, verilen eşleştirmelerden hangilerinin doğru olduğu söylenemez?

- A) Yalnız I B) Yalnız V C) I ve IV D) II ve III E) IV ve V

8. Günümüzde ülkeler ve farklı coğrafi bölgeler arasındaki ticaretin hızla gelişmesinde;

- I. ulaşım sistemlerindeki teknolojik gelişmeler,
- II. hızlı nüfus artışına bağlı tüketimin artması,
- III. iş gücü fazlalığının ülkelerde sorun oluşturması,
- IV. iç ve dış göçlerin yaşanması,

Faktörlerinden hangilerinin etki yaptığı söylenebilir?

- A) I ve III B) II ve V C) III ve IV D) IV ve V E) I ve II

9. Dünyada hiçbir ülke kendi ihtiyaçlarını kendisi üretecek kaynak ve kapasiteye sahip değildir. Ülkeler, sahip oldukları fazla kaynakları, ürettikleri malları başka ülkelere satıp ihtiyaçları olan ürünleri de başka ülkelere alırlar. Bu durum sonucunda küresel ticaret ortaya çıkar.

Aşağıdakilerden hangisi dünyadaki önemli ticaret bölgeleri arasında gösterilemez?

- A) Batı Avrupa B) Doğu Asya C) Kuzey Amerika
D) Orta Afrika E) Güneydoğu Asya

10. Dünya geneline bakıldığında ham madde üretim ile Pazar alanlarının bulunduğu yerler genel olarak farklılık göstermektedir. Bu durum, aşağıda verilenlerden hangisinin ortaya çıkmasında doğrudan etkili olmuştur?

- A) Nüfus artış hızının düşmesi
B) Dünya genelinde enerji talebinin azalma göstermesi
C) Turizm faaliyetlerine yapılan yatırımların artması
D) İstihdam ve ekonomik gelir kaynaklarının azalması
E) Ülkeler ve bölgeler arasında küresel ticaretin gelişmesi

11. Aşağıda verilenlerden hangisi bir bölgede sanayi ve ticaret faaliyetlerinin geliştiğini kanıtlamaz?

- A) Ulaşım ağı sıklığının fazla olması
B) Ham madde tüketiminin fazla olması
C) İşsizlik oranlarının artış göstermesi
D) Enerji tüketiminin her geçen gün artış göstermesi
E) Çevresindeki bölgelerden fazla oranda göç alması

12. Turizm faaliyetlerinin yoğun olarak yapıldığı bölgelerde;

- I. ticaret, II. istihdam,
III. inşaat, IV. işsizlik

Özelliklerinden hangilerinin artış göstermesi o bölgenin ekonomisine katkı sağlamaz?

- A) Yalnız II B) Yalnız IV C) I ve II D) II ve III E) III ve IV

13. Aşağıda verilenlerden hangisinin insanları turizm faaliyetlerine yönelten faktörlerden biri olduğu söylenemez?

- A) Kongre ve toplantılara katılma
B) Dinlenme ve eğlenme isteği
C) Uluslararası sportif aktivitelere katılma
D) Sanayi tesislerini görme
E) Aile, dost ve akraba ziyaretleri

– Dünyada ilk ve en eski ulusal parktır.

– Gayzerleri, sıcak akarsuları, çağlayanları, volkanları, jeotermal kaynakları, boz ayıları, kurtları, bizonları ile meşhurdur.

14. Yukarıda özellikleri verilen ulusal park aşağıdakilerden hangisidir?

- A) Yellowstone Ulusal Parkı
B) Serengeti Ulusal Parkı
C) Ruaha Ulusal Parkı
D) Selous Ulusal Parkı
E) Büyük Kanyon Ulusal Parkı

15. Aşağıdaki tabloda 2004 yılında bazı ülkelere gelen turist sayısı ve elde edilen toplam gelir gösterilmiştir.

Ülke	Gelen Turist Sayısı (milyon)	Turizm Geliri (milyar dolar)
Fransa	76,0	42,3
İspanya	55,6	47,9
ABD	49,4	81,7
Çin	46,8	29,3
İtalya	36,5	35,4

Buna göre, tablo incelendiğinde hangi ülkede turist başına elde edilen gelirin daha fazla olduğu söylenebilir?

- A) Fransa B) İspanya C) ABD D) Çin E) İtalya

16. Çok eski medeniyetlerin kurulduğu alanlardaki antik şehir kalıntıları, tarihi ve dini yapılar, heykeller ve birçok eserin sergilendiği müzeler turizm amaçlı günümüzde kullanılmaktadır. Buna göre, aşağıdaki ülkelerden hangisinde bu tür turizm kaynaklarının daha az olduğu söylenebilir?

- A) Mısır B) Kanada C) Türkiye D) Peru E) Çin

17. Bir bölgedeki turizm gelirlerinin artış göstermesinde aşağıdakilerden hangisinin etkili olduğu söylenemez?

- A) Tarihi ve kültürel değerlerin bulunması
B) Kongre ve toplantıların yapılması
C) Sanayi faaliyetlerinin yoğunlaşmış olması
D) Korunaklı doğal güzelliklerin bulunması
E) Belirli aralıklarla sportif aktivitelerin yapılması

- I. Mısır II. İspanya
III. İran IV. Arjantin

18. Yukarıdaki ülkelerden hangilerinde turizm ülke ekonomisi içinde çok önemli bir yere sahiptir?

- A) Yalnız III B) I ve II C) I ve III D) II ve III E) III ve IV



19. Aşağıdaki Dünya haritasında büyük pazar alanları taranarak gösterilmiştir.

Buna göre, pazar alanlarının bu bölgelerde yer almasında;

- I. tüketici nüfusun fazla olması,
II. ticaret faaliyetlerinin yoğunlaşması,
III. imalat sanayisinin yetersiz olması,
IV. ortalama yaşam süresinin kısa olması

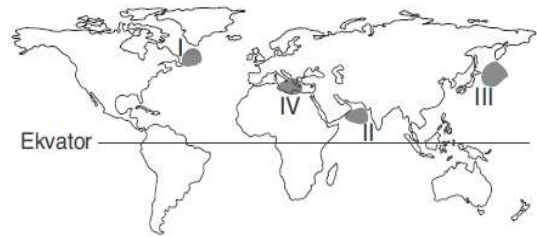
Özelliklerinden hangilerinin etkili olduğu savunulabilir?

- A) Yalnız III B) Yalnız IV C) I ve II D) I ve III E) II ve IV

20. Buğday, ekonomik değeri çok yüksek bir tarımsal ürün olmamasına rağmen dünya ticaretinde önemli bir yere sahip ham maddedir. Bu durum üzerinde aşağıdakilerden hangisi daha fazla etkili olmaktadır?

- A) Uzun süre bozulmadan depolanabilmesi
B) Temel besin maddeleri grubunda bulunması
C) Yetiştirme alanının dar olması
D) Stratejik öneme sahip bir ürün olması
E) Çeşitli endüstri dallarında ham madde olarak kullanılması

21. Okyanus akıntılarının karşılaşma alanları balıkların göç alanı olmalarından dolayı balıkçılık üretimi yapılmasına büyük avantaj sağlamaktadır.



Buna göre, haritada numaralı alanlardan hangilerinin önemli balıkçılık üretim alanı olduğu söylenebilir?

- A) Yalnız I B) Yalnız IV C) I ve II D) I ve III E) II ve IV

- I. Yün – Avustralya II. Buğday – Rusya
III. Turuncgil – Hollanda IV. Pamuk – Brezilya
V. Petrol – İran VI. Fındık - Türkiye

22. Yukarıda verilen ham madde ve üretici ülke eşleştirmelerinden hangileri yanlıştır?

- A) Yalnız II B) I ve III C) II ve V D) III ve IV E) IV ve V

23. Dünya ticaretine baktığımızda, ülkelerin birbiriyle ticaret yapmalarının temel nedeni kendi ülkelerinde üretilmeyen veya çok büyük maliyetler gerektiren malları daha ucuz almaktır. **Buna göre, Türkiye ile Fransa arasında yapılan ticarete aşağıdaki mallardan hangisinin en az bulunması beklenir?**

- A) Otomobil B) Turunçgil C) Fındık
D) İlaç E) Kozmetik ürün

24. Dünyada hiçbir ülke kendi ihtiyaçlarını kendisi üretecek kaynak ve kapasiteye sahip değildir. Ülkeler kendi memleketlerinde üretilmeyen veya çok büyük maliyetler gerektiren ürünleri daha ucuz temin etmek isterler.

Yalnız bu bilgi dikkate alındığında Japonya'nın

- I. demir ve bakır, II. konserve balık,
III. optik eşya, IV. altın ve platin

Ürünlerinden hangilerini dış pazardan alması beklenmez?

- A) Yalnız II B) Yalnız IV C) I ve II D) II ve III E) III ve IV

- I. Yeni istihdam alanlarının oluşturulması
II. Dış ticaret açığının ekonomi üzerindeki olumsuz etkisini azaltması
III. Farklı kültürlerin ve coğrafyaların tanınmasını sağlaması
IV. Ülkeler arası ilişkilerin gelişmesini sağlaması

25. Yukarıda verilenlerden hangileri turizmin ekonomik faaliyetler üzerindeki etkisine örnek olur?

- A) Yalnız I B) Yalnız IV C) I ve II D) II ve III E) III ve IV

26. Yellowstone ulusal parkı, dünyanın ilk ulusal parkıdır. Park bozulmamış bir ekosisteme sahiptir. Gayzerleri, sıcak su kaynakları, volkanları ve çağlayanları ile meşhurdur. Boz ayılar, kurtlar ve Kanada geyiklerine ev sahipliği yapar.

Yukarıda verilen bilgilerden yararlanılarak park bölgesiyle ilgili;

- I. Boz ayılar ve kurtlar doğal ortamında yaşamaktadır.
II. Bölgede çok sayıda konaklama tesis bulunur.
III. Park alanında depresellik fazladır.
IV. Park dünyanın yedi harikası arasında yer alır.

Bilgilerinden hangilerine ulaşamaz?

- A) Yalnız I B) Yalnız II C) II ve III D) II ve IV E) III ve IV

27. Bir bölgenin ticaret kapasitesi, o bölgede bulunan ülkelerin gelişmişlik seviyelerine göre değişmektedir. Ticaret kapasitesi fazla olan bölgeler yatırımların hem kaynağı hem de yoğunlaştığı ve fazla miktarda üretimin yapıldığı yerlerdir.



Buna göre, yukarıdaki harita üzerinde gösterilen bölgelerden hangisindeki ticaret yoğunluğu daha azdır?

- A) I B) II C) III D) IV E) V

28. Bir ülkenin gerçek ve iz düşüm yüz ölçümü arasındaki farkın fazla olması hidroelektrik potansiyelini arttırmaktadır. Norveç, İsviçre ve Türkiye'nin hidroelektrik potansiyelleri yüksektir. **Buna göre, aşağıdakilerden hangisi üç ülke içinde söylenebilir?**

- A) Akarsu rejimleri düzenli, debileri yüksektir.
B) Şiddetli deprem ve volkanizma etkisindedirler.
C) Yüksek ve engebeli arazilere sahiptirler.
D) Tarım arazileri geniş ve verimlidir.
E) Yarımada üzerinde bulunurlar.

29. Turizm faaliyetleri çevre ile sürekli etkileşim halindedir. Bu tür faaliyetlerin çevre üzerinde olumsuz etkisi olabileceği gibi olumlu etki de yapabilir. **Buna göre, aşağıdakilerden hangisinde turizmin çevre üzerindeki olumlu bir etkisinden bahsedilmiştir?**

- A) İtalya'nın Akdeniz kıyılarında inşa edilen oteller ülkenin turizmden önemli miktarda döviz elde etmesine olanak sağladı.
B) Her yıl çok sayıda turist ziyaret ettiği "Tac Mahal" dünyanın yeni yedi harikası arasına girmeyi başardı. Tarihi yapının egzoz gazından zarar görmemesi için çevredeki geniş bir alan trafiğe kapatıldı.
C) Japon kültürünü yakından tanımak isteyen çok sayıda ziyaretçi her yıl Sappora Kar festivalinin yapıldığı günlerde Japonya'ya akın etti.
D) Suudi Arabistan hac dönemini kapsayan kısa bir sürede milyonlarca kişi tarafından ziyaret edildiğinden ülkede dünyanın en büyük hava limanlarından birisi inşa edildi.
E) 18 km uzunluğundaki Patara plajının ince kumları deniz kaplumbağalarının yumurtaları için uygundur. Ancak çevredeki turistik tesislerin ışıkları yumurtadan çıkan kaplumbağalar için yanıltıcı olabilmektedir. Bu nedenle her yıl yüzlerce kaplumbağa yavrusu denize ulaşmadan ölmektedir.

30. Levha sınırları ve fay hatlarının olduğu alanlarda deprem riski yüksektir. **Buna göre;**

- I. Kanada II. İsveç
III. Çin IV. Avustralya
V. İtalya VI. Rusya

Ülkelerinden hangilerinde deprem riski daha yüksektir?

- A) I ve II B) I ve IV C) II ve V D) III ve V E) IV ve V

31. Akdeniz'deki bir limandan hareket eden bir yük gemisinin okyanusa çıkabilmesi için izleyeceği yol güzergahları içerisinde aşağıdaki boğaz ya da kanallardan hangisinin bulunması beklenemez?

- A) Cebelitarık Boğazı B) Kiel Kanalı
C) Malakka Boğazı D) Korint Kanalı
E) Süveyş Kanalı

32. Dünya üzerindeki örgütler küresel ve bölgesel örgütler olarak ikiye ayrılır. Buna göre aşağıdakilerden hangisi dünya çapında faaliyet gösteren küresel örgütlerden biri değildir?

- A) NATO B) OPEC C) NAFTA D) IMF E) OECD

33. Okyanusa kıyısı bulunan ülkelerde gel-git etkisiyle oluşan haliçli kıyılar görülebilmektedir. İç denizlere kıyısı bulunan ülkelerde de gel-git etkisinin azlığı delta oluşumuna imkân sağlar. Örneğin Atlas Okyanusuna kıyısı bulunan Hollanda'da haliçler varken ülkemiz iç denizlere kıyısı olduğu için deltalar bulunur. **Buna göre aşağıda verilen ülkelerden hangisinde coğrafi konumuna bağlı olarak hem haliçli kıyılar hem de deltalar bulunmaktadır?**

A) İtalya B) Mısır C) Fransa D) Portekiz E) İngiltere

34. Az gelişmiş ülkelerle ilgili,

- I. Sermaye birikimi yetersiz, milli gelir düşüktür.
- II. Tarımsal üretimde iklime bağımlılık fazladır.
- III. İş gücü noksanlığı yeni endüstri kollarının gelişmesini engeller.
- IV. Nüfus artış hızının yüksek olması temel ihtiyaçların karşılanmasında güçlük çıkartır.
- V. Ülke ekonomisine birincil faaliyetlerin katkısı azdır.

Yargılarından hangileri yanlıştır?

A) I ve II B) I ve III C) II ve V D) III ve V E) II, III ve IV

35. Ülkelerin ekonomik, tarım, demografik ve kültürel özellikleri gelişmişlik seviyeleri hakkında bilgi verir.

Buna göre, aşağıdakilerden hangisi az gelişmiş bir ülkenin kültürel özellikleri arasında yer alır?

- A) Kişi başına düşen milli gelirin düşük olması
- B) Temel ihtiyaçların karşılanmasında güçlük çekilmesi
- C) Tarımsal faaliyetlerde iklime olan bağımlılığın fazla olması
- D) Eğitimin yetersiz ve okuryazar oranının çok düşük olması
- E) Sanayi faaliyetlerinde teknolojik imkanlardan yeterince Yararlanılamaması

36. İnsani gelişme indeksi, her ülkedeki yaşam uzunluğu, okuryazar oranı, eğitim ve yaşam düzeyi doğrultusunda hazırlanan bir ölçümdür. Bir ülkenin gelişmiş, gelişmekte olan ya da gelişmemiş olduğu bu indeksteki değerlendirmeleri neticesinde yapılmaktadır. **Buna göre, aşağıdaki ülkelerden hangisi yüksek düzeyde insani gelişim indeksine sahip ülkelerden biri değildir?**

A) Avustralya B) Arjantin C) İsveç D) Fransa E) Kanada

37. Aşağıda iki farklı ülkenin tarım faaliyetleriyle ilgili özellikler verilmiştir.

- I. Esas olarak geçim türü tarım yapan çiftçiler bulunur. Kendi ailelerin ihtiyacını karşılamak için üretim yaparlar.
- II. Modern tarım teknikleri kullanılarak tarım alanlarından yüksek verim alınmaktadır. Esas amaç ürünün ihracıdır.
- III. Ada ülkesi olan burada yüksek teknoloji ürünleri üretilir. Balıkçılık gelişmiştir.

Buna göre, aşağıdakilerden hangisi bu grupların yer aldığı ülkelere örnek olarak verilebilir?

- | | I | II | III |
|--------------|-----------|-----------|-----------|
| A) Hindistan | Hollanda | Japonya | Japonya |
| B) Kanada | Japonya | İngiltere | İngiltere |
| C) Hollanda | İngiltere | Almanya | Almanya |
| D) Hindistan | Japonya | İngiltere | İngiltere |
| E) Hollanda | Hindistan | Japonya | Japonya |

38. Orta Doğu'nun dünya açısından çok önemli stratejik bir bölge olmasında;

- I. kutsal mekanları barındırması,
- II. önemli petrol rezervlerine sahip olması,
- III. nüfus potansiyelinin yüksek olması,
- IV. önemli ticaret yollarının kavşak noktasında bulunması

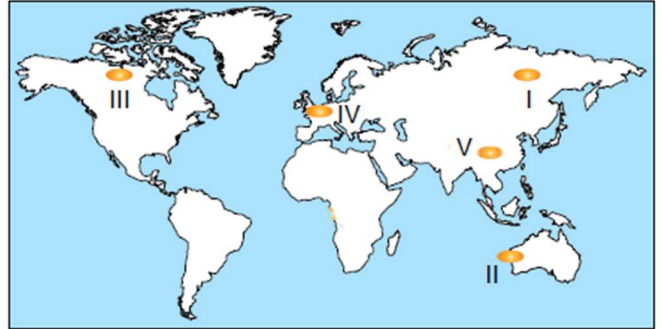
Özelliklerinden hangileri etkili olmuştur?

A) I ve II B) I ve III C) II ve III D) I, II ve IV E) II, III ve IV

39. Küresel boyuttaki siyasal örgütlerden olan Birleşmiş Milletlerin kuruluş amacı aşağıdakilerden hangisidir?

- A) II. Dünya Savaşı sonrası ortaya çıkabilecek anlaşmazlıkları çözmek
- B) Üye ülkeler arasında düşük vergili ticaret yapmak
- C) Petrol fiyatlarının ve üretim miktarlarının belirlenmesini sağlamak
- D) ABD'nin ekonomik kriz yaşayan ülkelere parasal desteğini sağlamak
- E) Dünya genelinde çevre olaylarına duyarlılığı arttırmak

40. Evlerde, sanayi tesislerinde, motorlu taşıtlarda ve enerji santrallerinde petrol ve kömür gibi yakıtların kullanımı sonucu ortaya çıkan gazların meydana getirdiği dumanın sisle karışması sonucunda oluşan hava kirliliğine **Londra tipi hava kirlenmesi** denir.



Buna göre, haritada numaralandırılarak verilen alanlardan hangisinde Londra tipi hava kirliliğinin daha fazla olduğu söylenebilir?

A) I B) II C) III D) IV E) V

41. Londra tipi hava kirliliğinin yaşandığı bir yerde aşağıdakilerden hangisinin yaşanması beklenemez?

- A) Asit yağmurlarının yaşanması
- B) Sanayi tesislerinde üretimin artması
- C) Toprağın asitlenerek verimsizleşmesi
- D) Solunum yolu hastalıklarının artması
- E) Çevre ve hava kirliliğinin artması

42. Greenpeace örgütünün çalışma alanları arasında aşağıdakilerden hangisinin bulunduğu söylenemez?

- A) Nükleer silahlanma ve kirliliğe son verilmesi
- B) İklim değişimlerini durdurabilmek için yenilenebilir enerjilerin teşvik edilmesi
- C) Kıtlık sorunu yaşayan ülkelere yardım yapılması
- D) Ticari amaçlı hayvan avının kontrol altına alınması
- E) Zehirli kimyasalların ortadan kaldırılması ve doğanın korunması

43. Aşağıdaki ülkelerden hangisi Karadeniz Ekonomik İş Birliği Teşkilatı içinde kurucu üyelere birisi değildir?

A) Bulgaristan B) Polonya C) Rusya D) Ermenistan E) Romanya

I. Avrupa Birliği

II. Karadeniz Ekonomik İş Birliği Teşkilatı

III. Dünya Bankası

IV. Petrol İhraç Eden Ülkeler Örgütü

V. Uluslararası Para Fonu

44. Yukarıda verilen örgütlerden hangilerine Türkiye'nin üye olduğu söylenebilir?

A) I ve II B) II ve IV C) III ve V D) II, III ve V E) III, IV ve V

45. Aşağıda verilenlerden hangisi Avrupa Birliği'nin kurucu üyeleri arasında yer almaz?

A) İngiltere B) Fransa C) İtalya
D) Belçika E) Hollanda

46. Aşağıda verilen küresel örgütlerden hangisinin devalüasyonlara engel olmak, ülkelerin ödeme gücünü çekmemesi için gerekli çözümleri üretmek gibi amaçları olduğu söylenebilir?

A) Dünya Bankası (WB)
B) Ekonomik Kalkınma ve İş Birliği Örgütü (OECD)
C) Uluslararası Para Fonu (IMF)
D) Kuzey Atlantik Anlaşması Örgütü (NATO)
E) Karadeniz Ekonomik İş Birliği Teşkilatı (KEİ)

47. Birleşmiş Milletlerin uluslararası sorunlarla ilgilenmek ve Genel Kurul'a yardımcı olmak üzere kurulmuş birçok yardımcı organı bulunmaktadır. Aşağıda verilenlerden hangisi BM'ye bağlı yardımcı organlardan biri değildir?

A) Bilim ve Kültür Örgütü (UNESCO)
B) Çocuk Yardım Fonu (UNICEF)
C) Kalkınma ve İş Birliği Örgütü (OECD)
D) Gıda ve Tarım Örgütü (FAO)
E) Dünya Sağlık Örgütü (WHO)

48. Dünya genelinde bazı bölgeler zengin su kaynaklarına sahip olmasına rağmen, nüfus miktarının çok fazla olması nedeniyle kişi başına düşen kullanılabilir içme suyunun az olduğu ülkeler içerisinde yer almaktadır.

Buna göre, aşağıda verilen ülkelerden hangisinde bu durum gözlenebilmektedir?

A) Hindistan B) Rusya C) Kanada D) Libya E) Suriye

49. Kömür, demir - çelik endüstrisinin ham maddesi olması nedeniyle özellikle sanayi devrimiyle önemi artmış ve ülkeler arasında paylaşımı sorunlara neden olarak sıcak çatışmaları ortaya çıkarmıştır. Aşağıda verilen hangi iki ülke arasında bu tür çatışmaların geçmiş dönemlerde yaşandığı söylenebilir?

A) Rusya - Afganistan B) İsrail - Suriye
C) Fransa - Almanya D) Irak - Kuveyt
E) Filistin - İsrail

50. Yeryüzünde ortaya çıkan çevre sorunlarını etkilerine göre yerel, bölgesel ya da küresel olarak ayırmak mümkündür.

Buna göre, aşağıdaki çevre sorunlarından hangisinin daha çok insanı etkilediği söylenebilir?

A) Marmara Denizi'nin kirlenmesi
B) Meksika Körfezi'ne atık suların karışması
C) Aral Gölü'nün kuruması
D) Nil nehrinin taşkın yapması
E) Ozon tabakasının seyrelmesi

51. Aşağıdakilerden hangisi metropollerde hava kirliliğini artırıcı bir durum değildir?

A) Benzinli araç kullanımının fazla olması
B) Konut sayısına bağlı olarak yakıt tüketiminin fazlalığı
C) Elektrikli tren ve tramvay kullanımının yaygınlaşması
D) Endüstri işletmelerinin yoğun olması
E) Sanayi tesislerinin atık kontrollerinin düzenli yapılamaması

52. Gelişmişlik seviyeleri göz önüne alındığında aşağıdaki ülkelerden hangisinde teknolojik atıkların daha az probleme neden olması beklenir?

A) Japonya B) Mısır C) Çin D) ABD E) İtalya

53. Petrol ve kömür gibi fosil enerji kaynaklarının yeryüzünde aşırı kullanımı karbon dengesinin bozulması ve çeşitli çevre sorunlarının ortaya çıkmasına neden olur.

Buna göre,

I. termik santrallerde fosil yakıt kullanılması,

II. taşıt sayısının hızlı biçimde artış göstermesi,

III. geleneksel tarım uygulamalarına ağırlık verilmesi

Faktörlerinden hangileri karbon dengesinin bozulmasına neden olmaktadır?

A) Yalnız I B) Yalnız III C) I ve II D) II ve III E) I, II ve III

54. Aşağıdakilerin hangisi çevre kirliliğinin göstergesi olamaz?

A) Okyanus ve denizlerde plastik kirliliğinin görülmesi
B) Atmosferde karbon oranının artması
C) Toprakta ve besinlerde zararlı maddelerin birikmesi
D) Solunum ve sinir sistemi rahatsızlıklarının artması
E) Verimli tarım alanlarına yapılan seraların artması

55. Aşağıdakilerin hangisi bir bölgede sanayileşmenin hız kazanmasıyla ortaya çıkabilecek sorunlardan biri değildir?

A) Meslek liseleri gibi teknik okulların artması
B) Yeşil alanların azalması ve hava kirliliği
C) Solunum yolu ve alerji rahatsızlıkları
D) Deniz canlılarında azalma ve ekosistemin bozulması
E) Sanayi bölgelerine yoğun göçlerin yaşanması

56. Petrol İhraç Eden Ülkeler Örgütü (OPEC) dünya petrol rezervlerinin üçte ikisine sahip beş ülke tarafından 1960 yılında kurulan bir örgüttür. Aşağıda verilenlerden hangisi bu örgütün kurucu ülkeleri arasında yer almaz?

A) Kuveyt B) Rusya C) Venezuela
D) İran E) Suudi Arabistan

- I. Orman alanlarının imar ve iskana açılması
- II. Milli park alanlarının oluşturulması
- III. Dünya nüfusunun hızla artması
- IV. Geri dönüşüm projelerinin yaygınlaştırılması

57. Yukarıda verilenlerden hangilerinin canlı yaşamı üzerinde olumsuz etkisinden söz edilemez?

- A) Yalnız I B) Yalnız IV C) I ve II D) II ve IV E) III ve IV

58. Kuraklık, buharlaşma miktarının yağış miktarından fazla olmasıyla ortaya çıkan ve tarımı olumsuz etkileyen bir durumdur.



Buna göre, haritada işaretli alanlardan hangisinde böyle bir durumun yaşandığı söylenemez?

- A) I B) II C) III D) IV E) V

59. Türkiye’de kırsal alanda yaşanan önemli çevre sorunlarından biri anız yakmaktır. Aşağıdakilerden hangisi bu uygulamanın neden olduğu çevre sorunlarından değildir?

- A) Erozyonun artması
B) Topraktaki organik maddelerin azalması
C) Tabiattaki bazı canlıların ölmesi
D) Tarıma ayrılan arazi oranının azalması
E) Orman yangını riskinin artması

60. Ekosistem, denizlere ve nehirlere dökülen atıkları belli bir süre içinde temizleyebilme özelliğine sahiptir. Ancak artan dünya nüfusu ve atık miktarı ekosistemin gücünü aşmaktadır ve atıklar çevresel etkilere neden olmaktadır.

Aşağıdakilerden hangisi atıkların çevresel etkileri içinde daha az zarara sahiptir?

- A) Yangınlar ve patlamalar
B) Küresel ısınma
C) Yeraltı sularındaki kimyasal kirlilik
D) İstenmeyen kokular
E) Hava kirliliği

61. Aşağıdakilerin hangisi teknolojik gelişmelerin neden olduğu çevre sorunlarından biri değildir?

- A) Toprak kirliliğinin artması
B) Su kaynaklarında zehirli maddelerin görülmesi
C) Havada karbondioksit birikimi ve sülfurik asit yoğunlaşması
D) Deniz canlılarının bünyelerinde zehirli atıkların birikmesi
E) Mercan resiflerinde yoğunluğun artması

62. Aşağıdakilerden hangisinin insanların ekosistemler üzerindeki olumsuz etkisini arttırdığı söylenemez?

- A) Nüfusun hızla artması
B) Şehirlerin mekânsal olarak büyümesi
C) Teknolojik gelişmelerin hız kazanması
D) Çayır – mera ve yaylaların aşırı otlatılması
E) Deniz kıyısındaki tuzlalardan tuz elde edilmesi

63. Bir bölgede ormanların tahribatına bağlı olarak ortaya çıkacak sorunlar arasında;

- I. Canlıların yaşam alanının daralması
- II. erozyonun hızlanması,
- III. toprakta radyoaktif madde birikiminin artması,
- IV. Tarım alanlarında verimin düşmesi

durumlarından hangileri gösterilebilir?

- A) Yalnız III B) Yalnız IV C) I ve II D) II ve IV E) I, III ve IV

64. **KYOTO PROTOKOLÜ** Japonya’da pek çok devletin bir araya gelmesiyle imzalanan protokoldür. Dünyada fosil yakıtlarının kullanılmasını azaltmayı, karbon salınımı sıfır olan enerji kaynaklarını teşvik etmektedir. Aşağıdakilerden hangisi Türkiye’de bu amaçla yapılan çalışmalardan biri olamaz?

- A) Alternatif enerji kaynaklarına yönelmek
B) Termik santrallerde kapasite artışına gitmek
C) Çoruh nehri üzerinde hidroelektrik santral inşa etmek
D) Batı Anadolu’da rüzgâr türbini kurulumuna izin vermek
E) Güneş sistemlerinden elektrik enerjisi üretmek amacıyla çalışmalar yapmak

65. Sanayileşme, nüfus artışı, tarım çalışmalarında zirai ilaç kullanımı gibi nedenlerle sularda kirlenme görülmektedir.

Buna göre, ülkemizde sanayinin dağılımı düşünüldüğünde aşağıda eşleştirilen akarsulardan hangisinde kirliliğin daha az boyutta olduğu söylenebilir?

- A) Çoruh – Aras
B) Bakırçay – K. Menderes
C) Susurluk – Sakarya
D) Meriç – Gediz
E) Seyhan – Ceyhan

– Tarımsal faaliyetler konusunda çiftçilerin eğitilmesi

– Endüstriyel atıkların arıtılmadan çevreye bırakılmaması

– Gübre kullanımında bilinçli hareket edilmesi

– Otlaklar ve ormanların korunması ve ağaç dikilmesi

66. Yukarıda verilenlerin tümünün öncelikle aşağıdaki çevre sorunlarından hangisini önlemeye yönelik olduğu savunulabilir?

- A) Asit yağışları
B) Radyoaktif kirlenme
C) Çarpık kentleşme
D) Toprak kirliliği
E) Hava kirliliği

67. Fosil yakıtların yakılmasından, motorlu taşıtlardan ve termik santrallerden çıkan kükürtdioksit ve azot oksitlerin atmosferde suyla tepkimeye girmesi sonucu asit yağmurları oluşabilmektedir. Aşağıda verilenlerden hangisi asit yağmurlarının etkileri arasında yer almaz?

- A) Solunum yolu hastalıkları ve akciğer kanserinde artışa yol açması
B) Toprak, göl ve akarsularda asit oranının artması
C) Tarihi ve kültürel yapıtların zarar görmesi
D) Tarım ürünleri ve ormanlara zarar vermesi
E) Göl ve akarsularda su seviyesinin yükselmesi

68. I. Kömür II. Petrol
III. Güneş IV. Gelgit
V. Rüzgar VI. Jeotermal

Yukarıda verilenlerden hangilerinin kullanımının artması, çevre üzerinde daha fazla olumsuz etkiye neden olur?

- A) I ve II B) I ve IV C) II ve III D) III ve IV E) IV ve V



69. Yukarıdaki haritada numaralandırılmış alanlardan hangisinde nüfusun fazlalığı nedeniyle doğal kaynak tüketimi daha fazladır?

- A) I B) II C) III D) IV E) V

70. İnsanların ihtiyaçlarını karşılamak amacıyla doğal çevreye olan müdahaleler çevre duyarlılığının göz ardı edilmesi durumunda pek çok sorun oluşturmaktadır. Buna göre, aşağıda verilenlerden hangisinin sorunlara neden olması beklenmez?

- A) Gölü besleyen akarsulardan aşırı su çekilmesi
B) Taş ocaklarının patlayıcı kullanılarak işletilmesi
C) Kaynak kullanımında sürdürülebilir yöntemlerin yaygınlaştırılması
D) Tarım alanı açmak için ormanların tahrip edilmesi
E) Yeraltı kuyularından bol miktarda su çekilmesi

71. Kazakistan ile Özbekistan arasında yer alan Aral Gölü'nde 20. yüzyılın en önemli ekolojik felaketlerinden biri yaşanmaktadır. Göl 1960'lı yıllarda dünyanın dördüncü büyük gölüyken 2000'li yıllarda büyük bir hızla çöle dönmüştür.

Bu durumun oluşması üzerinde,

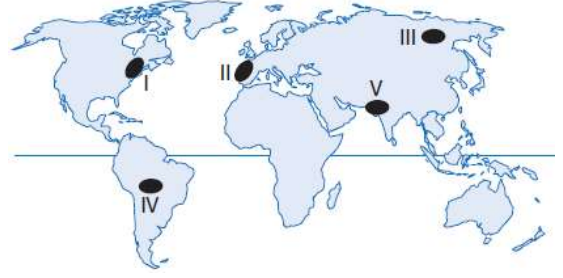
- I. gölü besleyen akarsular üzerinde barajların yapılması,
II. pamuk tarlalarını sulamak amacıyla çok sayıda sulama kanalının inşa edilmesi,
III. bölgede kış mevsiminin oldukça soğuk geçmesi

Faktörlerinden hangilerinin etkili olduğu söylenebilir?

- A) Yalnız I B) Yalnız II C) Yalnız III D) I ve II E) II ve III

72. Aşağıdakilerden hangisi, çevre sorunlarının çözümünde yapılması gerekenler arasında gösterilemez?

- A) Etkin bir çevre denetim sistemi oluşturulmalıdır.
B) Plansız kentleşmeler yerine planlı şehir alanları oluşturulmalıdır.
C) Tarım alanlarında zirai ilaç gübre kullanımı azaltılmalıdır.
D) Çöplerin kaynağında ayrıştırılması için çalışmalar yapılmalıdır.
E) Şehirler sanayi tesislerinin çevresine kurulmalıdır.



73. Haritada işaretli yerlerden hangileri dünya ticaretinin yoğunlaştığı alanlardan değildir?

- A) I ve II B) II ve III C) III ve IV D) III ve V E) IV ve V

74. Dünyada küresel ticaretin büyük bir kısmı Kuzey Amerika, Batı Avrupa, Orta Doğu, Doğu ve Güneydoğu Asya ülkelerinde yoğunlaşmıştır. Aşağıdakilerden hangisinin bu yoğunlaşmanın nedeni olduğu savunulamaz? (ÖSS)

- A) Yatırım ve üretimini fazla olması
B) Büyük pazarların buralarda toplanması
C) Yer altı ve yerüstü kaynakların zengin olması
D) Ulaşım imkanlarının çeşitli olması
E) Nüfus artış hızının yüksek olması

75. OECD 1960 yılında imzalanan Paris Sözleşmesi'ne dayanılarak gelişmiş ve gelişmekte olan ülkeler arasında ekonomik kalkınmayı öncelemek amacıyla kurulmuştur. Türkiye'de bu örgüte üyedir. Aşağıda verilenlerden hangisi OECD'nin hedefleri arasında gösterilemez?

- A) Tüm üye ülkelerde insanları yaşam standartlarını artırmaya çalışmak
B) İşsizliğin ortadan kaldırılmasına yönelik çalışmalar yapmak
C) Dünya ticaretinin gelişmesine katkı sağlamak
D) Nükleer silahlanmaya son vermek
E) Gelişmeyi sağlayan ekonomik politikalara destek vermek

- I. İngiltere II. Türkiye
III. Mısır IV. Almanya

76. Yukarıdakilerden hangilerinde "Dünya'nın Yedi Harikası" olarak nitelendirilen eserlerden bulunmaktadır?

- A) I ve II B) I ve III C) II ve III D) II ve IV E) III ve IV

77. Aşağıdakilerden hangisi turizmin olumsuz etkilerindendir?

- A) Dünya barışına katkı sağlar.
B) Geleneksel yaşam biçimi değişir.
C) Yeni meslek grupları ortaya çıkar.
D) Ekonomiye katkı sağlar.
E) Bilgi alışverişi gerçekleşir.

78. Aşağıdakilerden hangisi, insanın çevreye verdiği olumsuz etkilere örnek olamaz?

- A) Barajlar yaparak hidrolojik döngüyü etkilemesi
B) Ormanları tahrip etmesi
C) Suni gübre ve zirai ilaçla toprağın dengesini bozması
D) Hayvanları evcilleştirmesi
E) Orman yangınlarına neden olması

79. Aşağıdakilerden hangisi diğer dördünün sebep olan faktör olarak değerlendirilebilir?

- A) Asit yağmurları
- B) İklim değişikliği
- C) Hastalıkların artması
- D) Küresel ısınma
- E) Hava kirliliği

80. Aşağıdakilerden hangisi yanlış arazi kullanımına örnek değildir?

- A) Dilovası'nda sanayi kuruluşlarının yoğun olması
- B) Silifke Deltası'nın tarım için kullanılması
- C) Afyonkarahisar'da organize sanayi bölgesinin şehrin en çok rüzgâr aldığı tarafa kurulması
- D) Kayseri şehrinin ovaya kurulmuş olması
- E) Hatay'da Amik Gölü'nün kurutulmasıyla tarım alanına dönüştürülmesi

81. "Sürdürülebilir kalkınma yaklaşımı", insan sağlığını ve doğal dengeyi koruyarak sürekli olarak ekonomik kalkınmayı ve gelecek kuşaklara daha sağlıklı bir çevre bırakabilmeyi öngörür. Buna göre,

- I. doğal kaynakları koruma,
 - II. teknoloji ile doğaya hâkim olma,
 - III. doğal kaynak kullanımında verimliliği sağlama,
 - IV. doğal kaynaklar yerine suni kaynakları tercih etme
- görüşlerinden hangileri bu yaklaşımın amaçlarındandır?**
- A) Yalnız II
 - B) I ve II
 - C) I ve III
 - D) II ve IV
 - E) III ve IV

82. Almanya, Avrupa Kıtası'nın ortasında yer alan ve yaklaşık 83 milyon nüfusu ile Rusya'dan sonra Avrupa'nın en kalabalık ülkesidir. Almanya ile ilgili olarak aşağıda verilen bilgilerden hangisi yanlıştır?

- A) Sanayi faaliyetleri için gerekli olan ham maddeyi çoğunlukla başka ülkelere alır.
- B) Nüfus miktarı fazla olmasına rağmen nüfus artış hızını artırıcı politika uygular.
- C) Avrupa'da sanayileşme hareketini başlatan ilk ülkedir.
- D) İhtiyacı olan iş gücünün bir bölümü diğer ülkelere karşılanır.
- E) Günümüzde dünyanın önemli ekonomilerinden biridir.

83. Aşağıdakilerden hangisi kültürle ilgili verilmiş yanlış bir bilgidir?

- A) Meskenler, kültürün maddi öğeleridir.
- B) Dil, kültürün manevi öğelerindedir.
- C) Kültür, toplumların yaşam tarzıdır.
- D) Kültürün manevi öğeleri değişmez.
- E) Kültür, toplumdan topluma farklılık gösterir.

84. Tarihte birçok devlete yurtluk yapmış ve Dicle ile Fırat nehirleri arasında olduğu için dünyanın en verimli topraklarının bulunduğu için dünyanın en verimli topraklarının bulunduğu coğrafi bölge üzerinde kurulmuş uygarlıklara MEZOPOTAMYA uygarlıkları denir.

- Aşağıdakilerden hangisi bu bölgede kurulmuştur?
- A) Lidyalılar
 - B) Sümerler
 - C) Romalılar
 - D) Çinliler
 - E) Hititler

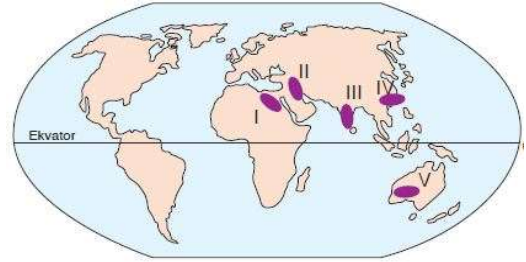
- I. Maya
- II. İnkâ
- III. Mezopotamya
- IV. Mısır
- V. Hint
- VI. Aztek

85. Yukarıda verilen medeniyetlerden hangileri Asya Kıtası'nda kurulmuştur?

- A) I ve II
- B) II ve III
- C) III ve IV
- D) III ve V
- E) III, IV ve V

86. Aşağıdakilerden hangisi Anadolu'nun çeşitli medeniyetler tarafından tercih edilmesinin nedenleri arasında gösterilemez?

- A) Ticaret yolları üzerinde bulunması
- B) İklim koşullarının elverişli olması
- C) Su kaynaklarının yeterli olması
- D) Önemli yer altı kaynaklarına sahip olması
- E) Verimli tarım alanlarının bulunması



87. Yukarıda işaretli alanlardan hangisi dünyada ilk uygarlıkların kurulduğu yerlerden değildir?

- A) I
- B) II
- C) III
- D) IV
- E) V

88. Çeşit bakımından zengin olan doğal kaynaklar değişik kriterler göz önüne alınarak sınıflandırılır. Tükenebilir ve tükenmeyen doğal kaynaklar gibi. Buna göre, aşağıdakilerden hangisi, belirli şartlar dahilinde kendini yenileyebilen kaynaklar içerisinde yer alır?

- A) Doğalgaz
- B) Toprak
- C) Petrol
- D) Güneş
- E) Kömür

89. Türk kültüründe çadırın toplumun bir parçası olmasının temel sebebi aşağıdakilerden hangisidir?

- A) Pamuk tarımının fazla olması
- B) Büyük baş hayvancılık faaliyetinin yaygın olması
- C) Göçebe yaşam tarzı
- D) Karasal iklim özelliklerinin görülmesi
- E) Tarım koşullarının uygun olması

90. Geri dönüşüm uygulamaları ülkelerin gelişmişlik durumuna göre değişir. Çünkü geri dönüşüm teknoloji ve insanların bilinçlenmesiyle başarılıdır. Buna göre aşağıdaki ülkelerden hangisinde geri dönüşüm çalışmalarının daha etkili sürdürülmesi beklenir?

- A) İsveç
- B) Pakistan
- C) Nijerya
- D) İran
- E) Meksika

CEVAPLAR

- 1D 2A 3A 4D 5E 6C 7C 8E 9D 10E 11C 12B 13D 14A 15C 16B
17C 18B 19C 20B 21D 22D 23B 24D 25C 26D 27E 28C 29B 30D
31C 32C 33C 34D 35D 36B 37A 38D 39A 40E 41B 42C 43B
44D 45C 46C 47C 48A 49C 50E 51C 52B 53C 54E 55A 56B 57D
58A 59D 60D 61E 62E 63C 64B 65A 66D 67E 68A 69D 70C 71D
72E 73C 74E 75D 76C 77B 78D 79E 80B 81C 82C 83D 84B 85D
86D 87E 88B 89C 90A