

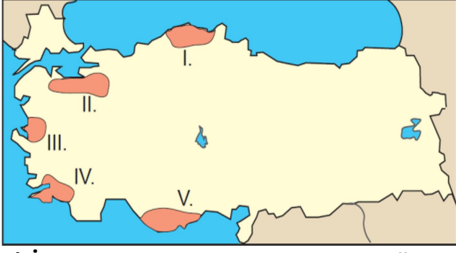


11. SINIFLAR COĞRAFYA DERSİ II. DÖNEM II. YAZILI ÖRNEĞİ

Adı ve Soyadı:

Sınıf:

No:



1) İklim özellikleri göz önüne alındığında haritada işaretli merkezlerden hangisinde orman yangını riski diğerlerine göre daha azdır?

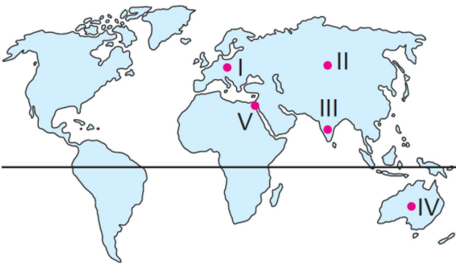
- A) I B) II C) III D) IV E) V

2) Tektonik depremler Türkiye'de en fazla can ve mal kaybına neden olan doğal afettir. Aşağıda verilen illerden hangisinde tektonik depremlerin görülme olasılığı en azdır?

- A) İzmit B) Erzincan
C) Bingöl D) Adana
E) Şanlıurfa

3. Dünyada küresel ticaretin büyük bir kısmı Kuzey Amerika, Batı Avrupa, Orta Doğu, Doğu ve Güneydoğu Asya ülkelerinde yoğunlaşmıştır. Aşağıdakilerden hangisinin bu yoğunluğun nedeni olduğu savunulamaz?

- A) Yatırım ve üretimin fazla olması
B) Büyük pazarların buralarda toplanması
C) Yer altı ve yer üstü kaynaklarının zengin olması
D) Ulaşım olanaklarının çeşitli olması
E) Nüfus artış hızının yüksek olması



4) Yukarıdaki harita üzerinde işaretli yerlerden hangisinde Türk kültürüne ait izlere rastlanmaz?

- A) I B) II C) III D) IV E) V

5) Aşağıdaki ülkelerden hangisi Dünya'nın önemli orman ürünleri üreticileri arasında yer almaz?

- A) Avusturalya B) Kanada
C) Brezilya D) Rusya
E) Finlandiya

I. Dil II. Din ve inanç
III. Coğrafi konum IV. Bitki örtüsü
6) Yukarıda verilenlerden hangileri kültürü oluşturan manevi unsurlar arasında yer almaz?

- A) I ve II B) I ve III
C) II ve III D) II ve IV
E) III ve IV

7) Aşağıdakilerden hangisi insanları turizm faaliyetlerine yönelten faktörler arasında gösterilemez?

- A) Aile, dost ve akraba ziyaretleri yapma
B) Tarihi ve kültürel değerleri görme
C) Kongre ve toplantılara katılma
D) Maden ve enerji kaynakları bulma
E) Sportif aktivitelere katılma

I. Keops Piramidi

II. Kral Mozoles'in Mezarı

III. Babil'in Asma Bahçeleri

IV. Artemis Tapınağı

V. Iskenderiye Feneri

8) Yukarıdaki Dünya harikalarından hangileri Anadolu sınırları içerisindedir?

- A) I ve II B) II ve III
C) II ve IV D) III ve IV
E) II ve V

9. Aşağıdakilerden hangisi, Türk kültüründe doğal ortam özelliklerinin etkisine örnek olarak verilebilir?

- A) Geniş alanlara yayılmış olması
B) Köklü bir geçmişe sahip olması
C) İnsan sevgisini esas almış olması
D) Diğer kültürlerden daha önce yerleşik hayata geçmeleri
E) Düşünce tarzı ile örf ve geleneklerinde bozkırın izlerinin görülmesi

10) İngiltere'de sanayi devrimi yaşanmadan önce ortalama şehir sayısı 159 iken bir asır geçtikten sonra bu rakam 460'a kadar çıkmıştır. Buna göre aşağıdakilerden hangisi bu durumun temel nedenleri arasında gösterilebilir?

- A) Sanayileşme ile başlayan göç hareketleri
B) Sağlık hizmetlerinin yaygınlaşması
C) Ailelerin fazla çocuk sahibi olma istekleri
D) Nüfus artış hızının düşmesi
E) Çocuk ölümlerinin azalması

11) Sanayi devriminin İngiltere'de ortaya çıkmasında;

I. Demokratik bir yönetim tarzına sahip olması,
II. Zengin kömür yataklarının olması,
III. Büyük sömürge ülkeler topluluğuna sahip olması,
IV. Tarihinin köklü bir geçmişe sahip olması faktörlerinden hangilerinin doğrudan etkisi vardır?

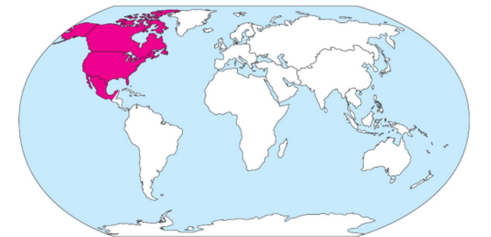
- A) I ve II B) I ve III
C) II ve III D) II ve IV
E) III ve IV

12) Belçika ve Lesotho'daki (Afrika) tarımsal faaliyetler karşılaştırıldığında aşağıdakilerden hangisi söylenemez?

- A) Belçika'da tarımda çalışan nüfus daha azdır.
B) Belçika'da tarım geleneksel yöntemlerle yapılır.
C) Tarımın ekstansif tekniklerle yapıldığı Lesotho'da birim alandan elde edilen verim düşüktür.
D) Belçika'da birim alandan elde edilen verim oldukça yüksektir.
E) Lesotho topraklarının büyük çoğunluğu tarımsal faaliyetler için uygun arazilerden oluşur.

13) Evlerin ısıtılmasında kullanılan fosil yakıtların yanması sonucu ortaya çıkan gazların oluşturduğu dumanın sisle karışmasıyla aşağıdaki kirlenme türlerinden hangisi meydana gelir?

- A) Los Angeles tipi hava kirlenmesi
B) Radyoaktif Kirlenme
C) Su Kirlenmesi
D) Toprak Kirlenmesi
E) Londra tipi hava kirlenmesi



14) Etki alanı yukarıdaki haritada taralı olarak gösterilen uluslararası örgüt aşağıdakilerden hangisidir?

- A) KEİ B) NATO
C) NAFTA C) OECD
E) GREENPEACE

I. Ormanlar II. Petrol
III. Metalik madenler IV. Doğal gaz

15) Yukarıdaki doğal kaynaklardan hangilerinin önemi günümüze yakın dönemde daha da artmıştır?

- A) I ve II B) I ve III
C) II ve III D) II ve IV
E) III ve IV

16) Geçmişten günümüze doğal kaynaklar ile ilgili aşağıda verilen bilgilerden hangisi yanlıştır?

- A) Geçmiş çağlarda insanlar ormanları tahrip ederek kullanırken günümüzde sürdürülebilir kullanım ilkesiyle yararlanmaktadırlar.
B) Demir çelik endüstrisi, demir cevheri ve maden kömürü kaynaklarına ekonomik değer kazandırmıştır.
C) İçten yanmalı, içten patlamalı ve jet motorların icadı petrolün önemini artırmıştır.
D) Dünya kömür üretiminin yaklaşık %70i demiri eritmek için kullanılır.
E) II. Dünya Savaşı sonrası doğal ve kültürel zenginliklerin önemi artmıştır.

17) Aşağıdakilerden hangisi Uluslararası Para Fonu'nun (IMF) kuruluş amaçları arasında gösterilemez?

- A) Dünya para sorunlarının çözümü için ülkeler arası iş birliği yapmak
B) Devalüasyonlara engel olmak
C) Ödemeler dengesi güçlüklerinin çözümünde yardımcı olmak
D) Ortaya çıkabilecek kısa vadeli güçlükler için devletlere kredi vererek dünya ticaretinin canlılığını korumak
E) Bölgesel çatışmaları önleyerek kalıcı barışı ve güvenliği sağlamak

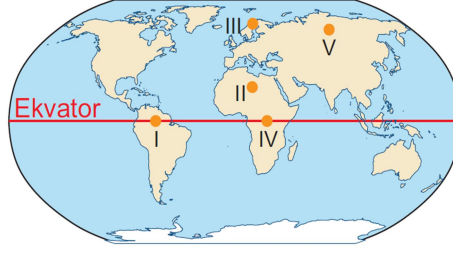
I. Petrol II. Rüzgâr
III. Kömür IV. Doğal gaz

18) Yukarıda verilenlerden hangisi, yenilenebilir enerji kaynaklarından?

- A) Yalnız I B) Yalnız II C) Yalnız III
D) II ve III E) III ve IV

19. Ülkemizde heyelanın olaylarının daha çok ilkbahar mevsiminde meydana gelmesinin temel nedeni aşağıdakilerden hangisidir?

- A) Yer şekillerinin eğimi
B) Bitki örtüsünün seyrek olması
C) Kar erimeleri ve yağış
D) Buharlaşmanın artması
E) Sıcaklıkların yükselmesi



20) Yukarıdaki haritada verilen yerlerden hangisinde güneşlenme süresine bağlı olarak güneş enerjisi potansiyeli yüksektir?

- A) I B) II C) III D) IV E) V

21) Aşağıdakilerden hangisi, arazi planlanmasında dikkat edilecek hususlardan biri değildir?

- A) Arazinin mevcut durumu ve gelecekteki durumunu gösteren haritalar hazırlanmalıdır.
B) Arazide öncelikle alt yapı çalışmaları yapılmalıdır.
C) Araziden maksimum seviyede yararlanılmasını sağlayacak projeler seçilmelidir.
D) Araziden yararlanırken, doğa ve bölge halkı üzerindeki etkisinden önce maksimum karlılık hesaplanmalıdır.
E) Doğal ve beşeri yapılarla ilgili riskler göz önüne alınmalıdır.

22) Aşağıdaki doğal kaynaklardan hangisinin kullanımı çevreye daha fazla zarar verir?

- A) Kömür B) Doğal gaz C) Su
D) Odun E) Jeotermal

23) Aşağıdakilerden hangisi nükleer santrallerin sebep olduğu çevresel sorunlar arasında yer almaz?

- A) Radyoaktif atıklar
B) Isı kirlenmesi
C) Kimyasal kirlenme
D) Bacadan çıkan kükürt ve kurşuna bağlı hava kirliliği
E) Çevre estetiğinin bozulması

I. Linyit → Hava kirliliği

II. Nükleer → Radyoaktif kirlilik

III. Rüzgâr → Hava kirliliği

IV. Güneş → Elektromanyetik kirlilik
Yukarıda doğal kaynak ve kullanımı sonrası çevreye etkisi eşleştirilmiştir.

24) Buna göre yapılan eşleştirmelerden hangileri yanlıştır?

- A) I ve II B) I ve III
C) II ve III D) II ve IV
E) III ve IV

İnsanların doğal kaynakları kullanmaları hem kendilerini hem de çevreyi etkilemektedir.

25) Buna göre doğal kaynak kullanımının çevreye olan olumsuz etkilerine aşağıdakilerden hangisi gösterilemez?

- A) Orman alanlarının yerleşim alanına dönüştürülmesi
B) Tarım alanlarının sanayi alanına dönüştürülmesi
C) Yenilenebilir enerji kaynaklarının kullanılması
D) Atmosferdeki sera gazının artması
E) Katı, sıvı ve gaz atıklarının çevreyi kirletmesi

26. Türkiye'de jeotermal enerji kaynaklarının Ege ve Güney Marmara'da daha fazla olması aşağıdakilerden hangisi ile açıklanabilir?

- A) Kalkerli yapının yaygın olması
B) Geniş ovaların varlığı
C) Arazinin kumlu ve çakıllı olması
D) Kuzey rüzgarlarının etkisiz olması
E) Yerkabuğunun kırılmalara uğraması

27. Kültür, çeşitli unsurların birleşmesiyle oluşmuş dinamik bir bütündür. Kültürü oluşturan unsurlar, maddi ve manevi unsurlar olarak ikiye ayrılır. Aşağıdakilerden hangisi kültürü oluşturan manevi unsurlar arasında sayılır?

- A) Coğrafi konum B) İklim C) Simgeler
D) Komşu kültürler E) Toprak özellikleri

28. İzmir, İzmit ve Mersin'de petrol rafinerilerinin bulunması aşağıdaki faktörlerden hangisi ile ilgilidir?

- A) Yer şekilleri B) İklim
C) Nüfus yoğunluğu D) Ulaşım imkanları
E) Hammadeye yakınlık

29. Küresel ticaretin en önemli üç unsuru; ham madde, üretim ve pazardır. Bu unsurlar arasındaki bağlantı aşağıdaki faaliyetlerden hangisi ile yapılır?

- A) Tarım B) Madencilik C) İnşaat
D) Turizm E) Ulaşım

30. İklim turizm faaliyetleri üzerinde etkilidir. Aşağıdakilerden hangisi iklimin turizm faaliyetleri üzerindeki etkisine örnek gösterilemez?

- A) Rize'de deniz turizminin gelişmemesi
B) Antalya'da turizm mevsiminin erken başlaması
C) Uludağ'da kış turizminin gelişmesi
D) Kaş'ta plajların az olması
E) Fethiye'de turizm sezonun geç bitmesi

CEVAPLAR: 1a 2e 3e 4d 5a 6e 7d 8c
9e 10a 11c 12a 13e 14c 15d 16d 17e
18b 19c 20b 21d 22a 23d 24e 25c
26e 27d 28d 29e 30d

1. Aşağıdakilerden hangisi, Türkiye’de ekolojik dengeyi bozan etkenlerden biri değildir?(KPSS 2010)

- A) Tarımda göl sularının aşırı kullanılması
- B) Birçok hayvan türünün bilinçsiz avlanması
- C) Kentlerin hızlı ve plansız büyümesi
- D) Yer altı sularının kontrolsüz bir şekilde çekilmesi
- E) Akarsu ağzlarındaki deltaların genişlemesi

2. Bir çiftçi bulunduğu bölgede nadas alanlarının gittikçe daraldığını belirtmektedir. Bu durumun aşağıdakilerden hangisinin sonucu olduğu söylenebilir? (LYS)

- A) Arazi toplulaştırma uygulamasının
- B) Ekstansif tarım yöntemlerinin
- C) Tarım teknolojisindeki gelişmelerin
- D) Anız yakılmasının yasaklanmasının
- E) Tarımda çalışan nüfusun azalmasının

3.-Elbiselerin mağazalara taşınması

-Çiftçinin tarlasında pamuk yetiştirmesi
-Pamuğun fabrikada işlenerek kumaş haline getirilmesi

-Birinin mağazadaki elbiseyi satın alması
Yukarıda verilen etkinliklerin ekonomik faaliyet türlerine göre sıralanışı, aşağıdakilerden hangisinde doğru olarak verilmiştir?

- A) Üretim - Tüketim - Dağıtım - Üretim
- B) Tüketim - Üretim - Dağıtım - Üretim
- C) Dağıtım - Üretim - Üretim - Tüketim
- D) Tüketim - Üretim - Tüketim - Üretim
- E) Dağıtım - Üretim - Tüketim - Üretim

4. Belirli bir dönem nüfus artış hızını artırmaya, daha sonra azaltmaya yönelik politikalar izleyen bir ülke ile ilgili olarak aşağıdaki sonuçlardan hangisine ulaşılabilir?

- A) Nüfus artış hızının az olması sakıncalıdır.
- B) Nüfus politikaları zaman içinde değişebilir.
- C) Ülkelerin tamamı nüfus artış hızını azaltmaya çalışırlar.
- D) Ülkeler geliştikçe nüfus artış oranları da artmaktadır.
- E) Bazı ülkelerde aynı anda farklı nüfus politikaları uygulanabilmektedir.

5. Nüfus artış hızının artması aşağıdaki ülkelerden hangisinde bir sorun oluşturmaz?

- A) Hindistan B) Fransa C) Pakistan
- D) Mısır E) Çin

6. Ülkemizde sanayileşme adına en büyük adım 1923 yılındaki “İzmir 1. İktisat Kongresi”nde atılmıştır. Aşağıdakilerden hangisi, sanayinin gelişmesi için bu kongrede alınan kararlardan biri değildir?

- A) Yollar ve ulaşım araçlarının geliştirilmesi
- B) Kredi sağlayacak bankaların kurulması
- C) Yurt dışına işçi gönderilmesi
- D) Sektörlere eleman sağlayacak eğitim öğretim kurumlarının açılması
- E) Fabrikalarda kullanılacak makinelerin ithalatından gümrük vergisi alınmaması

7. Avrupa’da en yüksek turizm gelirlerine sahip üç ülke aşağıdakilerden hangisidir?

- A) İspanya - Fransa - İtalya
- B) İsviçre - Almanya - İngiltere
- C) Portekiz - Yunanistan - Norveç
- D) Avusturya - Danimarka - İsveç
- E) Hollanda - Finlandiya - İzlanda

8. Dünya’da ilk sanayileşme hamlesi Avrupa Kitası’nda başlamıştır. Avrupa’da sanayileşme öncelikle hangi iki yer altı kaynağına dayalı olarak başlamıştır?

- A) Demir - Kömür B) Bakır - Kalay
- C) Fosfat - Civa D) Boraks - Wolfram
- E) Altın - Gümüş

9. I. Çin II. Japonya III. Hindistan
Yukarıda verilen ülkelerden hangisi nüfus artış hızını yükseltmeye yönelik nüfus politikası izlemektedir?

- A) Yalnız II B) I ve II C) I ve II D) I ve III E) II ve III

10. Bir ülkenin ihracatında (dış satım) sanayi ürünlerinin payı büyük bir orana sahip ise, bu ülke ile ilgili aşağıdakilerden hangisi söylenemez?

- A) Nüfusunun büyük bir kısmı kentlerde yaşar
- B) Okuma yazma oranı fazladır.
- C) Doğum oranı fazladır.
- D) Ortalama ömrü uzundur.
- E) Kişi başına düşen milli gelir fazladır.

11. Aşağıdaki haritada, Türkiye’de pamuk üretiminin yapıldığı alanlar gösterilmiştir.



Buna göre, pamuk üretiminin yapıldığı alanların ortak özelliği aşağıdakilerden hangisidir?(LYS4 2010)

- A) Terra rossa toprak türü yaygındır.
- B) Kış aylarında kar yağışı görülmez.
- C) Ortalama yükselti 100 metreden azdır.
- D) Yaz mevsimi sıcak ve kuraktır.
- E) Yıllık toplam yağış tutarı 1000 milimetrenin üzerindedir.

- 12. I. Ürün toplama süresi
- II. Kırsal nüfus III. Ekim alanı
- IV. Tarımsal üretim

Bir bölgede tarımda makine kullanımının yaygınlaşmasıyla yukarıdakilerden hangilerinde azalma beklenir? (ÖSS 2008)

- A) I ve III B) II ve III C) II ve IV
- D) III ve IV E) I ve II

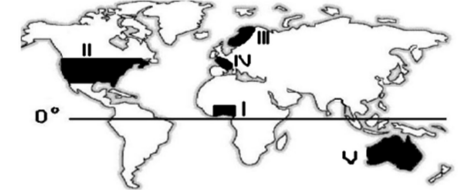
13. Tarımsal verimlilik ülkelerin ekonomik kalkınmışlıkları ile yakından alakalıdır. Buna göre aşağıdaki ülkelerden hangisinde birim alandan alınan verim diğerlerine göre daha yüksektir?

- A.) Brezilya B) Hollanda C) İtalya
- D.) Hindistan E) Çin

14. Çığ - Sel ve Taşkın - Orman Yangınları. Verilen bu doğal afetlerin ortak özelliği aşağıdakilerden hangisidir?

- A) Aynı mevsimde oluşmaları
- B) Aynı bölgelerde görülmeleri
- C) Oluşumlarında iklimin etkili olması
- D) Oluşum sürelerinin kısa olması
- E) Oluşum zamanlarının önceden tespit edilememeleri

15. Bir ülkenin gelişmişlik düzeyi artıkça nüfusunun ikiye katlama süresi uzun yıllar almaktadır?



Yukarıdaki haritada numaralandırılarak verilen ülkelerden hangisinde nüfusun ikiye katlama süresi daha kısadır?

- A) I B) II C) III D) IV E) V

16. Haliç, gelgit olayı sonucunda ırmakların ağız kısımlarının yana ve derine aşınması sonucu oluşur. İç denizlerde gelgit etkili olmadığından haliç oluşumu görülmez. Buna göre, aşağıdaki ülkelerin hangisinin kıyılarında haliç bulunmaz?

- A) Fransa B) Almanya C) İngiltere
- D) İtalya E) Belçika

17. Ülkemizde aşağıda verilen merkezlerin hangisinde kağıt endüstrisi yoktur?

- A) Mersin B) Dalaman C) Çaycuma
- D) İzmir E) Kastamonu

18. Aşağıdakilerden hangisi kültürü oluşturan maddi (somut) unsurlardandır?

- A) Örf ve adetler B) Ahlak kuralları
- C) Dil D) Dünya görüşü E) Simgeler

Cevaplar:

- 1e 2c 3c 4b 5b 6c 7a 8a 9a 10c 11d
- 12e 13b 14c 15a 16d 17d 18e