

TÜRKİYE EKONOMİK COĞRAFYASI LYS SORULARI

1. Türkiye'nin aşağıdaki özelliklerinden hangisi, engebeli ve yüksek olmasının bir sonucu değildir? (2004-ÖSS)

- A) Kışın, iç kesimlerde don olaylarının uzun sürmesi
B) Kıyı kesimleriyle iç kesimlerde nüfus yoğunluğunun farklı olması
C) Büyük akarsu ağzlarında delta ovalarının bulunması
D) Yol yapım giderlerinin yüksek olması
E) Bitki türlerinin çeşitlilik göstermesi

2. Türkiye'de verimli tarım alanlarının her yıl daha da azalmasında, I. endüstri bitkilerinin yetiştirildiği verimli tarım alanlar üzerinde fabrikalar kurulması,

II. eğimin fazla olduğu tarlalarda erozyonun da fazla olması,
III. nüfusun yoğun olduğu yerlerde plansız kentleşmelerin olması rol oynamaktadır.



Buna göre, haritada verilen K, L ve M kesimlerindeki verimli tarım alanlarının azalmasında I, II ve III etkenlerinden hangisinin en çok etkili olduğu söylenebilir? (2005-ÖSS)

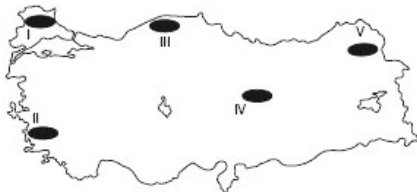
	K	L	M
A)	II	III	I
B)	III	II	I
C)	III	I	II
D)	I	III	II
E)	II	I	III

3. I. Petrol II. Linyit
III. Su gücü IV. Doğal gaz

Türkiye'de yukarıdaki enerji kaynaklarının hangilerinden elde edilen elektriğin diğerlerinden daha ekonomik olması beklenir? (2004 ÖSS)

- A) I ve II B) I ve III C) II ve III D) II ve IV E) III ve IV

4. Aşağıdaki Türkiye haritasında belirli bir tarım ürününün yetiştiği yöreler numaralanarak gösterilmiştir. İklim koşulları göz önüne alındığında bu tarım ürününün ilk önce hangi yörede olgunlaşması beklenir? (2006-ÖSS / Sos-1)



- A) I B) II C) III D) IV E) V

5. Aşağıdakilerden hangisinin Türkiye ekonomisini olumlu yönde etkilediği savunulamaz? (2006-ÖSS / Sos-1)

- A) Çeşitli toprak türlerinin bulunması
B) Avrupa ve Asya kıtalarını birbirine bağlayan önemli ticaret yolları üzerinde olması
C) Ortalama yükseltisinin fazla olması
D) Kıyılarda, iç kesimlerdekinden farklı tarım ürünlerinin yetiştirilebilmesi
E) Enerji potansiyeli yüksek akarsularının bulunması

6. Aşağıdakilerden hangisini Türkiye'de hayvancılıkta verimin artırılması için alınması gereken önlemlerden biri değildir? (2006-ÖSS)

- A) Et tüketiminin teşvik edilmesi
B) Hayvan soylarının ıslah edilmesi
C) Otlakların ıslah edilmesi
D) Hayvan sağlığı ile ilgili denetimlerin düzenli yapılması
E) Besi hayvancılığının yaygınlaştırılması

7. Marmara Bölgesi'nin ekonomik gelişiminde aşağıdakilerden hangisinin etkisi en azdır? (2006-ÖSS / Sos-1)

- A) Coğrafi konumunun B) Turizm imkanlarının
C) İkliminin D) Enerji üretiminin
E) Toprak veriminin

8. Türkiye'de iç ticaret hacminin artmasında aşağıdakilerden hangisinin etkisi en azdır? (2007-ÖSS / Ed-Sos)

- A) Endüstriyel üretimin bölgeler arasında farklılık göstermesi
B) Küçük boyutlu yerel pazarların bulunması
C) Ulaşım ve ulaştırma sektörünün gelişmesi
D) İklimin bölgeler arasında farklılık göstermesi
E) Ülke nüfusunun artması

9. Aşağıdakilerin hangisinde verilen endüstri kuruluşunun işlediği ham madde, kuruluşun bulunduğu yörenin dışından getirilmektedir? (2007-ÖSS / Ed-Sos)

- A) Uşak'taki şeker fabrikası
B) Seydişehir'deki alüminyum tesisleri
C) Soma'daki termik santral
D) İskenderun'daki demir-çelik fabrikası
E) Elazığ'daki ferrokrom fabrikası

10. Termik santraller, hidroelektrik santrallere göre daha fazla hava kirliliğine neden olur. Buna göre, aşağıdaki yerleşmelerden hangisinde, santrallere dayalı hava kirliliğinin daha az olması beklenir? (2008-ÖSS / Sos-1)

- A) Yatağan B) Manavgat C) Soma
D) Elbistan E) Tavşanlı

11. I. Hidroelektrik potansiyel
II. Endüstri tesislerinin kuruluşu
III. Dağcılık ve kış turizmi
IV. Ekilebilen alanların oranı

Türkiye'de ortalama yükselti ve eğimin fazla olması yukarıdakilerden hangilerini olumlu etkiler? (2008-Ed-Sos)

- A) Yalnız I B) Yalnız II C) I ve III D) II ve IV E) III ve IV

12. Tarım ve hayvancılık etkinlikleri göz önüne alındığında,

I. Keten dokuma, II. İpekli dokuma,
III. Deri işlemeciliği, IV. Pamuklu dokuma

sektörlerinden hangi ikisinin ham madde üretimi diğerlerinden daha fazladır? (2008-ÖSS / Sos-1)

- A) I ve II B) I ve III C) II ve III D) II ve IV E) III ve IV

(13. ve 14. soruları aşağıdaki parçaya göre cevaplayınız.)

Tarımla uğraşan bir çiftçiyim. Küçükbaş hayvancılık ve tahıl tarımı başlıca ekonomik etkinliklerimizdendir. Yaşadığım yörenin, Türkiye'nin tahıl tarımında önemli bir yeri vardır. Her ne kadar gübre ve kaliteli tohum kullanıp rahat bir şekilde makineli tarım yapma olanağına sahip olsak da üretimde yıldan yıla dalgalanmalar görülür. (2009-ÖSS / Sos-1)

13. Bu parçaya göre, çiftçinin aşağıdaki yerlerden hangisinde yaşadığı söylenebilir?

- A) Muş Ovası B) Menteşe Yöresi C) Konya Ovası
D) Göller Yöresi E) Çarşamba Ovası

14. Bu parçada sözü edilen yerde, tahıl üretiminin yıllar arasında dalgalanmalar göstermesi aşağıdakilerden hangisine kanıt olabilir?

- A) Doğa koşullarına bağımlılığın devam ettiğine
B) Farklı tarım ürünlerinin yetiştirildiğine
C) Nadas alanlarının giderek daraldığına
D) Tarım alanlarının yerleşmeye açıldığına
E) Tarımla uğraşan kişi sayısının azaldığına

TÜRKİYE EKONOMİK COĞRAFYASI LYS SORULARI

15. I. Toprakların yıkanmış olması

II. Kış aylarında sıcaklık ortalamasının 0°C'nin altına düşmesi

III. Her mevsimin yağışlı olması

IV. Eğimli alanların fazla olması

Yukarıdakilerden hangileri Türkiye'de çay tarımının yapıldığı alanların özelliklerinden değildir? (2008-ÖSS / Ed-Sos)

A) Yalnız I B) Yalnız II C) II ve III D) II ve IV E) III ve IV

16. Son yıllarda, Türkiye'deki turizm etkinlikleri arasında rafting, yamaç paraşütü, mağaracılık ve dağcılık gibi alternatif sporların önemli yer tutmasında aşağıdakilerden hangisi-nin rolünün daha fazla olduğu söylenebilir? (2009 Edb Sos)

A) Yer şekillerinin çok çeşitli olması
B) Yerel kültür özelliklerinin tanıtımının yapılması
C) Turistik tesis sayısının yeterli olması
D) Kıyı uzunluğunun fazla olması
E) Deniz turizmine elverişli sürenin uzun olması

I. Uludağ, Erciyes ve Palandöken gibi kar kalınlığı ve topoğrafik koşulları uygun dağlarda kış sporları için tesislerin yapılması

II. Dilovası, Çayırova, İzmit ve Çukurova'nın tarıma elverişli arazilerine endüstri tesislerinin kurulması

III. Bafra, Gediz, Silişkçe gibi delta ovalarında çeşitli endüstriyel tarım ürünü yetiştirilmesi

IV. Yüksek ve engebeli alanlardan oluşan Taşeli ve Teke platolarında küçükbaş hayvancılığın yoğun olarak yapılması

17. Yukarıdakilerden hangileri doğru arazi kullanımına örnek gösterilemez? (2010-LYS 3)

A) Yalnız I B) Yalnız II C) I ve IV D) II ve III E) II ve IV

18. Aşağıdaki tabloda Türkiye arazilerinin eğim dereceleriyle bunların ülke topraklarına oranı verilmiştir. (2010-LYS 3)

Eğim (%)	Ülke topraklarına oranı (%)
0-5	8,5
5-10	12,8
10-15	16,2
15'ten fazla	62,5

Yalnızca bu tablodaki bilgilere dayanarak Türkiye'yle ilgili aşağıdaki yargılardan hangisine ulaşılabılır?

A) Engembeli bir ülkedir.
B) İç kesimlerde ova ve platolar yaygındır.
C) Eğimin fazla olduğu yerlerde orman örtüsü azdır.
D) Ülke topraklarının yarısından fazlasını sıra dağlar oluşturur
E) Kıyı bölgelerinde eğim azdır.

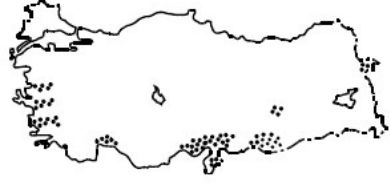
19. Aşağıdaki haritada yükselteleri birbirinden farklı beş ova gösterilmiştir.



Bu ovaların yükseltelerinin farklı olması aşağıdakilerden hangisini etkilemez? (2010-LYS 3)

A) Endüstriyel tarım ürünlerinin çeşitliliğini
B) Kar yağışlı gün sayısını
C) Ürünlerin hasat zamanını
D) Sulamaya duyulan ihtiyacı
E) Tarımda makine kullanımını

20. Aşağıdaki haritada, Türkiye'de pamuk üretiminin yapıldığı alanlar gösterilmiştir. (2010-LYS 4)



Buna göre, pamuk üretiminin yapıldığı alanların ortak özelliği aşağıdakilerden hangisidir?

A) Terra rossa toprak türü yaygındır.
B) Kış aylarında kar yağışı görülmez.
C) Ortalama yükselti 100 metreden azdır.
D) Yaz mevsimi sıcak ve kuraktır.
E) Yıllık toplam yağış tutarı 1000 milimetrenin üzerindedir.

21. Ortalama yükseltisi oldukça fazla olan bu yörede, dağlık ve engebeli alanlar çok yer tutuyor. Tarım etkinlikleri ancak dağlar arasındaki ovalarda yapılabiliyor. Yöre halkı, yaz mevsimi-nin kısa, kış mevsiminin uzun ve çok sert geçmesinden dolayı birçok tarım ürünü yetiştirememekten yakınıyor. Bu parçada sözü edilen yörenin coğrafi koşulları aşağıdaki ürünlerden hangisinin yetiştirilmesi için daha uygundur? (2010-LYS 4)

A) Fındık B) Mercimek C) Arpa D) Pirinç E) Ayçiçeği

22. Türkiye'deki bir yörenin kıyı kesimlerinde turuncu tarımı ve yaz turizmi, iç kesimlerinde ise küçükbaş hayvancılık ve yaylacılık yaygındır. Yalnızca bu bilgilere dayanarak bu yöre ile ilgili aşağıdaki yorumlardan hangisi yapılamaz? (2010-LYS 4)

A) Kıyı kesimlerinde maki alanları yaygındır.
B) Hem kıyı hem de iç kesimlerinde yaz kuraklığı belirgindir.
C) Kıyı kesimlerinde yıllık sıcaklık farkı azdır.
D) Kıyıyla iç kesimler arasında belirgin yükselti farkı vardır.
E) İç kesimlerinde nüfus yoğunluğu fazladır.

23. Türkiye'de çayır ve meralarda aşırı otlatma yapılması, tarım topraklarının aşırı işlenmesi, ormanlık alanlarda tarla açmak ya da turistik tesis kurmak için ağaçların kesilmesi, bazı maden ocaklarında madenin çıkarılabilmesi için yüzeyin kazılarak açılması ve eğimli alanlardaki kara ve demir yolu yapım çalışmaları erozyonu artıran başlıca etkenlerdir.

Bu parçada verilenler, erozyonla aşağıdakilerden hangisi arasındaki ilişkiye doğrudan örnektir? (2010-LYS 4)

A) Ekonomik etkinlikler B) Toprak türü
C) Yağış rejimi D) Yer şekillerinin yapısı
E) Su kaynakları

24. Aşağıdaki haritada çeşitli hayvancılık etkinliklerinin yapıldığı yerler gösterilmiştir. (2011-LYS 4)



Buna göre, yapılan hayvancılık etkinliği üzerinde;

I. Jeolojik yapı II. Bitki örtüsü
III. Yer şekilleri IV. Enlem

Özelliklerinden hangilerinin etkili olduğu söylenebilir?

A) Yalnız II B) Yalnız III C) I ve IV
D) II ve III E) I, II ve IV

25. Dört yatırımcı, kurmayı planladığı tesisleri ve bu tesisleri kurarken dikkate alacağı unsurları aşağıdaki gibi belirtmiştir.

- I. "Kuracağım tesisin İstanbul'da olması önemli. Böylece ürünleri pazarlama konusunda bir sıkıntı yaşamayacağım."
 II. "Kuracağım işletmede enerji kaynağı olarak linyiti kullanacağım. Bu nedenle tesisi Soma'da kurmayı planlıyorum."
 III. "Son yıllarda, tarihî ev ve konaklara olan ilgi çok fazla. Bu nedenle Safranbolu'da açacağım otelin büyük bir gelir elde edeceğimi düşünüyorum."
 IV. "Kuracağım enerji santrali rüzgârla elektrik üreteceği için bu tesisi Çeşme'de kurmayı düşünüyorum."

Buna göre, yatırımcılardan hangilerinin kuracağı tesislerde beşeri etmenler daha belirleyici rol oynamıştır? (2011-LYS 4)

- A) I ve II B) I ve III C) II ve III D) II ve IV E) III ve IV

26. Atatürk "Türkiye'de devlet madenciliği, milli kalkınma hareketiyle yakından ilgili, önemli konulardan biridir. Genel sanayileşme düşüncemizden başka, maden arama ve işletme işine, her şeyden önce dış ödeme vasıtalarımızı, döviz gelirlerimizi artırabilmek için devam etmeye ve özel bir önem vermeye mecburuz." demiştir.

Bu parçada Atatürk, Türkiye'deki madencilik etkinliklerinin;

- I. Endüstrileşmeye katkısı
 II. Dış borçların ödenmesi
 III. Kişi başına düşen ulusal geliri artırılması
 IV. İş olanaklarını artırması

Durumlarından hangilerini doğrudan vurgulamıştır? (2011-LYS 4)

- A) I ve II B) I ve III C) II ve III D) II ve IV E) III ve IV

27. Türkiye'de bugüne kadar yapılan ve yapılması planlanan enerji santralleriyle ilgili bir çalışmada aşağıdaki görüşlere yer verilmiştir. (2011-LYS 3)

- Yeni yatırımların yapılması var olan kaynakların rezervine ve kalitesinin yüksekliğine bağlıdır.
- Bugüne kadar yapılan yatırımların bir kısmı ham maddeye yakınlık göz önüne alındığından, enerji santrallerinin bölgeler arasındaki dağılımı farklılık göstermektedir.
- Ham madde çeşitliliği Anadolu'nun coğrafi konumu, jeolojik yapısı, iklimi ve yer şekilleriyle ilgilidir.
- Çevreye daha az kirlenen enerji kaynakları ve payları artmıştır

Bu bilgilere göre aşağıdakilerden hangisine ulaşılabılır?

- A) Bazı bölgeler her türlü enerji kaynağına sahiptir.
 B) Yenilenemeyen enerji kaynaklarının kullanımı artmıştır.
 C) Yeni doğal kaynakların kullanımı ile ticaret artmıştır.
 D) Artan ihtiyaca bağlı olarak, kullanılan enerji kaynakları çeşitlenmiştir.
 E) Gelişen teknolojiyle birlikte kaynakların kullanım alanı çeşitlenmiştir.

28. Türkiye'de küçükbaş hayvancılığın yaygın olduğu yörelerde halı - kilim dokumacılığı ve yem bitkileri tarımı, büyükbaş hayvancılığın yaygın olduğu yörelerde süt ve süt ürünleri üretimi, kıyı balıkçılığının yaygın olduğu yörelerde ise tekne yapımı gibi etkinlikler gelişmiştir.

Buna göre aşağıdaki yargılardan hangisine ulaşılabılır? (2011-LYS 3)

- A) Kırsal yörelerde üretim daha çok geleneksel yöntemlerle yapılmaktadır.
 B) Kırsal yörelerde yürütülen ekonomik etkinlikler birbirleriyle bağlantılıdır.
 C) Kırsal yörelerde yürütülen en yaygın ekonomik etkinlik hayvancılıktır.
 D) Kıyıda yer alan yörelerde yürütülen ekonomik etkinlikler, iç kesimdekilerle aynıdır.
 E) Tarıma dayalı endüstri Türkiye'nin her bölgesinde yaygındır.

29. Türkiye'de 1950-1960 döneminde uygulanan ekonomi politikaları sonucunda, tarımsal krediler yaygınlaştırılmış ve tarım ürünleri için yüksek fiyat politikası izlenmiştir. Bu sayede tarımsal üretimde önemli artışlar olmuştur. Endüstrideki sermaye yetersizliği; yabancı yatırımlar, özel sektörün teşvik edilmesi ve dış yardımlarla büyük ölçüde giderilmiştir. Böylece baraj ve fabrika gibi yatırımlar artmıştır. Buna karşın döviz rezervinin yatırımlarda önemli derecede kullanılması ancak yapılan yatırımlardaki plansızlık kalkınma hızının istenilen düzeye çıkmasını engellemiştir. Bunun sonucunda enflasyon yükselmiştir. 1958 yılında ekonomik istikrarı sağlamak için sıkı maliye politikalar ile dışsatımı teşvik edici önlemler alınmıştır. İç ticaretin canlandırılması için de karayolu yapımına ağırlık verilmiştir. Buna göre, aşağıdakilerden hangisi 1950- 1960 döneminde uygulanan ekonomi politikalarının sonuçlarından biri değildir? (2011-LYS 3)

- A) Dış borçlar artmıştır.
 B) Devletin ekonomideki etkisi azalmaya başlamıştır.
 C) Altyapı çalışmalarına önem verilmiştir.
 D) Tarımda makineleşme yaygınlaşmaya başlamıştır.
 E) Tarımsal vergiler artırılmıştır.

- Oktay, köylerinin baraj gölü suları altında kalması nedeniyle başka bir yere taşınmış ve burada tahıl yerine endüstriyel tarım ürünleri yetiştirmeye başlamıştır.
- Ayşe, sahilden beş kilometre uzakta bir köyde yaşamaktadır. Yöredeki hemen herkes gibi o da geçimini sağlamak için seracılık yapmaktadır.
- Zeynep'in yaşadığı sahil köyünde tarım arazisi az olduğu ve ot yönünden zengin meralar olmadığı için kıyı balıkçılığı yapılmaktadır.
- Ali'nin yaşadığı dağ köyünde tarıma elverişli toprak fazla olmadığından halk, en büyük geliri canlı hayvan ticareti ve hayvansal ürünlerden sağlamaktadır.

30. Yukarıdaki bilgilerden yararlanarak aşağıdakilerden hangisine kesin olarak ulaşılabılır? (2011-LYS 4)

- A) Mera hayvancılığının kıyı kesimlerinde az yapıldığına
 B) Kıyı kesimlerinde tarıma elverişli toprakların az olduğuna
 C) Kıyı kesimlerinde yaşayanların geçim standartlarının çok yüksek olduğuna
 D) Ekonomik etkinliklerin farklı coğrafi koşullara bağlı olduğuna
 E) Barajların çevresindeki yerleşmelerde ulaşım imkanlarının iyileştirmeye

31. Türkiye'nin bazı yörelerinde;

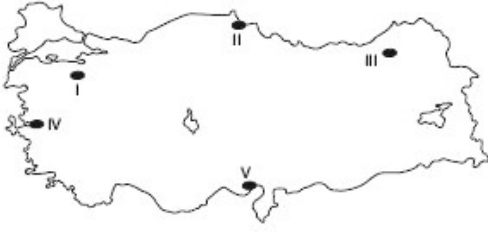
- Yüksek ve engebeli alanlarda hayvancılık etkinliklerine bağlı olarak geçici yerleşmeler kurulmaktadır.
 - Kar kalınlığının fazla ve topoğrafik koşulların uygun olduğu dağlık alanlarda kış sporları tesisleri yapılmaktadır.
 - Delta ovalarında yoğun tarım etkinlikleri yapılmaktadır
- Buna göre aşağıdakilerden hangisi, belirtilen ilişkileri ve sonucunu kapsayacak şekilde doğru olarak verilmiştir? (2011-LYS 3)**

- A) İklim – Bitki örtüsü
 B) Toprak türü – Arazi kullanımı
 C) Yer şekli – Bakı
 D) Yer şekli – Arazi kullanımı
 E) Toprak türü – İklim

32. Türkiye'de buğdayın, belli yıllar arasındaki ekim alanlarıyla üretim miktarlarını gösteren bir grafik incelendiğinde aşağıdakilerden hangisine ulaşılamaz? (2012 LYS-4)

- A) Birim alandan alınan ürün miktarına
 B) Üretim miktarındaki değişime
 C) Ekim alanlarındaki değişime
 D) Üretimin en çok ve en az olduğu yıllara
 E) Uygulanan tarım yöntemlerinin üretimdeki etkisine

TÜRKİYE EKONOMİK COĞRAFYASI LYS SORULARI



33. Yukarıdaki haritada numaralarla gösterilen yerlerden hangileri yoğun endüstriyel tarım alanları dışında kalır? (2012)
A) I ve II B) I ve V C) II ve III D) III ve IV E) IV ve V

34. Bir çiftçi, bulunduğu bölgede nadas alanlarının gittikçe daraldığını belirtmektedir. Bu durumun, aşağıdakilerden hangisinin sonucu olduğu söylenebilir? (2011-LYS 3)
A) Arazi toplulaştırmasının uygulanmamasının
B) Ekstansif tarım yönteminin yaygınlaştırılmasının
C) Tarım teknolojilerinin gelişmesinin
D) Anız yakılmasının yasaklanmasının
E) Tarımda çalışan nüfusun azalmasının

35. Dünyanın tarımsal gıda gereksinimi biyoteknolojik yöntemlerle önemli ölçüde karşılanmış ancak hormonal müdahale, ilaçlama ve kimyasal gübreleme insan sağlığını ve çevreyi tehdit edecek boyutlara ulaşmıştır. Bu durum, organik tarım yöntemini gündeme getirmiştir. Bu yöntemde, kimyasal gübre, ilaç, hormonlar ve genetik yapısı değiştirilmiş tohumlar kullanılmadan doğal ürün elde etmek amaçlanmıştır. Ancak bu yöntemle elde edilen ürünlerde verimlilik azalmıştır. **Organik tarımın özellikleri göz önüne alındığında parçanın sonuna aşağıdaki cümlelerden hangisi getirilmelidir? (2011-LYS 4)**
A) Bunun sonucunda, dünya genelinde organik tarımla üretilen ürün miktarı, modern tarım yöntemleriyle üretilenlerden fazla olmaktadır.
B) Bu durum ise, organik ürün fiyatlarının diğerlerinden fazla olmasına neden olmuştur.
C) Bu durum ise, ekonomik açıdan geri kalmış ülkeleri organik tarım yapmaya zorlamıştır.
D) Bu değişiklikler, kırsal kesimde bitkisel üretimin azalmasına ve hayvancılık etkinliklerinin yaygınlaşmasına neden olmuştur.
E) Bu yeni yöntemin yaygınlaşması, dünya genelinde tarıma verilen önemi azaltmıştır.

ÖSS – ÖYS SORULARI

36. "Türkiye'de tarım alanında kullanılan traktör sayısı ne denli artarsa artsın tarım alanında hayvan gücüne duyulan ihtiyaç tümüyle ortadan kalkmayacaktır." **Bu görüşün doğruluğu aşağıdakilerden hangisine bağlıdır? (ÖSS)**
A) Traktör kullanmakla ilgili bilgi eksikliğinin olmasına
B) Traktörden toprak işleme dışında yararlanılmasına
C) Hayvan gübresine duyulan ihtiyacın sürmesine
D) Tarım alanlarının bir bölümünün traktör için uygun olmamasına
E) Hayvancılığın ülke ekonomisindeki yerinin korumasına

37. Tarım alanından bir yıl içinde birden fazla ürün alma açısından en elverişli bölge hangisidir? (ÖSS)
A) Marmara B) Karadeniz C) İç Anadolu
D) Akdeniz E) Güneydoğu Anadolu

38. Yetiştirme alanları dikkate alındığında aşağıdaki ürünlerden hangisinin soğuğa daha dayanıklı olduğu söylenebilir? (ÖSS)
A) Zeytin B) İncir C) Muz D) Portakal E) Üzüm

39. Aynı iklim bölgesinde doğal olarak yetişmesi en zor olan bitki çifti hangisidir?
A) Zeytin – Çay B) Pamuk - Buğday C) Buğday – Tütün
D) Tütün – Pamuk E) Çay – Fındık

40. Doğu Anadolu'da hayvancılık önemli bir yer tutar. Özellikle Kars yöresinde büyükbaş hayvancılığın çok gelişmiş olması aşağıdakilerden hangisiyle açıklanabilir? (ÖSS)
A) Uzun yıllarda kazanılan deneyimlerle
B) Devlet desteği ve özendirmelemlerle
C) Hayvan ıslahındaki gelişmelerle
D) Sun'î yem teminindeki kolaylıklarla
E) Yaz yağışıyla oluşan gür otlaklarla

41. Ülkemizde aşağıdaki ürünlerden hangisinin tarımının yoğun olduğu yörede, küçükbaş hayvancılık en azdır? (ÖSS)
A) Antep fıstığı B) Çay C) Ay çiçeği
D) Şeker pancarı E) Buğday

- I. Nüfus yoğunluğunun fazlalığı
- II. Dağlık yerleşme
- III. Arazinin eğimi
- IV. Akarsuların çokluğu
- V. Yazların yağışlı geçmesi

42. Yukarıdakilerden hangileri, Doğu Karadeniz'de buğday tarımını zorlaştırır? (ÖSS)
A) II-V B) III-V C) II-IV D) I-V E) III-IV

CEVAPLAR: 1C 2D 3C 4B 5C 6A 7D 8B 9D 10B 11C 12E 13C 14A 15B 16A 17B 18A 19E 20D 21C 22E 23A 24D 25B 26A 27D 28B 29E 30D 31D 32E 33C 34C 35B 36D 37D 38E 39A 40E 41B 42B

AŞAĞIDAKİ SORULARI CEVAPLAYIN.

Ülkemizde rezerv bakımından dünyada önemli olan iki maden:

Sıcak kuşakta yetiştiği halde Akdeniz kıyılarında seralarda yetiştirme ortamı bulan tarım ürünlerine örnek veriniz.

Cumhuriyetin ilk yıllarında ekonomiyi geliştirmek için alınan tedbirlere iki örnek verin.

Demir Çelik sanayinin Batı Karadeniz Karabük ve Ereğli çevresinde gelişmesinin sebebi nedir?

Üretimi devlet kontrolünde olan ürünlere örnek verin.

Hidroelektrik nedir? Ülkemizin hidroelektrik potansiyelinin yüksek olmasının sebeplerini yazın.

Sivas Divriği, Malatya Hekimhan, Balıkesir Eymir gibi yerlerde rezervi bulunan maden hangisidir?

Termal kaynak nedir? Termal kaynakların ülkemiz geneline yayılmasının sebepleri ne olabilir?

Ülkemizde sulamanın yaygınlaşmasıyla tarımda görülecek değişimlerden iki tanesini yazın.

Türkiye'nin ihracatında önemli yer tutan tarım ürünleri ile madenlerden iki tanesini yazın.

Bazı sanayi kuruluşları hammadde kaynaklarına yakın kurulur. İki örnek verin.