

1. Kanada'nın bazı bölgelerinde, doğal olarak yetişen ve besleyici değeri çok yüksek şekerli bir özsu elde edilen "şeker akçaağacı"nı, Orman Araştırma Enstitüsü Doğu Anadolu bölgesinde yetiştirmeyi planlamaktadır. **Bunun için neden Doğu Anadolu bölgesi seçilmiş olabilir?**

- A) Tarımda kullanılmayan geniş alanları olmasından
B) Kanada ile aynı enlemler arasında yer almasından
C) Kanada'dakine benzer iklim özelliklerine sahip olmasından
D) Bu bölgedeki gelir kaynaklarını artırmaya öncelik tanınmasından
E) Orman yetiştirmeye elverişli bir bölge olmasından

2. Türkiye'de değişik mevsim özelliklerinin aynı zamanda görülebilmesini sağlayan başlıca etken nedir?

- A) Yerşekillerinin çeşitliliği
B) İliman iklim kuşağında yer alması
C) Denizlerle çevrili olması
D) Geniş topraklara sahip olması
E) Bitki örtüsünün çeşitlilik göstermesi

7. Yazları ılık, kışları soğuk ve her mevsimi yağışlı geçen bir bölgenin, doğal bitki örtüsü aşağıdakilerden hangisine uyar?

- A) Savan B) Orman C) Bozkır
D) Tundra E) Maki

8.



Yukarıdaki haritada Türkiye'de orman alanlarının dağılışı görülmektedir.

Buna göre orman dağılışını etkileyen temel etken aşağıdakilerden hangisidir?

- A) Akarsu ağı B) Yükselti
C) Erozyon D) Toprak çeşidi
E) Nem oranı

9. Akdeniz Bölgesinde yetişen otsu bitkilerden birçoğunun yüzeyi kadife gibi tüylerle kaplıdır. Bu durum, bitkinin bölge koşullarına uyma çabasının bir sonucudur.

Bitkinin böyle bir özelliğe sahip olmasının nedeni aşağıdakilerden hangisi olabilir?

- A) Erozyonun şiddetli olması
B) Yağışın genellikle yağmur olarak düşmesi
C) Yazın buharlaşmanın şiddetli olması
D) Günlük sıcaklık farkının yüksek olması
E) Topraktaki kil oranının fazla olması

10. Hava kütesinin sıcaklığı yükseldikçe, taşıyabileceği nem miktarı artar.

Buna göre, Balkanlardan gelerek Türkiye üzerinden Basra Körfezine ulaşan nemli bir hava kütesinin nerede yağış bırakması beklenir, neden?

- A) Edirne ve Kırklareli yöresinde. Çünkü, iki tarafında deniz olduğundan nem fazladır.
B) Bolu ve Kastamonu yöresinde. Çünkü, yükselti arttığından sıcaklık düşer.
C) İç Anadolu Bölgesinde. Çünkü, etrafı dağlarla çevrilidir.
D) Marmara Denizi üzerinde. Çünkü, buharlaşma fazladır.
E) Güneydoğu Anadolu Bölgesinde. Çünkü, sıcaklığı yüksektir.

13. "Kış erken gelir, çok soğuk olur. Kar ortalama 80 gün toprak üstünde kalır. Yaz da erken gelir, çok sıcak olur; karlar hızla erir."

Yukarıda hangi iklim tipinden söz edilmektedir?

- A) Tropikal B) Akdeniz
C) Orta Kuşak Karasal D) Okyanus
E) Muson

15. Türkiye'de orman yangınları, Batı ve Güney kesimlerine göre Kuzey kesimlerinde çok daha azdır.

Kuzeyde orman yangınlarının az olmasının nedeni aşağıdakilerden hangisidir?

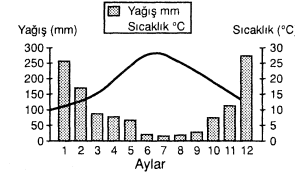
- A) Orman içi yerleşmelerin dağınık olması
B) Orman alt sınırının kıyrdan başlaması
C) Nem oranının fazla olması
D) Ormanlarının daha çok yamaçlarda yer alması
E) Orman içi ulaşım ağının gelişmiş olması

17. Bitki coğrafyası konusunda araştırma yapan bir bilim adamı, araştırma için gittiği yörede kekik, lavanta, zeytin, zakkum ve defne gibi bitkilerin yaygın olduğunu gözlemiştir.

Bu yöredeki bitki örtüsü aşağıdakilerden hangisine uygundur?

- A) Çayır B) Bozkır C) Tundra
D) Savan E) Maki

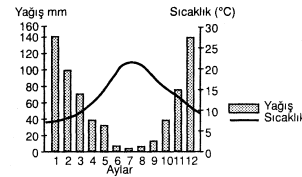
19. Aşağıda bir yerin yağış ve sıcaklık grafiği verilmiştir.



Grafikteki bilgiler göz önüne alındığında, bu yerle ilgili olarak aşağıdaki yargılardan hangisine ulaşılamaz?

- A) Kuzey Yarımkürede yer almaktadır.
B) Yıllık yağış miktarı 750 mm'nin üzerindedir.
C) Kar örtüsü ocak ayı boyunca yerde kalır.
D) En yağışlı mevsim kıştır.
E) En sıcak ay temmuzdur.

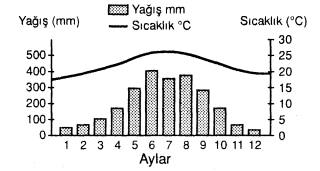
20. Aşağıda bir yörenin aylık ortalama sıcaklık ve yağış grafiği verilmiştir.



Grafikten yararlanarak bu yöreye ilgili aşağıdaki bilgilerden hangisi elde edilemez?

- A) Yıllık ortalama yağış tutan
B) Yıllık ortalama sıcaklık değeri
C) Deniz seviyesinden yüksekliği
D) Hangi yarımkürede olduğu
E) Yağışın mevsimlere dağılışı

22. Aşağıda Kuzey yarımkürede yer alan bir yörenin aylık ortalama sıcaklık ve yağış grafiği verilmiştir.



Grafikteki bilgiler göz önüne alındığında, bu yörenin iklim özellikleri aşağıdakilerden hangisinde doğru olarak verilmiştir?

- A) Yazlar kurak, kışlar serin ve en yağışlı mevsim kış
B) Yaz ve kış sıcaklıkları arasındaki fark az ve en yağışlı mevsim ilkbahar
C) Yaz ve kış sıcaklıkları arasındaki fark az ve en yağışlı mevsim yaz
D) Kışlar çok soğuk ve en yağışlı mevsim yaz
E) Kışlar soğuk ve en yağışlı mevsim sonbahar

23. Orta kuşak okyanus iklimi her mevsimi yağışlı olan, yazın aşırı sıcakların, kışın aşırı soğukların görülmediği bir iklim tipidir.

Buna göre, Türkiye'nin aşağıdaki coğrafi bölümlerinden hangisinin kıyı kesiminde görülen iklim tipi orta kuşak okyanus iklimine benzer özellikler gösterir?

- A) Antalya Bölümü
B) Ergene Bölümü
C) Ege Bölümü
D) Adana Bölümü
E) Doğu Karadeniz Bölümü

26. X bölgesinin doğal bitki örtüsü maki, Y bölgesinin doğal bitki örtüsü bozkırdır.

Bu durum, X ve Y bölgelerinin aşağıdakilerin hangisi bakımından farklı olmasına bağlanabilir?

- A) Düzlük alanların oranı
B) Toprak türü
C) Uygulanan tarım yöntemleri
D) Yapılan hayvancılık türü
E) İklim tipi

27. Türkiye'nin aşağıdaki iklim özelliklerinden hangisi bakı etkisiyle açıklanabilir?

- A) Orta Karadeniz Bölümü'nün yıllık ortalama yağış tutarının Batı Karadeniz Bölümü'nden az olması
B) Yazın en yüksek sıcaklıkların Güneydoğu Anadolu Bölgesi'nde yaşanması
C) Akdeniz Bölgesi'nde daha üst sınırının Ege Bölgesi'nden daha yüksek olması
D) Ege Bölümü'nde yıllık ortalama sıcaklığın iç Batı Anadolu Bölümü'nden yüksek olması
E) Akdeniz Bölgesi'nde dağların kuzey yamaçlarında karın yerde kalma süresinin güney yamaçlarından uzun olması

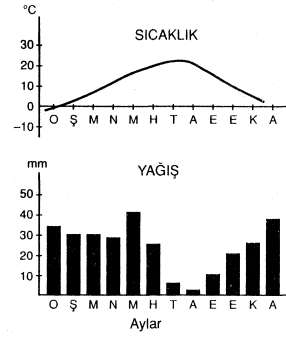
29. Aşağıdakilerden hangisi, iki ayrı bölgenin benzer iklim özelliklerine sahip olduğunu gösteren en sağlam kanıttır?

- A) Birbirlerine komşu olmaları
B) Yükselterinin aynı olması
C) Bitki örtülerinin aynı olması
D) Aynı enlemler arasında yer almaları
E) Aynı boylamlar arasında yer almaları

35. Toprağın derinliklerdeki kısmının yıl boyunca donmuş olarak kaldığı ve ancak yaz aylarındaki üst kısmının çözüldüğü bir bölgede ne tür bitki örtüsü görülür?

- A) Savan B) Step C) Tayga
D) Tundra E) Maki

31.



Yukarıda, aylık sıcaklık ve yağış ortalamaları grafikte gösterilmiş olan bir yörenin, doğal bitki örtüsü, aşağıdakilerden hangisi olabilir?

- A) Çayır B) Orman C) Bozkır
D) Tundra E) Çöl

32. Akdeniz ikliminin görüldüğü bölgelerin karakteristik bitki örtüsü aşağıdakilerden hangisidir?

- A) Bozkır B) Savan C) Maki
D) Tundra E) Çayır

33. Savan, hangi iklim tipinin doğal bitki örtüsüdür?

- A) Ekvatorial B) Subtropikal C) Karasal
D) Ilıman E) Soğuk

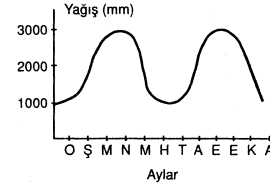
34. Ekvatorial bölgelerin bol yağış almasını sağlayan etken aşağıdakilerden hangisidir?

- A) Yer şekillerinin elverişli olması
B) Denizlerin karalardan fazla yer tutması
C) Yükselici hava hareketlerinin olması
D) Buharlaşmanın çok hızlı olması
E) Bitki örtüsünün çok gür olması

45. Aşağıdakilerden hangisi bir bölgede değişik iklim tiplerinin görüldüğünü kanıtlar?

- A) Akarsuların bol su taşıması
B) Nüfus yoğunluğunun fazla olması
C) Bitki örtüsünün çeşitli olması
D) Endüstrinin yoğun olması
E) Erozyonun şiddetli olması

36.



Yukarıdaki grafikte, ekvatorial iklimin görüldüğü bölgelerdeki yıllık yağış dağılışı verilmiştir.

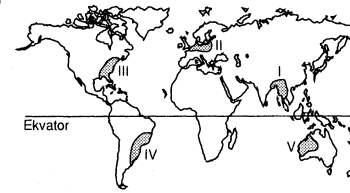
Bu bölgelerde yağış miktarının yıl içinde iki kez yükselmesi ne ile açıklanabilir?

- A) Nemli hava kütlelerinin etkili olmasıyla
B) Sürekli rüzgâr kuşağında bulunmasıyla
C) Güneş ışınlarının ekvatora dik gelmesiyle
D) Akarsu seviyelerinin yükselmesiyle
E) Sürekli alçak basınç alanında bulunmasıyla

37. Aşağıdakilerden hangisi Türkiye'de birbirinden farklı iklim özelliklerinin görüldüğüne bir kanıt olamaz?

- A) Çeşitli tarım ürünlerinin yetiştirilebilmesi
B) Doğal bitki örtüsünün farklılıklar göstermesi
C) Turizm mevsiminin güneyde daha erken başlaması
D) Çeşitli akarsu rejimlerinin görülmesi
E) Dağınık ve toplu yerleşmelerin görülmesi

39.



Yukarıdaki haritada numaralanmış alanların hangisinde kurak iklim görülür?

- A) I B) II C) III D) IV E) V

40. Aşağıdakilerden hangisi, İngiltere'nin her mevsim yağışlı olmasını sağlayan etkenlerden biridir?

- A) Yüzey şekillerinin az engebeli olması
B) Akarsu ağının sık olması
C) Orta kuşakta yer alması
D) Batı rüzgârlarının etkisinde kalması
E) Doğal bitki örtüsünün gür olması

46. I. Ekvator
II. Muson
III. Okyanus
IV. Savan
V. Akdeniz

İklim tiplerinin hangilerinde belirgin kurak dönem vardır?

- A) I ve III B) III ve V C) I, II ve IV
D) II, III ve V E) II, IV ve V

48. Türkiye'nin ılıman kuşakta yer alması, aşağıdakilerden hangisini etkiler?

- A) Dağ sıralarının uzanışı
B) Ortalama yükseltisi
C) Bitki örtüsünü
D) Akarsularının boylarını
E) Saat dilimini

50. Doğu Anadolu kışın Sibiryaya antisiklonu etkisi altında girdiği zaman hava nasıl olur?

- A) Soğuk ve fırtınalı kar yağışlı
B) Hafif rüzgârlı, açık ve çok soğuk
C) Hafif rüzgârlı, soğuk ve kar yağışlı
D) Hafif rüzgârlı, soğuk ve bulutlu
E) Açık, soğuk ve fırtınalı

51. Savan nedir?

- A) Orta kuşakta görülen 1,5-2 metre yüksekliğindeki otluklar
B) Sıcak kuşakta görülen kısa boylu otluklar
C) Sıcak kuşakta görülen 1,5-2 metre yüksekliğindeki otluklar
D) Kanada'da görülen çayırlar
E) Arjantin'de görülen çayırlar

C E V A P L A R

1. C	2. A	3. C	4. E	5. D	6. D
7. B	8. E	9. C	10. B	11. E	12. A
13. C	14. E	15. C	16. C	17. E	18. D
19. C	20. C	21. C	22. C	23. E	24. A
25. B	26. E	27. E	28. A	29. C	30. E
31. C	32. C	33. B	34. C	35. D	36. C
37. E	38. D	39. E	40. D	41. E	42. E
43. C	44. E	45. C	46. E	47. B	48. C
49. E	50. A	51. C	52. A	53. B	54. D
55. E	56. E	57. A	58. B	59. C	60. B