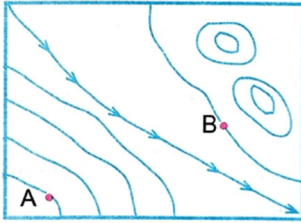


ADI SOYADI:
SINIF NO:

Aşağıdakileri verilenlerle eşleştirerek doğru cevabı yanına yazın.

EKÜDİSTANS – FİZİKİ HARİTA – ÖLÇEK – COĞRAFI KOORDİNAT – LEJANT – BOYUN – BAŞLIK – SİYASİ HARİTA- KROKİ

1. Eş yükselti eğrileri:
2. İşaret tablosu:
3. Küçültme oranı:
4. İzohips eğrileri arasındaki yükselti farkı:
5. Yer şekillerini gösteren haritalar:
6. İdari ve mülki harita:
7. İki tepe arasında kalan düzlük:
8. Bir bölgenin paralel ve meridyen dereceleri:
9. Haritanın hangi amaçla çizildiğini belirtir:
10. Kabataslak çizim:



Yukarıdaki izohips haritası 100 metre aralıkla çizildiğine göre A noktası ile B noktalarının yükselti farkı kaç metredir?

.....
.....
.....

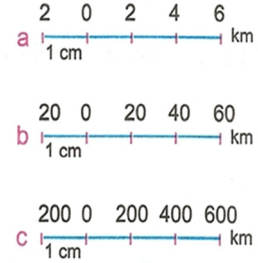
Bir çizimin harita özelliğini taşıyabilmesi için gereken şartlar:

- 1.
- 2.
- 3.

HARİTA BİLGİSİ GENEL TEKRAR

Aşağıdaki boşlukları örneğe göre doldurunuz

Özellikler	Büyük ölçekli Haritalar
Örn: Ayrıntıyı gösterme gücü	fazla
1. Gösterdiği alan	
2. Küçültme oranı	
3. Ölçeğin paydası	
4. Hata oranı	
5. Kağıtta kapladığı alan	



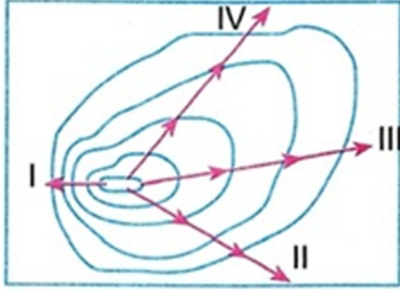
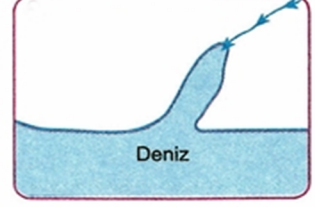
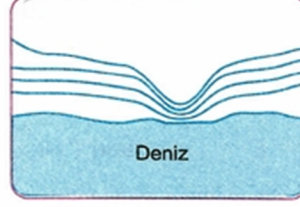
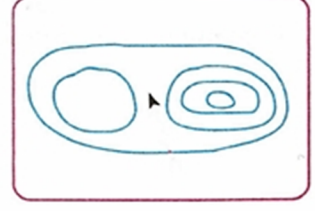
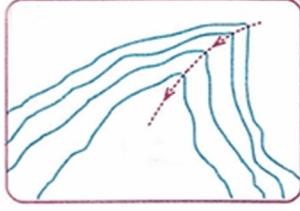
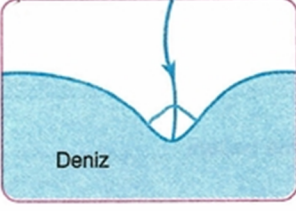
Yukarıdaki grafik ölçekleri büyükten küçüğe doğru sıralayınız?

.....
.....
.....

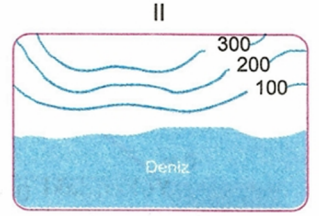
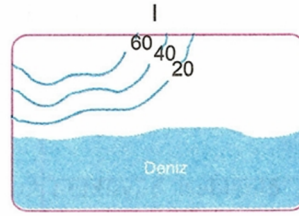
1/200.000 ölçekli haritada 3 cm ile gösterilen bir akarsu başka bir haritada 6 cm ile gösterilmiştir. Buna göre 2. Haritanın ölçeği nedir?

Bir öğrenci yaşadığı şehrin önce komşularını, sonra yeryüzü şekillerini sonra da nüfusunu öğrenmek istemiştir. Buna göre öğrencinin sırasıyla bakması gereken haritalar nelerdir?

Aşağıdaki İzohips haritasında gösterilen yerçekillerin adlarını yazın.



Yukarıdaki haritada dört farklı akarsu gösterilmiştir. Bu akarsulardan hangisinin hidroelektrik potansiyeli daha yüksektir. Neden?



Yukarıdaki izohips haritasında;

1. İzohips aralıklarının (eküdistans) farklı olma sebebi nedir?

2. Hangi harita büyük, hangi harita küçük ölçeklidir?

1/200.000 ölçekli İstanbul haritası daha sonra 1/400.000 ölçeğine göre tekrar çizilmiştir. Buna göre ikinci haritadaki değişimleri yazın.

Ayrıntı:

Kağıtta kapladığı yer:

Paralel - meridyen dereceleri:

Küçültme oranı:

Kullanım amaçlarına göre Haritalar yazılmıştır.

Karşılıklarına kısaca açıklama yapın:

1. Fiziki Harita:

2. Beşeri ve Ekonomik Harita:

3. Siyasi (İdari Harita):

4. Özel Harita:

1/500.000 ölçekli bir haritada bir göl 6 cm² olarak ölçülmüştür. Buna göre bu gölün gerçek alanı kaç km² dir?

İstanbul Ankara arasındaki uzaklık 350 km'dir. Bu uzaklık 1/200.000 ölçekli haritada kaç cm olarak gösterilir?