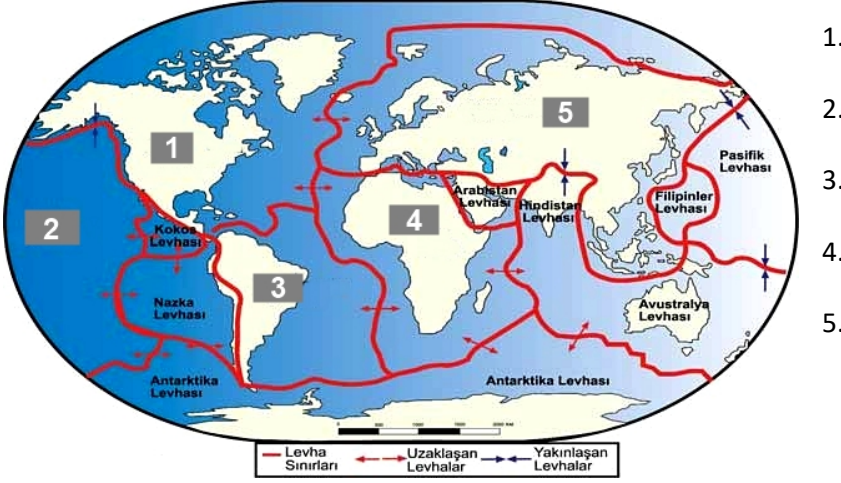


# 2023 – 2024 EĞİTİM YILI 10. SINIF COĞRAFYA DERSİ 1. DÖNEM 1. YAZILI ÖRNEĞİ

1-Aşağıdaki dünya haritasında numaralarla gösterilen levhaların isimlerini yazınız?

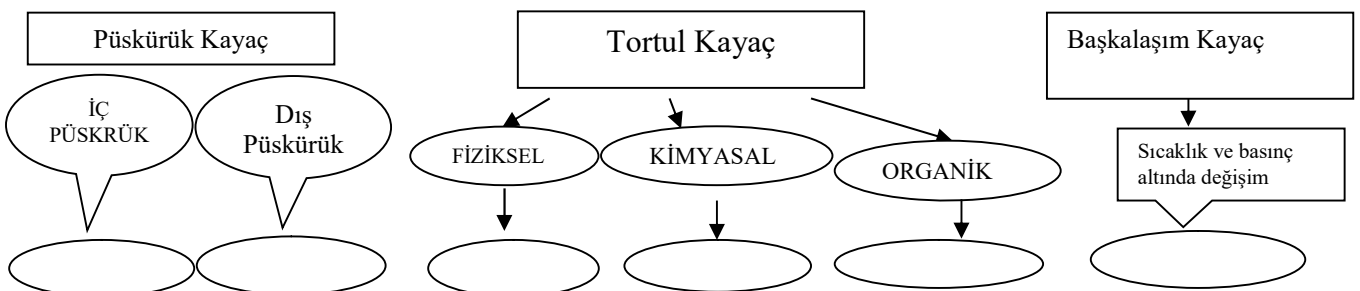


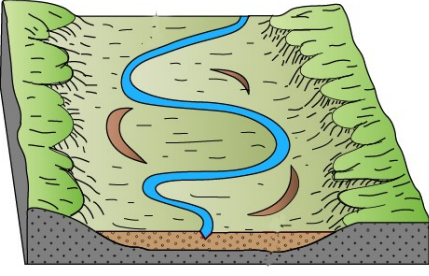
2- Aşağıdaki cümlelerin yanına doğru ise "D" yanlış ise "Y" harfi koyunuz

- (.....) Yerkabuğunu oluşturan levhalar çok yavaş hareket ederler.
- (.....) Sıcak su kaynaklarının yaygın olduğu alanlarda volkanik faaliyetler görülmez.
- (.....) Sıcak su kaynakları, yeryüzüne düzenli bir şekilde dağılmıştır.
- (.....) Anadolu yarımadası levha sınırında yer alır.
- (.....) Yerin içine gidildikçe sıcaklık ve yoğunluk artar.
- (.....) Toros Dağları ve Kuzey Anadolu Dağları tersiyerde (senozoyik 3. Zaman) oluşmuştur.
- (.....) Ülkemizde aktif volkan bulunur.
- (.....) Fosiller yerin iç yapısı hakkında bilgi verir.
- (.....) Sibiryaya, Kanada gibi yerlerde volkanik faaliyetler yoğundur.
- (.....) Okyanuslardaki Hawaii, Aleut gibi adaların oluşumu Volkanizmayla ilişkilendirilebilir.

3-Aşağıdaki boş bırakılan yerleri doldurunuz?

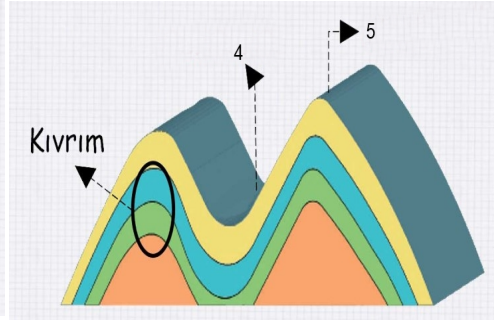
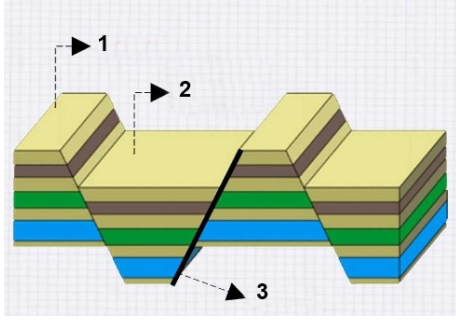
- Yerkabuğunun magma üzerinde yüzen büyük parçalarına ..... denir.
- İzlanda gibi volkanik alanlarda püskürerek yüzeye çıkan sıcak sulara ..... denir.
- Yerkabuğunda meydana gelen kısa süreli ani sarsıntılara ..... denir.
- Magmanın yerin derinliklerinden hareket ederek yeryüzüne çıkması olayına..... denir.
- Akarsuyun aşındırabileceği en son seviyeye gelmesine ..... denir. Bu oluşuma ülkemizde rastlanmaz.
- Akarsuyun yıl içindeki akım düzenine ..... denir.





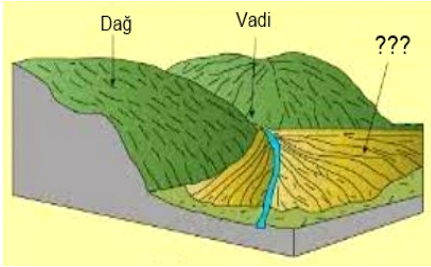
Yandaki şekildeki gibi akan bir akarsu için üç özellik yazın.

- 1.
- 2.
- 3.



Yukarıdaki şekilde gösterilen yerlerin isimlerini yazın.

- 1.
- 2.
- 3.
- 4.
- 5.



Yanda akarsuyun dağ eteğinde oluşturduğu birikim gösterilmiştir. Bu şeklin adı nedir? Bu şeklin oluşması için ne gibi şartlar gereklidir?

Volkanik arazilere ait iki özellik yazın.

Pasifik ateş çemberi ne demektir? Bu hatta olan iki ülke yazın.

Karstik Şekil ne demektir? Karstik aşındırma şekillerinden iki tanesini yazın.

Fiyort kıyı ne demektir? Bu kıyılar ülkemizde bulunur mu neden?

Lagün, Tombolo, Delta Ovası, Ria Kıyı, Volkanik Dağ, Mağara, Krater kavramlarına ülkemizden birer örnek verin.

Moren, Delta, Obruk, Lagün, Falez, Birikinti Konisi, Mantarkaya, Lös, Alüvyon, Traverten, obruk şekillerini hangi dış kuvvet oluşturmuştur? Bunlar aşınım mıdır birikim midir? Örnekteki gibi yazın.

Örnek: Delta..... Akarsu birikim