

# TÜRKİYE’NİN YERŞEKİLLERİ VE İKLİMİ TEST

1. Türkiye, Japonya ile birlikte ortalama yükseltisi fazla olan ülkeler içinde yer alır. **Aşağıda verilenlerden hangisi, Türkiye’nin yükselmesinde etkili değildir?**

- A) Epirojenez B) Orejenez  
C) Volkanizma D) Kıvrım dağlarının oluşumu  
E) Erozyon olaylarının görülmesi

2. Aşağıdakilerden hangisi Anadolu’nun yakın Jeolojik dönemde **yükseldiğinin kanıtı olabilir** (epirojenez)?

- A. Dağların çok olması  
B. Volkan konilerinin fazla aşınmamış olması  
C. Akarsu yataklarının denge profiline ulaşmamış olması  
D. Kıyılarda delta ovalarının görülmesi  
E. Ova ve platoların yükseklerde yer alması

3. Türkiye’de geçtiğimiz dönemlerde kesinlikle **Epirojenez görülmüştür** diyen bir araştırmacı aşağıdakilerden hangisini kanıt gösterebilir?

- A. Ege karasının çökmesini  
B. Yükseltinin doğru artması  
C. Depremlerin çok olduğunu  
D. Kıvrım dağların varlığını  
E. Tektonik göllerin çok olmasını

4. Kaplıca ve ılıcaların yurdumuzun birçok yerinde görülmesi ülkemizin hangi özelliğinden kaynaklanır?

- A. Kırıklı arazinin çokluğu  
B. Genç kıvrımların varlığı  
C. Yükseltinin fazla olması  
D. Kalker arazinin yaygınlığı  
E. Yağış rejiminin düzensizliği

5. Türkiye’de buzul aşındırmasının az olması **ülkemizin hangi özelliğinin sonucudur?**

- A. Ortalama yükseltisinin az olmasının  
B. Yer şekillerinin engebeli olmasının  
C. Orta kuşağın güney kesiminde olmasının  
D. Üç tarafının denizlerle kaplı olmasının  
E. Genç oluşumlu olmasının

6. Van gölünün sularını denize ulaştıramayan bir kapalı havza olması aşağıdakilerden hangisinin sonucudur?

- A. Yüksek dağlarla çevrili olması  
B. Sularının sodalı olması  
C. Suyu bol akarsularla beslenmesi  
D. Ortalama yükseltisinin fazla olması  
E. Derinliğinin fazla olması

7. Akdeniz Bölgesi’nde mağara, obruk, polye, lapy gibi yer şekillerine sıkça rastlanır.

Akdeniz Bölgesi’nin hangi özelliği bu yer şekillerinin oluşumuna neden olur?

- A) Ortalama yükseltisinin fazla olması  
B) Rüzgâr aşındırmasının etkili olması  
C) Karstik arazinin geniş yer kaplaması  
D) Çok sayıda göl bulunması  
E) Kıta sahanlığının dar olması (Denizin derin)

8. Aşağıdakilerden hangisi Türkiye’deki akarsuların genel özelliklerinden **değildir?**

- A. Ulaşımında yararlanılabilir

B. Rejimleri düzensizdir

C. Bazı bölgelerde kapalı havzalara dökülürler

D. Maksimum akım ilkbahar aylarındadır

E. Bol su taşımazlar ancak hızlı akışlıdırlar

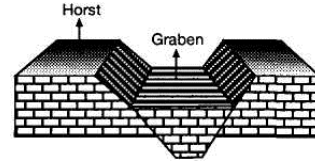
9. Aşağıdaki oluşumlardan hangisi karstik şekillerden **değildir?**

- A. Pamukkale travertenleri B. Obruk Gölü  
C. Elmalı ve Korkuteli Ovaları  
D. Damlatış mağarasındaki sarkıt ve diktler  
E. Kapıdağ yarımadası

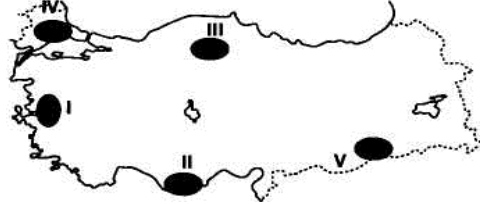
10. Türkiye’nin doğal bitki örtüsünün seyrek olduğu yerlerde su ve rüzgâr erozyonu birlikte etkili olmaktadır.

**Buna göre aşağıdaki yerlerden hangisinde bu ikisi birlikte etkili olur?**

- A. Giresun B. Kars C. Nevşehir  
D. Muğla E. Bolu



11. Orojenez sonucunda oluşmuş **Horst ve Grabenler** haritadaki taralı alanlardan hangisinde görülür?



- A) I B) II C) III D) IV E) V

12. Yükseltinin fazla olduğu ovalarda tarım ürünlerinin çeşitliliği azdır. Aşağıda verilen ovaların yükseltileri dikkate alınırsa hangisinde tarım ürünü çeşitliliğinin daha az olduğu söylenebilir?

- A) Gediz B) Çukurova C) Silifke  
D) Erzincan E) Altınbaşak

13. Çukurova ve Çarşamba delta ovaları, Konya ve Malatya ovalarından daha verimlidir.

Aşağıdakilerden hangisi bu durumun nedenleri arasında gösterilemez?

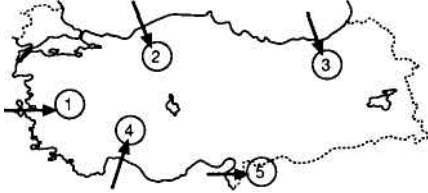
- A) Çukurova ve Çarşamba ovalarının oluşumunda taşınmış toprakların (alüvyon) fazla olması  
B) Ovalardaki sulama koşullarının farklı olması  
C) Yıllık sıcaklık ortalamalarının farklı olması  
D) Yıllık yağış miktarlarının farklı olması  
E) Konya ve Malatya ovalarında bitki örtüsünün daha cılız olması

14. Aşağıdaki ovalarımızdan hangisi oluşum bakımından **delta ovası özelliği taşımaz?**

- A) Silifke ovası B) Bafra ovası  
C) Çukurova D) Adapazarı ovası  
E) Çarşamba

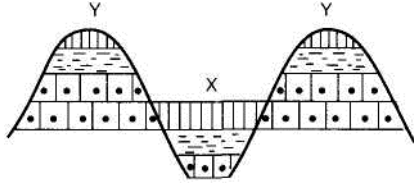
# TÜRKİYE'NİN YERŞEKİLLERİ VE İKLİMİ TEST

15.



Türkiye'nin yeryüzü şekilleri düşünüldüğüne yukarıdaki haritada oklar doğrultusunda ilerleyen nemli hava kütlelerinden hangisinin iç kısımlara sokulma ihtimali daha fazladır?

- A) 1 B) 2 C) 3 D) 4 E) 5



16. Ege Bölgesi'nde orojenez sonucu oluşmuş bir yeryüzü şeklinin kesiti yukarıda gösterilmiştir.

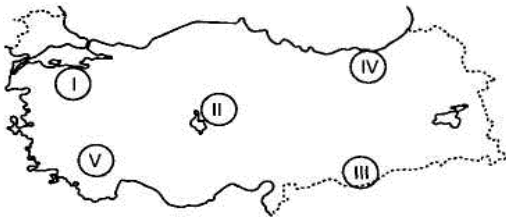
Aşağıdakilerden hangisi X ve Y ile gösterilen yer şekillerine örnek olarak gösterilemez?

- A) Büyük Menderes Ovası B) Madra Dağı  
C) Bakırçay Ovası D) Yıldız Dağları  
E) Bozdağlar

17. Türkiye'deki arazilerin %92'si deprem kuşağı üzerinde bulunmaktadır.

Aşağıdakilerden hangisi Türkiye'nin deprem kuşağı üzerinde bulunmasının nedenleri arasında sayılamaz?

- A) Genç oluşumlu arazilerin yaygın olması  
B) Alp-Himalaya sistemi üzerinde bulunması  
C) Kırıklı yapıya sahip olması  
D) Tabakaların yerleşmemiş olması  
E) I. jeolojik zaman oluşumlarının bulunması



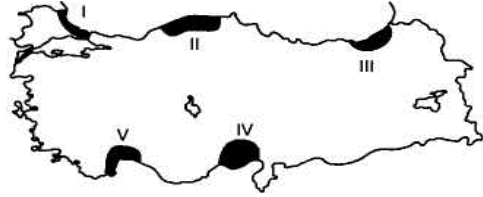
18. Eğim ve yağış arttıkça heyelan ve toprak kaymaları artar. Buna göre, harita üzerinde numaralanmış bölgelerden hangisinde heyelan ve toprak kaymalarına daha fazla rastlanır?

- A) I B) II C) III D) IV E) V

19. Aşağıdakilerden hangisi Türkiye'deki, dağların genel özelliklerinden biri değildir?

- A) Doğu-batı yönlü uzanırlar  
B) Volkanik dağlar, sıradağ özelliği gösterir.  
C) Doğuya gidildikçe yükseltileri artar.  
D) Kuzey ve güneydeki dağlar kıyıya paralel uzanırlar.  
E) Akdeniz dekiler Orojenez sonucu oluşmuşlardır

20. Akarsuların taşıdığı maddeyi, denize ulaştırdığı yerlerde falez (yalıyar) oluşumu görülmez.

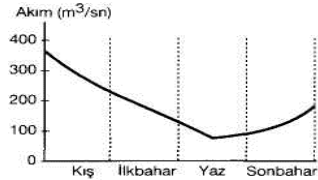


Buna göre, taralı kıyılardan hangisinde falez oluşması beklenmez?

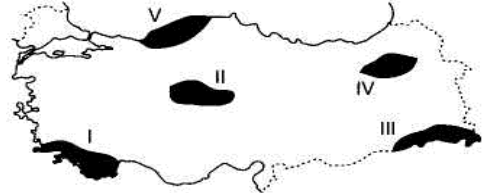
- A) I B) II C) III D) IV E) V

21. Erzurum-Kars platosu verimli lav topraklarıyla örtülüdür. Ancak buna rağmen Erzurum-Kars platosunda tarım yerine hayvancılık yapılmasının temel nedeni nedir?

- A) Yüksek olması nedeniyle ikliminin tarıma elverişsiz olması  
B) Toprakların parçalı olması  
C) Hayvancılığın ekonomik gelirinin fazla olması  
D) Tarım ürünleri çeşidinin az olması  
E) Hayvancılığın devlet tarafından desteklenmesi



22. Yukarıda yıllık akım durumu mevsimlere göre verilmiş olan akarsuyun aşağıda verilen Türkiye haritası üzerinde taralı yerlerden hangisinde yer aldığı söylenebilir?



- A) I B) II C) III D) IV E) V

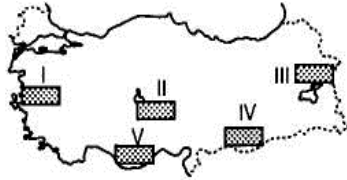
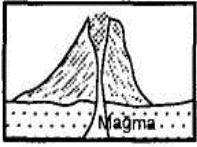
23. Bolu, Kızılcahamam, Kütahya, Afyon, Hatay gibi yörelerde kaplıca ve şifalı suların bulunması bu yörelerin hangi bakımdan benzer olduğuna kanıt gösterilebilir?

- A) Sıcaklık B) Yer şekilleri C) Eğim  
D) Kırıklı yapı E) Yağış

24. Yer yapısının geçirdiği evreler incelendiğinde Türkiye'nin genç oluşumlu bir ülke olduğu görülmektedir. Buna göre aşağıdakilerden hangisi bu oluşumun sonuçlarından biri değildir?

- A) Deprem kuşağı içinde bulunması ve bundan etkilenmesi  
B) Akarsu aşındırma şekillerinin fazla olması  
C) Sıcak su kaynaklarının bol olması  
D) Buzul etkisiyle oluşan kıyılara rastlanmaması  
E) Akarsuların enerji potansiyelinin fazla olması

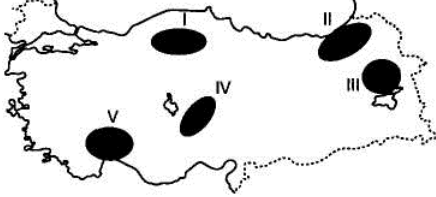
# TÜRKİYE'NİN YERŞEKİLLERİ VE İKLİMİ TEST



25. Yukarıda gösterilen yer şeklinin yandaki harita üzerinde işaretli alanlardan hangisinde bulunduğu söylenemez?

- A) I B) II C) III D) IV E) V

26. Yanardağların etkin olduğu bölgelerde gaz basıncının etkisiyle yeraltındaki suların fişkırarak yeryüzüne çıktığı sıcak su kaynaklarına gayzer denir.



Buna göre, Türkiye'deki volkanların etkin olduğu düşünülürse yukarıdaki haritada işaretlenmiş merkezlerin hangilerinde **gayzerlerin görülme olasılığı en fazladır?**

- A) I ve II B) Yalnız II C) III ve IV  
D) Yalnız V E) Yalnız I

27. Türkiye üç tarafı denizlerle çevrili bir yarımadadır. Aşağıdakilerden hangisi Türkiye'yi çevreleyen denizlerle ilgili **doğru bilgi değildir?**

- A) Kıyılarında delta oluşumu fazladır.  
B) Akdeniz'de tuzluluk oranı eh fazladır.  
C) Kuzeye gidildikçe deniz suyunun sıcaklığı azalır.  
D) Kışın havanın daha da soğuk olmasına sebep olur  
E) Boğazlarda alt ve üst akıntılar görülür.



28. Yukarıdaki haritada, Türkiye'deki fay hatlarının dağılımı verilmiştir.

Türkiye'deki fay hatlarının dağılımı ile aşağıdakilerden hangisi arasında paralellik **yoktur?**

- A) Kaplıcaların B) Deprem alanlarının  
C) Nüfus yoğunluğunun D) Yer yapısının  
E) Jeotermal enerji kaynaklarının

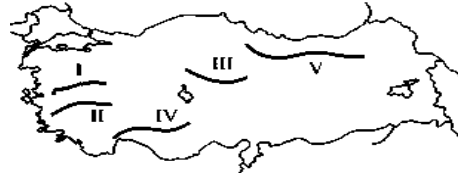
29. Türkiye akarsuları incelendiğinde genellikle;  
I. Akış hızlarının fazla olduğu  
II. Dik ve derin vadilerden aktığı  
III. Denge profiline ulaşmadıkları görülür.

**Yukarıdaki özelliklerin ortaya çıkmasındaki temel faktör aşağıdakilerden hangisidir?**

- A) Dağların doğu-batı yönde uzanmaları  
B) Yükseltinin ve engebenin fazla olması  
C) Akarsuların boylarının uzun olması  
D) Akarsuların açık havza özelliği taşıması  
E) Çok sayıda fay hattının bulunması



Şekil -I



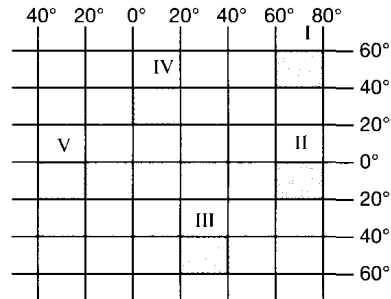
Şekil -II

30. Yukarıda şekil -1 de yan basınçlara uğrayan ve kıvrılma ile meydana gelen dağ oluşum sistemleri şekil - II de hangi yerlerde gösterilmiştir?

- A) I ve II B) IVveV C) II ve III  
D) I ve IV E) II ve IV

31. Ekvator'dan kutuplara doğru gidildikçe genelde sıcaklık azalır. Aşağıdakilerden hangisi sıcaklık - enlem ilişkisine **ters** düşer?

- A) İzmir'de yıllık sıcaklık ortalamasının İstanbul'dan fazla olması  
B) Mersin'de tarım ürünlerinin olgunlaşma süresinin İzmir'den kısa olması  
C) Adana'daki sıcaklık ortalamalarının Ankara'dan fazla olması  
D) Samsun'da yıllık ortalama sıcaklığın Erzurum'dan fazla olması  
E) Antalya'da yaz turizmi süresinin İzmir'den fazla olması



32. Türkiye 26°-45° Doğu Meridyenleri ile 36°-42° Kuzey paralelleri arasında yer alır. Buna göre aşağıda belirtilen taralı bölgelerden hangisinin;

- Yerel saatinin Türkiye'den ileri  
- Çizgisel hızının Türkiye'den fazla olduğu **söylenbilir?**  
A) I B) II C) III D) IV E) V

33. Birbirine komşu olan İç Anadolu ve Karadeniz bölgelerinin aşağıdaki özelliklerinden hangisi **özel konumlarından kaynaklanmaz?**

- A) Karadeniz Bölgesi'nin İç Anadolu Bölgesi'nden daha çok yağış alması  
B) İç Anadolu Bölgesi'nin kış sıcaklıklarının Karadeniz Bölgesi'nden düşük olması  
C) Karadeniz Bölgesi'nde ulaşım faaliyetlerinin daha zor olması  
D) Karadeniz Bölgesi'nin güneş ışınlarını İç Anadolu'ya göre daha küçük açılarla alması  
E) Güneye gidildikçe sıcaklığın artması

# TÜRKİYE’NİN YERŞEKİLLERİ VE İKLİMİ TEST

- I. Yer şekilleri      II. Boylam      III. Enlem  
IV. Yükselti      V. Yeraltı kaynakları

**34. Türkiye’de iklim, bitki örtüsü ve tarım ürünleri çeşitliliğinin görülmesinde yukarıda verilenlerden hangileri etkili olmuştur?**

- A) II - III      B) I - IV      C) I - III - IV  
D) II-IV-V      E) I-III-V

**35. Aşağıdakilerden hangisi Türkiye’de görülen iklim çeşitliliğinden etkilenmez?**

- A) Toprak çeşidi      B) Kıvrım dağlarının oluşumu  
C) Akarsu rejimleri      D) Turizm etkinlikleri  
E) Ulaşım koşulları

**36. Türkiye’de aynı anda farklı iklim özelliklerinin görülmesinde aşağıdakilerden hangisinin etkisi yoktur?**

- A) Deniz etkisine kapalı iç bölgelerin geniş yer kaplaması  
B) Batıdan doğuya gidildikçe yükseltinin artması  
C) Orta kuşakta yer alması  
D) Dağların uzanış doğrultuları  
E) Kısa mesafelerdeki yükselti değişimleri

**37. Türkiye’de;**

- En az etkili olan dış kuvvet buzullardır.
- Bitki örtüsü ve tarım ürünleri çeşitlilik gösterir.
- Cephesel yağışlar etkili olur.

Yukarıda belirtilen durumların temel nedeni aşağıdakilerden hangisidir?

- A) Yükselti fazlalığı  
B) Yer şekillerinin çeşitlilik göstermesi  
C) Karasal ve denizel etkenler  
D) Bulunduğu enlem değerleri  
E) Kuzey Yarımküre’de yer alması

**38. Karadeniz Bölgesi’nde bir kıyı kenti olan Rize’de kış sıcaklıklarının bölgenin diğer kıyı kentlerine göre daha yüksek olmasının temel nedeni aşağıdakilerden hangisidir?**

- A) Föhn rüzgarlarının ve denizelliğin etkisi  
B) Matematik konum  
C) Daha kuzeyde yer alması  
D) Kıta sahanlığının (Şelf) darlığı  
E) Dağların uzanış doğrultusu

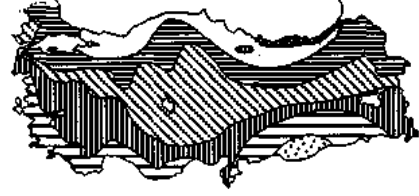
**39. Türkiye’de kış mevsiminde en sıcak bölge Akdeniz iken, yaz mevsiminde en sıcak bölge Güneydoğu Anadolu’dur. İki bölgeyi karşılaştırdığımızda aşağıdakilerden hangisi bu farklılığın nedenini oluşturur?**

- A) Nemlilik      B) Enlem  
C) Yer şekilleri      D) Arazinin dağlık oluşu  
E) Yağış rejimi

**40. Türkiye’de karın yerde kalma süresi batıdan doğuya gittikçe uzar. Aşağıdakilerden hangisinde, bunun nedenleri birlikte verilmiştir?**

- A) Nemlilik, enlem      B) İklim, matematik konum  
C) Enlem, yükselti      D) Karasallık, denize uzaklık  
E) Yükselti, karasallık

**41. Aşağıda Türkiye’nin yıllık ortalama bulutluluk haritası verilmiştir.**

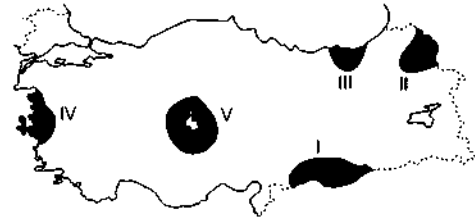


Ülkemizde bulutluluk oranı, bağıl (oransal) nemin dağılışı ile paralellik gösterir. Bulutluluk oranının fazla olduğu bir bölge için aşağıdakilerden hangisi söylenebilir?

- A) Yağış oranı azdır.  
B) Günlük ve yıllık sıcaklık farkları fazladır.  
C) Bağıl nem oranı düşüktür.  
D) Güneşlenme süresi azdır.  
E) Işıma yolu ile kaybedilen ısı miktarı fazladır.

**42. Akdeniz ve Ege Bölgesi’nde yetiştirilen bazı bitki türlerinin Kuzey Amerika’da Kaliforniya Güney Amerika’da Orta Şili ile Güney Afrika’nın Kap yöresinde de yetiştirilmesini aşağıdakilerden hangisi en iyi açıklar?**

- A) Deniz kıyısında yer almaları  
B) Kutuplara uzaklıklarının aynı olması  
C) İklim tiplerinin aynı olması  
D) Yükselti değerlerinin benzer oluşu  
E) Yağış miktarlarının aynı olması




**43. Yukarıda Türkiye haritası üzerinde işaretli alanlardan hangileri sırasıyla ortalama yağış miktarının en fazla ve en az olduğu yerlerdir?**

- A) V - III      B) I - II      C) IV - V  
D) II-I      E) III-V

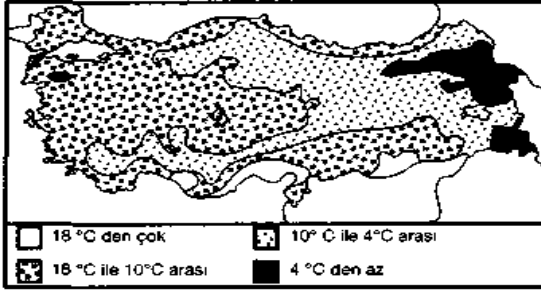
**44. I. Ege kıyılarının kuzey bölümlerinde turuncgil yetişmemesi  
II. İç Anadolu’dan Karadeniz’e gidildikçe buğdayın yerini mısra terk etmesi  
III. Torosların güney yamaçlarında ürünlerin kuzey yamaçlarına göre daha erken olgunlaşması**  
Yukarıdaki olayların sebepleri, aşağıdakilerden hangisinde doğru olarak sıralanmıştır?

- | I           | II    | III           |
|-------------|-------|---------------|
| A) Yükselti | Enlem | Yağış         |
| B) Enlem    | Yağış | Bakı          |
| C) Nem      | Bakı  | Enlem         |
| D) Yükselti | Bakı  | Yer şekilleri |
| E) Enlem    | Nem   | Yükselti      |

## TÜRKİYE'NİN YERŞEKİLLERİ VE İKLİMİ TEST



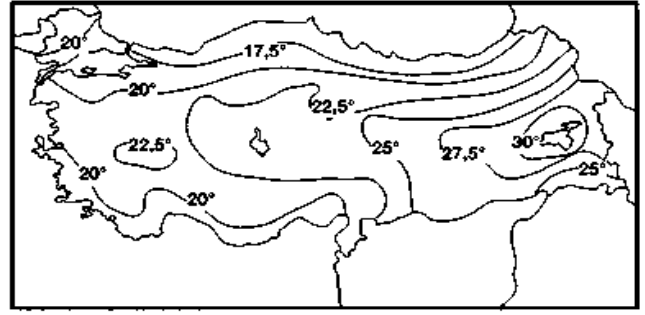
45. Yukarıda Türkiye'nin indirgenmiş Temmuz ayı izoterm haritası verilmiştir. Aşağıdakilerden hangisi bu haritadan çıkarılabilecek doğru bir sonuç değildir?
- A) En yüksek ortalamaların Güney doğu Anadolu'da görülmesinde enlem ve karasallık etkili olmuştur.  
 B) En düşük ortalamaların Karadeniz kıyılarında görülmesinde Ekvator'a uzaklık etkili olmuştur.  
 C) izotermeler genelde paralelleri takip etmektedir.  
 D) Batıdan doğuya doğru sıcaklığın değişmesinde karasallık etkili olmuştur.  
 E) Sıcaklık değerleri güneyden kuzeye doğru genel olarak azalmaktadır.



46. Yukarıdaki haritada Türkiye'nin yıllık gerçek sıcaklık haritası gösterilmiştir. Buna göre en düşük sıcaklıkların Kuzeydoğu Anadolu'da görülmesinde;
- I. Yükselti  
 II. Karasallık  
 III. Sibiryaya Yüksek Basınç merkezi  
 IV. Basra Alçak Basınç merkezi etmenlerinden hangileri etkili değildir?
- A) I - II - III    B) I - II    C) Yalnız I  
 D) Yalnız IV    E) II - IV

47. Akdeniz iklimi, Akdeniz Bölgesi'nde daha çok kıyı kesimlerinde etkili olurken, Ege Bölgesi'nde kıyıdan 150-200 km. içerilere kadar sokulabilmekte ve buralarda zeytin ve turunçgil üretimi yapılabilmektedir. Aşağıdakilerden hangisi bu durumun nedenidir?
- A) Yükseltinin batıdan doğuya doğru artması  
 B) Dağların kıyıya uzanış doğrultusu  
 C) Denizel etkiler  
 D) Verimli alüvyal ovalar  
 E) Yer şekillerinin sade olması

48. Kış döneminde Kuzey Anadolu dağlarını aşarak, Doğu Karadeniz kıyılarında havaların ısınmasını, buralarda mikro klima alanlarının oluşmasına zemin hazırlayan rüzgar aşağıdakilerden hangisidir?
- A) Sirokko    B) Hamsin    C) Föhn  
 D) Samyeli    E) Poyraz

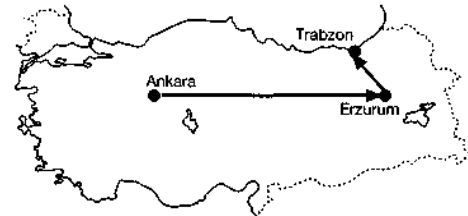


49. Yukarıdaki harita Türkiye'nin yıllık sıcaklık farklarını göstermektedir. Haritadaki değerler incelendiğinde Karadeniz Bölgesi'nin yıllık sıcaklık farkının Akdeniz Bölgesi'nden daha az olduğu dikkati çeker. Aşağıdakilerden hangisi bunun nedenidir?
- A) Nem oranı    B) Bitki örtüsü  
 C) Karasallık    D) Yükselti farkı  
 E) Çizgisel dönüş hızı



50. Yazların sıcak ve kurak, kışların ise ılık ve yağışlı olduğu alanlarda yetişebilen bir bitki türü yukarıdaki haritada gösterilen yerlerden hangisinde daha yaygındır?
- A) I    B) II    C) III    D) IV    E) V

51. Muğla ve İzmir illeri Kıyı Ege Bölümünde yer almalarına karşın yıllık yağış tutarları bakımından birbirinden farklılık gösterir. Aşağıdakilerden hangisinin bu iki ilin yağış miktarlarındaki farklılığa neden olduğu söylenebilir?
- A) Enlemlerinin farklı olması  
 B) Dağların denize olan konumlarının farklı olması  
 C) Denizel etkilerin farklı olması  
 D) Toprak türlerinin farklı olması  
 E) Orman miktarlarının farklı olması



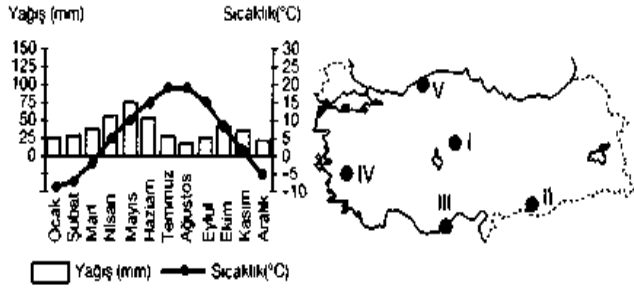
52. Yukarıdaki haritada işaretli merkezlerden ok yönünde hareket edildiğinde bitki örtüsündeki değişim sırasıyla aşağıdakilerden hangisi gibi olur?

- |    | Ankara | Erzurum | Trabzon |
|----|--------|---------|---------|
| A) | Bozkır | Çayır   | Orman   |
| B) | Orman  | Orman   | Maki    |
| C) | Bozkır | Maki    | Çayır   |
| D) | Maki   | Bozkır  | Çayır   |
| E) | Maki   | Maki    | Orman   |

# TÜRKİYE’NİN YERŞEKİLLERİ VE İKLİMİ TEST

53. I. Kuzey kıyıları ile Güney kıyıları arasında  $T - 8^{\circ}\text{C}$  sıcaklık farkının olması  
 II. Kış mevsiminde Erzurum'un Iğdır'dan soğuk olması  
 III. Aynı anda farklı mevsim özelliklerinin yaşanması  
 IV. Ege kıyıları boyunca kuzeye gidildikçe deniz suyu tuzluluğunun azalması  
 V. Ilıman iklim kuşağında yer alması **Yukarıdakilerden kaç tanesi Türkiye'nin enlemi ile ilgilidir?**  
 A) 1 B) 2 C) 3 D) 4 E) 5

54. Bir hava kütesinin belli sıcaklıkta taşıyabileceği en fazla nem miktarına maksimum nem denir. Sıcaklık arttıkça havanın doyması için gerekli olan nem miktarı artar. Temmuz ayında, yaklaşık aynı enlemde yer alan aşağıdaki illerden hangisinde havanın doyması için gerekli olan nem miktarı daha fazla olur?  
 A) Muğla B) Antalya C) Adana  
 D) İzmir E) Şanlıurfa



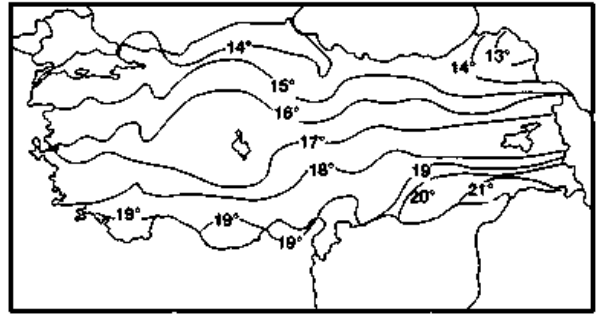
55. Yukarıda verilen yıllık sıcaklık ve yağış grafiği Türkiye haritasında işaretlenmiş noktalardan hangisine ait olabilir?  
 A) I B) II C) III D) IV E) V



56. İşaretli illerin hangisinde gerçek sıcaklık ile indirgenmiş sıcaklık arasındaki fark en azdır?  
 A) Ankara B) Ardahan C) İzmir  
 D) Bitlis E) Hakkari

57. I. Türkiye'nin kuzey kıyılarının güney kıyılarına göre daha soğuk olması,  
 II. Sıcaklığın batıdan doğuya doğru azalması,  
 III. Bitki örtüsünün çeşitlilik göstermesi,  
 IV. Yaz süresinin en uzun sürdüğü kesimlerin Akdeniz Bölgesinin olması,  
**Yukarıdaki bilgilerden hangileri enlemin etkisine örnek gösterilebilir?**

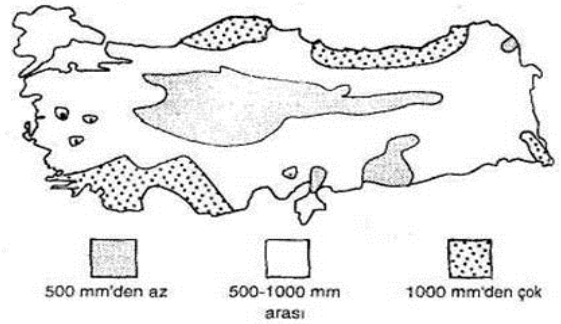
- A) I ve II B) II ve III C) I ve IV  
 D) I ve III E) II ve IV



58. Türkiye'nin yıllık indirgenmiş izoterm haritası yukarıda verilmiştir. Buna göre aşağıdakilerden hangisi söylenemez?  
 A) İzoterm eğrilerinin uzanışı enleme paralellik göstermez.  
 B) En yüksek sıcaklık değerleri Güneydoğu Anadolu'dadır.  
 C) Akdeniz'in sıcak olmasında enlemin etkisi vardır.  
 D) Kuzeydoğu Anadolu'da sıcaklığın düşük olması yükseltinin fazla olmasıyla ilgilidir.  
 E) Karadeniz kıyıları Ege kıyılarından daha soğuktur.

- I. Çok çeşitli tarım ürünlerinin yetiştirilmesi  
 II. Balıkçılığın Karadeniz bölgesinde daha yaygın olması  
 III. Çeşitli akarsu rejimlerinin görülmesi  
 IV. Ege'de deniz etkisinin iç kesimlere ulaşması

59. Yukarıdakilerden hangisi Türkiye'de çok çeşitli iklim tiplerinin görüldüğüne örnektir?  
 A) I ve II B) II ve III C) III ve IV  
 D) I ve III E) II ve IV



60. Yukarıdaki haritada Türkiye'nin yıllık yağış miktarının dağılımı verilmiştir. Marmara Bölgesi denizlerle iç içe olmasına rağmen yağış miktarının az olmasının temel nedeni aşağıdakilerden hangisidir?  
 A) Yer şekillerinin çeşitli olması  
 B) Yükseltisinin az olması  
 C) Çeşitli iklim tiplerinin görülmesi  
 D) Enlem  
 E) Deniz etkisi

**Cevaplar:** 1e2e3a4a5c6a7c8a9e10c11a12d13a14d15a16d17e18d19b20d21a22a23d24d25e26c27d28c29b30b31d32b33d34c35b36d37d38a39a40e41d42c43e44b45d46d47b48c49a50e51b52a53c54e55a56c57c58d59d60b