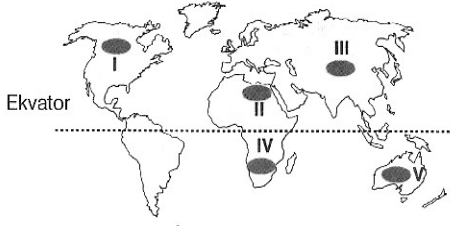


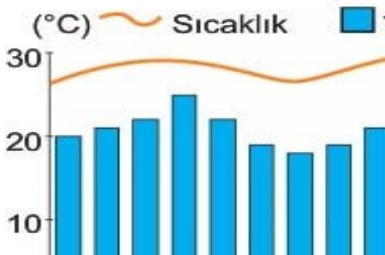
## 10 SINIF GENEL TEKRAR - 2

1. Buzul aşındırması sonucu oluşan çukurlarda, suların birikmesiyle buzul gölleri oluşur.



Buna göre, yukarıdaki haritada numaralandırılmış taralı alanların hangisinde **buzul gölleri** daha yaygındır.

- A) I B) II C) III D) IV E) V



2. Yukarıdaki sıcaklık ve yağış grafiği verilen iklim bölgesinin bitki ve toprak özelliği aşağıdakilerden hangisinde doğrudur?

Toprak	Bitki örtüsü
A) Litosoller	Tayga
B) Terra rossa	Maki
C) Laterit	Geniş yapraklı Orman
D) Podzol	İğne yapraklı orman
E) Çernezyom	Çayır

3. "Orta kuşakta yarı kurak iklim bölgelerinde görülen seyrek ve cılız ot topluluklarıdır. İlkbaharda yeşerirler, yaz mevsiminde sararıp kururlar.

Yukarıda bazı özellikleri verilen bitki topluluğu aşağıdakilerden hangisidir?

- A) Tayga B) Çayır C) Savan  
D) Tundra E) Step(Bozkır)

4. Aşağıdaki akarsulardan hangisi Asya kıtasında **yer almaz**?

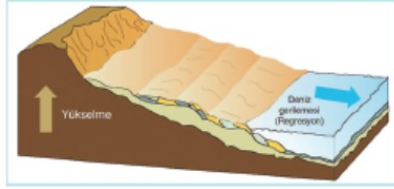
- A) Lena B) Dicle C) Ganj  
D) Obi E) Nil

5. Mevsimlik göçler tarım, turizm, yaylacılık gibi faaliyetlere bağlı oluşan göçlerdir. Buna göre aşağıda verilen kentlerimizden hangisine mevsimlik göç daha azdır?

- A) Gümüşhane B) Adana C) Rize  
D) Muğla E) İzmir

6. Aşağıda verilen ifadelerden hangisi **doğru değildir**?

- A) Zonal toprakların en verimli Terra Rossa (kırmızı renkli) topraklardır  
B) Peribacalarının oluşumunda akarsular, sel suları ve rüzgârlar etkili olmuştur.  
C) Tor topografyası granit bloklardan oluşur.  
D) Karstik kaynakların suları kireçlidir.  
E) Ekvatorda Laterit toprakları yaygındır.



7. Yukarıdaki şekilde EPIROJENEZ sonucu kara parçasının yükselmesi gösterilmiştir. Bu hareketin oluşmasında;

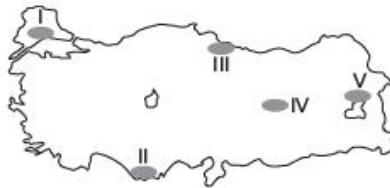
- I. Karalarda meydana gelen erozyon,  
II. Denizlerdeki gel- git hareketi,  
III. Buzulların erimesi

Durumlarından hangilerinin sebep olduğu söylenebilir?

- A) Yalnız III B) I ve II C) I ve III  
D) II ve III E) I, II ve III

8. Alüvyon, lős, moren gibi toprakların ortak özelliği aşağıdakilerden hangisidir?

- A) Taşınmış olması  
B) Aynı iklim bölgesinde oluşmaları  
C) Aynı etmen tarafından oluşturulmaları  
D) Yüksek alanlarda oluşmaları  
E) Sıcak ve nemli bölgelerde oluşmaları



9. Karstik kayaçların yaygın olduğu alanlarda mağaraların çökmesiyle oluşan sarsıntılara göçme (çökme) deprem denilmektedir. Buna göre, işaretli alanların hangisinde bu depremlerin görülme ihtimali daha yüksektir?

- A) I B) II C) III D) IV E) V

10. Doğal afetlerin bazılarının yılın her döneminde gerçekleşme olanağı bulunurken, bazı doğal afetler belirli dönemlerde artış göstermektedir. Belirli dönemlerde artış gösteren doğal afetler arasında aşağıdakilerden hangisi **yoktur**?

- A) Orman yangını B) Sel ve Taşkın  
C) Deprem D) Şiddetli fırtına  
E) Heyelan

11. Aşağıdaki kayaçların hangisinin oluşumunda organik süreç etkili olmuştur?

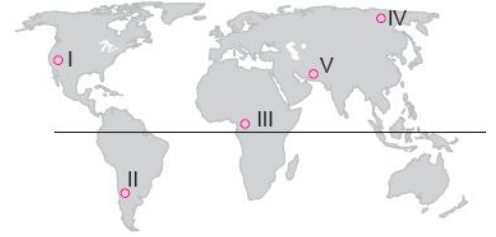
- A) Granit B) Bazalt C) Kömür  
D) Volkan tüfü E) Kum taşı

12. Aşağıdakilerden hangisi göç alan bir ülke ile ilgili **yanlış** bir bilgidir?

- A) Şehirleşme oranı yüksektir  
B) Gelişmişlik seviyesi yüksektir  
C) Dış ülkelere hammadde satışı yüksektir  
D) Bağımlı nüfus oranı azdır  
E) Gerçek nüfus artışı doğal nüfus artışından yüksektir

13. Aşağıdakilerden hangisi siyasi göç kapsamında değerlendirilebilir?

- A) Mübadele göçleri  
B) Doğal afet göçleri  
C) Türklerin Orta Asya'dan göçü  
D) İşçi göçleri  
E) Avrupa'dan Amerika'ya göç



14. Toprağın oluştuğu bölgelerde bitki örtüsü çok sık olmasına karşın topraktaki humus miktarı azdır. Aşırı yağış nedeniyle topraklar mineralce fakirdir. Yukarıda özellikleri verilen toprak türü, haritada numaralanmış alanların hangisinde yaygın şekilde görülür?

- A) V B) IV C) III D) II E) I

15. Bazı kayaçlar bir anda hızlı bir şekilde oluşurken, bazı kayaçların oluşumu da çok uzun bir süreçte yavaş yavaş meydana gelir. Bu süreç içerisinde ağaçların dal ve yaprakları, hayvan cesetleri gibi organik maddeler tabakalar arasında kalır ve bu maddelerin üstü yavaş yavaş örtülerek kayaçların bünyesine yerleşir, fosilleşme gerçekleşir. Buna göre aşağıdaki kayaçlardan hangisinin içinde fosil adı verilen canlı kalıntılarının rastlanma olasılığı daha fazladır?

- A) Bazalt B) Volkan tüfü  
C) Mermer D) Granit  
E) Taşkömürü

16. Aşağıdaki özelliklerden hangisi bir ülkenin gelişmişlik derecesi hakkında bilgi vermez?

- A. Aritmetik nüfus yoğunluğu
- B. Okur-yazar oranı
- C. Genç nüfusun toplam nüfusa oranı
- D. Kişi başına düşen milli gelir
- E. Kent nüfusunun toplam nüfusa oranı

17. Nüfusunun büyük çoğunluğu birincil ekonomik faaliyetlerde istihdam edilen bir ülkenin demografik özellikleri ile ilgili hangisi doğrudur?

- A) Okuma yazma oranı yüksektir
- B) Sanayileşmiş bir ülkedir
- C) Doğum ve ölüm oranları yüksektir
- D) Ortalama ömür uzundur
- E) Dışarıdan hammadde ithal eder

18. Türkiye jeolojik bakımdan genç oluşumlu bir ülkedir diyen biri aşağıdakilerden hangisini buna kanıt olarak gösteremez?

- A) 3. Ve 4. Zamanda oluşmasını
- B) Fay hatlarının yaygın olmasını
- C) Jeotermal bakımından zengin olmasını
- D) Masif arazilerin yaygın olmasını
- E) Sık sık depremlerin yaşanmasını

19. Aşağıda verilen bölge ve bölgelerin en seyrek nüfuslu yöreleri eşleştirmelerinden hangisi yanlıştır?

- A) Marmara - Yıldız Dağları Bölümü
- B) Ege - Menteşe Yöresi
- C) Akdeniz - Taşeli Platosu
- D) Doğu Anadolu - Erzurum / Kars Bölümü
- E) İç Anadolu - Ankara Eskişehir çevresi

20. Yer altındaki sıcak suların ve su buharının belirli aralıklarla fışkırması sonucu gayzer kaynakları oluşmaktadır. Bu tür kaynaklar aşağıdaki alanların hangisinde görülür?

- A) Masif arazilerde
- B) Platoluk arazilerde
- C) Delta ovalarında
- D) Kıvrımlı arazilerde
- E) Volkanik bölgelerde

21. Aşağıdakilerden hangisi bir ülkenin genç nüfuslu olduğunun gösterir?

- A) Sanayi ürünleri üretiminin fazla olması
- B) Çalışan nüfusun yaş ortalamasının düşük olması
- C) Tarımla uğraşan nüfusun azalması
- D) Nitelikli işçi sayısının fazla olması
- E) Ortalama yaşam süresinin uzun olması

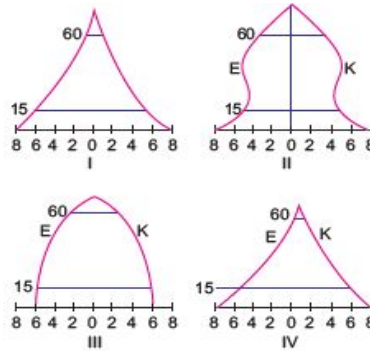
22. Türkiye'de genel nüfus artışı %2 olmasına karşın kentli nüfusun artış hızı %6'yı geçmektedir. Bu durum kentlerimizin hangi özelliğini sonucudur?

- A) Doğum oranlarının fazla olması
- B) Ölüm oranlarının az olması
- C) Nüfusun büyük kısmının tarımla uğraşması
- D) Diğer alanlardan göç alması
- E) Yaşam seviyesinin yüksek olması

23. Aşağıdakilerden hangisi iklimin nüfus dağılışı üzerindeki etkisine örnek olarak gösterilemez?

- A) Dünya nüfusunun büyük bir kısmı orta kuşakta toplanmıştır.
- B) Kutup Bölgeleri Dünya'nın en az nüfuslanmış alanlarıdır.
- C) Dünya nüfusunun yarısından fazlası Kuzey Yarımküre'de yaşamaktadır.
- D) Ekvatorial Bölge'de insanlar yaşamak için yüksek yerleri tercih eder.
- E) Kıyı kesimlerde nüfus yoğunluğu iç kesimlerden daha fazladır.

24. Aşağıda nüfusun yaş gruplarına göre dağılışı gösteren dört piramit verilmiştir.



Yukarıda piramitleri verilen ülkelerin hangilerinde hizmet ve sanayide çalışanların oranları daha yüksektir?

- A) I ve II
- B) I ve III
- C) II ve III
- D) II ve IV
- E) III ve IV

25. Aşağıdakilerden hangisi akarsularla ilgili yanlış bir kavramdır?

- A) Kar ve buz erimeleriyle beslenen akarsuların akımları ilkbaharda artar
- B) Akarsuyun akımının yıl içerisinde gösterdiği değişmelere debi denir.
- C) Sularını denize ulaştıramayan akarsuların havzaları kapalı havzadır.
- D) Akarsuyun doğduğu yere akarsu kaynağı denir.
- E) Akarsuyun döküldüğü yere akarsu ağzı denir.

26. Türkiye'nin ormanlarıyla ilgili olarak aşağıda verilen bilgilerden hangisi yanlıştır?

- A) Karadeniz Bölgesi'ndeki orman miktarı diğer bölgelere göre daha fazladır.
- B) Yağış ile orman alanlarının dağılışı paralellik gösterir.
- C) Akdeniz çevresinde Kızılçam ormanları ve makiler yaygındır.
- D) Ülkemiz endemik bitki türleri bakımından zengindir.
- E) Karadeniz bölgesinde ormanlar daha çok dağların güney eteklerinde yoğunur

27. Aşağıdakilerden hangisi gelişmiş ülkelerin özelliklerinden değildir?

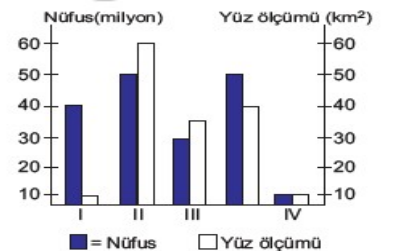
- A) Nüfusun dağılışı doğal koşullara bağlıdır
- B) Hammadde ithal eder, mamül madde ihraç eder
- C) Yıllık nüfus artış hızı azdır
- D) Kişi başına düşen milli gelir yüksektir
- E) Doğurganlık oranı düşüktür.

28. Ekvator'dan kutuplara doğru denizlerin tuzluluk oranları azalmaktadır. Buna göre aşağıda verilen denizlerden hangisinde tuzluluk oranı daha fazladır?

- A) Kızıldeniz
- B) Karadeniz
- C) Akdeniz
- D) Baltık Denizi
- E) Hazar Denizi

29. Aşağıdakilerden hangisi, yeryüzünde bulunan sularla ilgili doğru bir yargı değildir?

- A) Suların çok büyük bir bölümü okyanuslar ve denizlerde toplanmıştır.
- B) En fazla su taşıyan nehirler Ekvatorial kuşaktadır.
- C) Kapalı havza göllerinin suları tatlıdır.
- D) Suların çok küçük bir bölümü, insanların kullanımı için uygun olan tatlı sular sınıfına girmektedir.
- E) Dünya'nın en büyük iç denizi Akdeniz'dir.



30. Toplam nüfusun yüz ölçüme bölünmesiyle aritmetik nüfus yoğunluğu bulunur. Buna göre yukarıda verilen yerlerin hangisinde nüfus yoğunluğu sırasıyla en fazla ve en azdır?

- A) I ve III
- B) I ve IV
- C) III ve I
- D) II ve IV
- E) I ve II

CEVAPLAR: 1A 2C 3E 4E 5A 6A 7C 8A 9B 10C 11C 12C 13A 14C 15E 16A 17C 18D 19E 20E 21B 22D 23C 24C 25B 26E 27A 28A 29C 30A