

C) Aşağıdaki soruların doğru cevaplarını işaretleyiniz.

31. Dünyadaki başlıca su kaynaklarını okyanuslar, denizler, buzullar, yer altı suları, göller, bataklıklar ve akarsular oluşturmaktadır. **Buna göre aşağıda verilen su kaynaklarından hangisi tuzlu sular içerisinde yer almaktadır?**

A) Yer altı suları B) Denizler C) Akarsular
D) Buzullar E) Bataklıklar

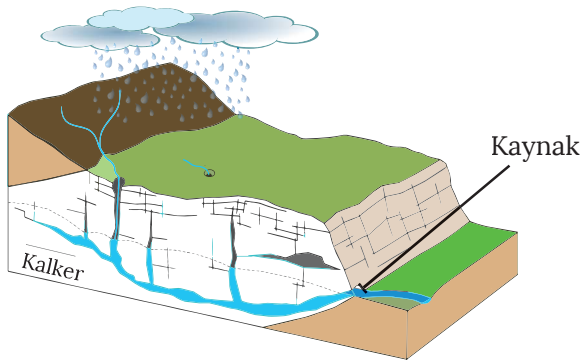
32. Aşağıdakilerden hangisi su döngüsünün aşamalarından biri değildir?

A) Canlılardan terleme yoluyla buharlaşan suların atmosfere karışması
B) Yer üstü sularının yer altına sızması
C) Buharlaşımla suların gaz hâle geçmesi
D) Yağışlarla yeryüzüne düşen suların karalar üzerinde yüzeysel akışa geçmesi
E) Göllerde oluşan kirliliğin artması

33. Türkiye, jeotermal kaynak potansiyeli açısından dünyanın zengin ülkelerinden biridir. **Bu durumun temel nedeni aşağıdakilerden hangisidir?**

A) Üç tarafının denizlerle çevrili olması
B) Volkanik arazilere sahip olması
C) Genç oluşumlu olması
D) Engebeli ve dağlık olması
E) Orta kuşakta yer alması

34.



Aşağıdakilerden hangisi yukarıdaki kaynağa ait bir özelliktir?

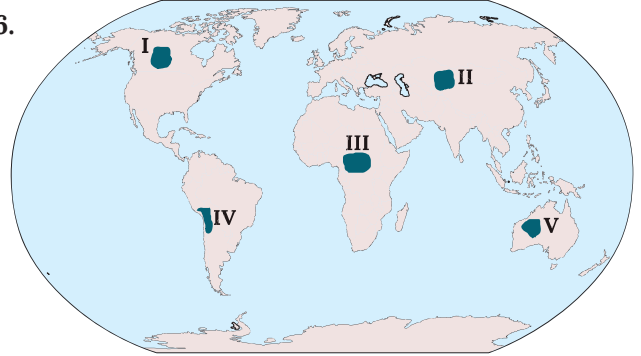
A) Karstik arazilerde görülür.
B) Suları oldukça sıcaktır.
C) İnsan müdahalesiyle yeryüzüne çıkar.
D) Sağlık turizminde yaygın olarak kullanılır.
E) Fay hatlarında görülür.

35. Okyanus ve denizlerdeki tuzluluk oranı, Ekvator'dan kutuplara doğru azalmaktadır.

Tuzluluk oranında görülen bu değişimin temel nedeni aşağıdakilerden hangisidir?

A) Ortalama derinliğin etkisi
B) Karaların etkisi
C) Volkanik faaliyetlerin azalması
D) Akıntıların etkisi
E) Sıcaklık ve buharlaşma koşulları

36.



İklim özellikleri göz önüne alındığında haritadaki numaralandırılmış alanların hangisinde buzul göllerin deniz seviyesine daha yakın bir konumda oluşması beklenir?

A) I B) II C) III D) IV E) V

37. Coğrafi konum özellikleri düşünüldüğünde aşağıdaki kıtalardan hangisinin Atlas Okyanusu'na kıyısı bulunmamaktadır?

A) Asya B) Avrupa C) Kuzey Amerika
D) Afrika E) Güney Amerika

38. Türkiye'de yapılan aşağıdaki ekonomik faaliyetlerin hangisine denizlerin etkisi daha azdır?

A) Balıkçılık
B) Tuz elde etme
C) İçme suyu temini
D) Turizm
E) Yük taşımacılığı

39. Aşağıdaki göl türlerinden hangisinin oluşumunda buzullar etkilidir?

A) Alüvyal set gölleri B) Heyelan set gölleri
C) Karstik göller D) Kıyı set gölleri
E) Sirk gölleri

40. Aşağıdaki tabloda bazı akarsular ve bu akarsuların döküldükleri yerler verilmiştir.

I.	Fırat	Basra Körfezi
II.	Yeşilırmak	Karadeniz
III.	Meriç	Marmara Denizi
IV.	Gediz	Ege Denizi
V.	Seyhan	Akdeniz

Buna göre tabloda verilen eşleştirmelerden hangisi yanlıştır?

- A) I B) II C) III D) IV E) V

41.



Yukarıdaki Türkiye haritasında numaralandırılmış alanların hangisinde karstik göllere daha çok rastlanır?

- A) I B) II C) III D) IV E) V

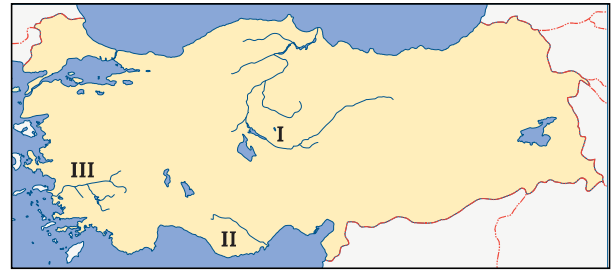
42. Aşağıdaki su kaynaklarının hangisi tatlı su kaynakları içerisinde en yüksek paya sahiptir?

- A) Buzullar B) Göller C) Akarsular
D) Yer altı suları E) Bataklıklar

43. Türkiye’de bazı akarsular, denizlere ulaşmadan çeşitli coğrafi faktörlere bağlı olarak iç kesimlerde oluşan kapalı havzalardaki göllere dökülmektedir. Buna göre ülkemizdeki kapalı havzaların oluşmasında etkili olan temel faktör aşağıdakilerden hangisidir?

- A) Türkiye’nin matematik konumu
B) Üç tarafının denizlerle çevrili olması
C) Yağış biçiminin çeşitli olması
D) Yeryüzü şekillerinin uzanışı ve konumu
E) Karstik arazilerin yagın olması

44.



Yukarıdaki haritada numaralarla gösterilen akarsular, aşağıdakilerin hangisinde doğru olarak verilmiştir?

- | | | |
|---------------|-----------|-------------|
| <u>I</u> | <u>II</u> | <u>III</u> |
| A) Kızılırmak | Seyhan | Bakırçay |
| B) Yeşilırmak | Göksu | Bakırçay |
| C) Kızılırmak | Ceyhan | Gediz |
| D) Kızılırmak | Göksu | B. Menderes |
| E) Yeşilırmak | Göksu | K. Menderes |

Değerlendirme

Sorulara verdiğiniz cevapları cevap anahtarından kontrol ediniz. Yanlış cevapladığınız veya doğru cevaplamanıza rağmen tam olarak anlamadığınızı düşündüğünüz soruları yansıtan konuları tekrar ediniz. Cevaplarınızın tümü doğru ise bir sonraki öğrenme faaliyetine geçiniz.

Aşağıdaki kontrol listesi, bu bölümde edindiğiniz bilgileri değerlendirebilmeniz amacıyla hazırlanmıştır. Size uygun olan seçeneği işaretleyiniz.

KONTROL LİSTESİ		
Değerlendirme Ölçütleri	Evet	Hayır
1. Yeryüzündeki su varlıklarını özelliklerine göre sınıflandırabilirim.		
2. Türkiye’deki su varlıklarının genel özelliklerini ve dağılışını açıklayabilirim.		
3. Türkiye’deki su varlığını verimli kullanmanın ekonomik, sosyal ve kültürel etkileri hakkında çıkarımda bulunabilirim.		
<p>Değerlendirme Değerlendirme sonunda “Hayır” cevabı verdiğiniz ölçütleri tekrar gözden geçiriniz. Anlaşmadığınızı düşündüğünüz ölçütleri içeren konuları tekrar ediniz. Bütün cevaplarınız “Evet” ise bir sonraki bölüme geçebilirsiniz.</p>		