

1. Türkiye'de coğrafi konum, yer şekilleri, üç tarafının denizlerle çevrili olması vb. özellikler dolayısıyla iklim çeşitliliğinin fazla olduğunu söyleyebiliriz.

Bu durumun aşağıda verilenlerden hangisini daha az etkilediği söylenir?

- A) Hayvancılık faaliyetleri
B) Tarım ürünü çeşitliliği
C) Ulaşım imkânları
D) Maden çeşitliliği
E) Turizm etkinlikleri



2. Coğrafi konum özellikleri düşünüldüğünde aynı uzunlukta ve aynı özelliklere sahip olan bu hatlardan hangi ikisinin maliyetinin diğer ikisine göre daha fazla olması beklenir?

- A) I ve II. B) I ve III. C) II ve III.
D) II ve IV. E) III ve IV.

3. Türkiye'de 1927 yılında çalışan nüfusun yaklaşık %75'i tarım sektöründe çalışıyor iken günümüzde bu oran %25'e kadar düşmüştür. **Yalnızca bu bilgiye bakılarak,**

- I. tarımsal verimliliğin azaldığı,
II. tarım alanlarının sanayi alanına dönüştürüldüğü,
III. hizmet ve sanayi sektörlerinde çalışanların oranının Arttığı **çıkarımlardan hangileri yapılır?**
A) Yalnız I. B) Yalnız II. C) Yalnız III. D) I ve II. E) II ve III.

4. Türkiye ekonomisinde, enerji nakil hatlarından gelen gelir miktarı önemli bir paya sahiptir. **Türkiye'nin böyle bir gelir kaynağına sahip olmasının temel nedeni aşağıdakilerden hangisidir?**

- A) Sermaye B) Siyasi otorite
C) İş gücü D) Kültürel özellikler
E) Coğrafi konum

5. **Aşağıdakilerden hangisinin Türkiye ekonomisi üzerinde olumlu katkı yapacağı söylenemez?**

- A) İşsizliğin azalması
B) Kalkınma hızının artması
C) Kaynakların verimli kullanılması
D) Tarımda insan gücünün artırılması
E) Dış ticaret açığının azalması

6. Aşağıdaki tabloda Türkiye gelirlerinin bazı yıllara ait sektörel dağılımı gösterilmiştir.

Sektör	1970	1990	1995
Sanayi	%16,6	%24,8	%32
Hizmet	%46,7	%58,4	%56
Tarım	%36,7	%16,8	%12

Tablodaki bilgiler kullanılarak bu yıllar ile ilgili aşağıdakilerden hangisi hakkında çıkarım yapılabilir?

- A) Dış ticaret açığı B) Turizm geliri
C) Ticaret potansiyeli D) Doğal kaynak verimliliği
E) Ekonomik gelişme

7. **Türkiye'de 1923 -1932 yılları arasında uygulanacak ekonomi politikalarına aşağıdakilerden hangisinde karar verilmiştir?**

- A) Sivas Kongresi B) Mudanya Mütarekesi
C) Erzurum Kongresi D) İzmir İktisat Kongresi
E) Amasya Görüşmeleri

8. Cumhuriyet'in ilk yıllarında ekonomik kalkınmanın sağlanması için tarımsal alanda çeşitli çalışmalar yapılmıştır.

Aşağıdakilerden hangisi bu dönemde tarımsal alanda kalkınmayı arttırmak amacıyla alınan önlemler arasında gösterilemez?

- A) Toprak reformu yapılması
B) Aşar vergisinin kaldırılması
C) Karabük demir-çelik fabrikasının kurulması
D) Tarımda makineleşmenin sağlanması için teşvik verilmesi
E) Ziraat Bankası aracılığıyla çiftçilere kredi imkânı sağlanması

9. **Türkiye'de 1950 – 1960 dönemindeki ekonomik gelişmeler için aşağıdakilerden hangisi söylenemez?**

- A) Ulaşım faaliyetlerine önem verilmiştir.
B) Sanayi sektörüne olan yatırımlar azalmıştır.
C) Alt yapı hizmetlerine önemli yatırımlar yapılmıştır.
D) Millî Ekonomiye Koruma Kanunu çıkarılmıştır.
E) Ekonomik kalkınma hızlanmıştır.

10. 1929 yılında bütün dünyayı sarsan ekonomik bunalım nedeniyle devletçilik politikası uygulanmaya başlanmış, yabancı rekabete karşı korunmak için bazı tedbirler alınmıştır.

Aşağıdakilerden hangisi Türkiye'nin bu dönemde yabancı rekabete karşı korunmak için aldığı tedbirlerdendir?

- A) Ekonomide devletin etkisi azaltılmıştır.
B) Altyapı çalışmalarına önem verilmiştir.
C) Özel sektör desteklenmiştir.
D) Tarıma sanayiden daha çok öne
E) Gümrük vergileri arttırılmıştır.

11. **Aşağıdakilerden hangisi Türkiye'de uygulanan ekonomi politikalarının amaçlarından biri değildir?**

- A) Doğal kaynakları en verimli şekilde kullanmak
B) İstikrarlı kalkınmayı sağlamak
C) Gelir dağılımını dengelemek
D) Ucuz iş gücü sağlamak
E) Büyümeyi hızlandırmak

12. **Bir yerde kış turizminin gelişebilmesi için;**

- Karın yerde kalma süresi
- Yer şekilleri özellikleri
- Ulaşım imkânları
- Kar kalınlığı
- Sermaye

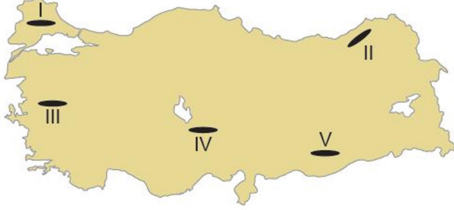
Gibi etmenlerin uygun olması gereklidir. **Buna göre aşağıda verilen yerlerden hangisinde bu turizm türünün gelişmesi daha güçtür?**

- A) Bolu B) Antalya C) Kayseri D) Bursa E) Erzurum

1. Türkiye’de tarım alanlarında verimi arttırmak için aşağıdakilerden hangisinin yapılması yanlış olur?

- A) Yaz aylarının kurak geçtiği yerlerde sulama olanaklarının artırılması
B) Otlak ve mera alanlarının tarım alanlarına dönüştürülmesi
C) Tarımda makine kullanımının yaygınlaşması
D) Ürünlere zarar veren böceklerle mücadele edilmesi
E) Toprakta eksik olan minerallerin gübre kullanımı ile Arttırılması

2. Yer şekillerinin dağlık ve engebeli, eğimin fazla olduğu yerlerde tarım alanları dardır.



Buna göre haritada verilen taralı alanlardan hangisinde tarım alanlarının daha dar olması beklenir?

- A) I. B) II. C) III. D) IV. E) V.

3. Ülkemizde tarımda makine kullanımının artış göstermesi sonucunda;

- I. kırsal kesimdeki işsizlik oranı,
II. insan gücüne duyulan ihtiyaç,
III. ürünlerin hasat süresi

verilenlerden hangilerinde artış görülmesi beklenir?

- A) Yalnız I. B) Yalnız II. C) I ve III. D) II ve III. E) I, II ve III.

4. Türkiye’de farklı iklim tiplerinin görülmesi yetiştirilen tarım ürünleri çeşitliliğini artırmıştır. Aşağıdakilerden hangisinde verilen ürünlerin ülkemizde yetiştirilmesi farklı iklim tiplerinin görüldüğüne kanıt gösterilebilir?

- A) Çay – Fındık B) Buğday - Arpa
C) Zeytin – Fındık D) Turunçgil - İncir
E) Mercimek – Arpa

5. Nadas tarımı ile ilgili olarak;

- I. Yıllık yağış miktarının az olduğu yerlerde yapılır.
II. Karadeniz İklim Bölgesinde ihtiyaç duyulmaz.
III. GAP sonucunda Şanlıurfa’da nadasa bırakılan alanlar azalmıştır.

verilenlerden hangileri doğrudur?

- A) Yalnız I. B) Yalnız II. C) I ve III.
D) II ve III. E) I, II ve III.

6. I. Üretim sürecinde doğanın dengesini bozacak ve insan sağlığına zararlı olabilecek kimyasal madde kullanmadan yapılan bir tarım şeklidir.

II. Yağışın az, sulamanın yetersiz olduğu alanlarda tarlaların bir yıl ekilip, bir yıl dinlendirilmesi şeklinde uygulanan bir tarım yöntemidir.

III. Kış sıcaklık ortalamasının 0 °C’nin altına inmediği yerlerde uygulanan tarım yöntemidir. Bu yöntem tarım ürünlerinin mevsimi dışında yetiştirilmesine olanak sağlar.

Yukarıda anlatılan tarımsal faaliyetler hangisinde doğru verilmiştir?

- I II III
A) Organik Nadas Seracılık
B) İntansif Organik Ekstansif
C) Seracılık Nadas Organik
D) Organik Ekstansif Seracılık
E) Ekstansif Nadas Organik

7. I. Yıllık sıcaklık farkının fazla olması

II. Kış aylarında sıcaklık ortalamasının 0°C’nin altına düşmemesi

III. Her mevsimin yağışlı olması

Yukarıdakilerden hangileri Türkiye’de muz tarımının yapıldığı alanların özelliklerinden değildir?

- A) Yalnız I. B) Yalnız II. C) Yalnız III. D) I ve III. E) II ve III.

8. Aşağıdaki haritada Türkiye’de yetiştirilen bir tarım ürününün dağılışı verilmiştir.



Bu tarım ürünü aşağıdakilerden hangisidir?

- A) Ayçiçeği B) Çeltik C) Zeytin D) Üzüm E) Fındık

9. Bazı tarım ürünleri devlet kontrolünde sınırlı alanlarda üretilmektedir. Aşağıdakilerden hangisi bu ürünlere örnektir?

- A) Zeytin B) Muz C) Haşhaş D) İncir E) Fındık

10. Türkiye’de sebze üretimi ile ilgili olarak;

I. Yaz mevsiminin uzun sürdüğü ve sulama imkânlarının olduğu yerlerde yapılır.

II. Ulaşım sistemlerinin gelişmesi ile sebzenin tüketiciye ulaşması kolaylaşmıştır.

III. Kış aylarının ılık geçtiği yerlerde seracılığa bağlı sebze üretimi artmıştır.

verilenlerden hangileri doğrudur?

- A) Yalnız I. B) Yalnız II. C) I ve II. D) II ve III. E) I, II ve III.

11. Çukurova’da yıl içinde birden fazla tarım ürünü yetiştirilmektedir. Buğday hasadı yapıldıktan sonra genellikle mısır veya soya üretimi yapılmaktadır. Bu durum üzerinde Çukurova’nın;

I. verimli alüvyal topraklara sahip olması,

II. iklim koşullarının uygun olması,

III. yer şekillerinin sade olması

özelliklerinden hangileri etkili olmuştur?

- A) Yalnız I. B) Yalnız II. C) I ve II. D) II ve III. E) I, II ve III.

12. Bir yerde doğal koşulların etkisiyle en çok yetiştirilen tarım ürününe o yer için mono kültür bitki denir.

Buna göre aşağıdakilerden hangisinde verilen tarım ürünü – yer eşleştirmesi bu duruma örnek oluşturmaz?

- A) Ayçiçeği – Edirne B) Fındık – Ordu
C) Muz – Anamur D) Buğday – Artvin
E) Çay – Rize

1. Ülkemizde hayvancılıktan elde edilen verimin az olduğunu söyleyebiliriz. Bu sebeple son yıllarda canlı hayvan ve et ithalatı yapılmaktadır.

Buna göre, canlı hayvan ve et ithalatını azaltmak için aşağıdakilerden hangisinin yapılması yanlıştır?

- A) Hayvan soylarının ıslah edilmesi
- B) Besi hayvancılığının teşvik edilmesi
- C) Hayvan hastalıkları ile mücadele edilmesi
- D) Tarım alanlarının mera alanı olarak kullanılması
- E) Çiftçilerin ucuz ve kaliteli yem konusunda desteklenmesi

2. Aşağıdaki haritada Türkiye'de kümes hayvancılığının gelişme gösterdiği yerler işaretlenmiştir.



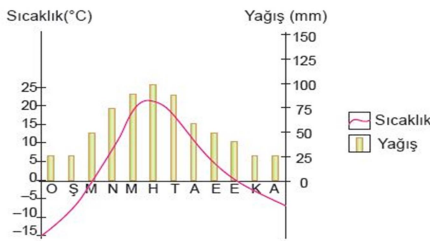
Haritaya bakıldığında kümes hayvancılığının geliştiği yerlerin temel özelliği olarak aşağıdakilerden hangisi gösterilir?

- A) Kış mevsiminin ılık geçmesi
- B) Yer şekillerinin sade olması
- C) Su kaynaklarına yakın olması
- D) Tüketim alanlarına yakın olması
- E) Tahıl üretim alanlarına yakın olması

3. I. Büyükbaş besi hayvancılığı II. Kümes Hayvancılığı
III. İpek böcekçiliği IV. Arıcılık

Yukarıda verilen hayvancılık türlerinden hangi ikisi üzerinde doğal koşulların daha fazla etkili olduğu söylenir?

- A) I ve II. B) I ve III. C) II ve III. D) II ve IV. E) III ve IV.



4. Yukarıda sıcaklık yağış grafiği verilen yerde;

I. sığır, II. keçi, III. koyun

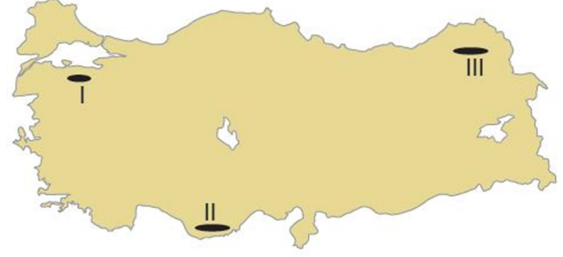
verilen hayvancılık türlerinden hangisinin daha fazla gelişmesi beklenir?

- A) Yalnız I. B) Yalnız II. C) I ve II. D) I ve III. E) II ve III.

5. Balıklar, mevsim değişimleri sonucunda soğuk yerlerden sıcak yerlere doğru göç etmektedirler. Bu nedenle balıkların göç yolları üzerinde bulunan yerlerde balıkçılık faaliyetleri yoğunudur. **Buna göre aşağıda verilen yerlerden hangisinde balıkçılık faaliyetlerinin daha yoğun olması beklenir?**

- A) Batı Anadolu kıyıları B) Çanakkale Boğazı
- C) Karaburun Yarımadası D) Antalya Körfezi
- E) Çukurova Deltası

6. Bir yerin konum özelliklerine bakılarak bu yerde yaygın olarak yapılan hayvancılık türü hakkında çıkarımda bulunulabilir. **Buna göre;**



Haritada verilen yerlerde yaygın olarak yapılan hayvancılık faaliyetleri aşağıdakilerden hangisinde doğru eşleştirilmiştir?

- I II III
- A) İpek böcekçiliği Büyükbaş Kümesi
- B) İpek böcekçiliği Kıl keçisi Büyükbaş
- C) Büyükbaş Koyun Tiftik keçisi
- D) Koyun Arıcılık İpek böcekçiliği
- E) Kümes İpek böcekçiliği Koyun

7. Türkiye'de aşağıda verilen hayvanlardan hangisinin popülasyonu daha fazladır?

- A) Sığır B) Manda C) Koyun D) Kıl keçisi E) Tiftik keçisi

8. Ülkemizde sünger avcılığı daha çok aşağıdaki kıyılardan hangisinde yapılmaktadır?

- A) Çarşamba B) Silifke C) Bodrum
- D) Sinop E) Adapazarı

9. Tarımsal nüfusumuzun önemli bir kısmı büyükbaş ve küçükbaş hayvancılıkla uğraşmaktadır. Bu hayvancılık faaliyetleri çeşitli sanayi kollarına hammadde kaynağı sağlamaktadır. **Buna göre Türkiye'de aşağıdaki sanayi kollarından hangisinin ham madde ihtiyacı küçükbaş hayvancılıktan sağlanır?**

- A) Yünlü dokuma B) İpekli dokuma
- C) Kendir dokuma D) Pamuklu dokuma
- E) Ketan dokuma

10. Ülkemiz doğal bitki örtüsünün çeşitliliğine bağlı olarak arıcılık bakımından oldukça elverişli şartlara sahiptir. Çiçekli bitkilerin ve çam ağaçlarının varlığı arıcılık faaliyetlerini olumlu yönde etkilemiştir.

Buna göre aşağıdaki yerlerden hangisinde arıcılık faaliyetlerinin gelişmesi için gerekli olan doğal koşulların en az olduğu söylenebilir?

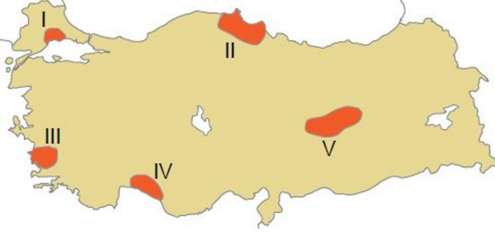
- A) Muğla ve çevresi B) Rize ve çevresi
- C) Hakkari ve çevresi D) Ordu ve çevresi
- E) Konya ve çevresi

11. Türkiye'de hayvansal ürünlerin üretiminde yıldan yıla büyük dalgalanmaların görülmesi aşağıdakilerden hangisine kanıt oluşturur?

- A) Doğal koşullara bağlı yapıldığına
- B) İç tüketimin fazla olduğuna
- C) Dış piyasada çok fazla talep görmediğine
- D) Hayvan soylarının ıslah edilemediğine
- E) Elde edilen verimin düşük olduğuna

12- TÜRKİYE'DE MADENLER VE ENERJİ KAYNAKLARI

1. Aşağıdaki Türkiye haritasında beş ayrı alan taranmıştır.



Bu alanların hangisinde maden çeşitliliği daha fazladır?

A) I B) II C) III D) IV E) V

2. • Elyaf, ısıya dayanıklı cam, ilaç, jet yakıtı gibi birçok alanda kullanılır.

• Bu madenin toplam rezervinin yaklaşık %72'si Türkiye'de bulunur.

Özellikleri verilen yeraltı kaynağı aşağıdakilerden hangisidir?

A) Demir B) Krom C) Bor mineralleri D) Altın E) Boksit



3. Haritada gösterilen yerlerde çıkarılan maden aşağıdakilerden hangisidir?

A) Demir B) Bakır C) Krom D) Kurşun E) Feldspat

4. • Seydişehir • Susurluk • Hasaңcelebi • Mazıdağı
Yukarıda gelişiminde madencilik faaliyetlerinin önemli rol oynadığı bazı şehirler verilmiştir. Bu şehirlerde üretimi yapılan maden türleri eşleştirildiğinde aşağıdakilerden hangisi dışarıda kalır?

A) Bor mineralleri B) Boksit C) Fosfat D) Tuz E) Demir

5. Alüminyumun ham maddesidir. İnşaat, otomotiv, elektrik ve elektronik sektöründen mutfak malzemelerine, ambalajlara kadar birçok alanda kullanılmaktadır. Yukarıda bazı özellikleri verilen maden aşağıdakilerden hangisidir?

A) Barit B) Bor C) Boksit D) Mermer E) Asbest

6. • Guleman, Köyceğiz, Fethiye, Kopdağı, Orhaneli ilçelerinden çıkarılmaktadır.

• Demire sertlik vererek kırılma ve darbelere karşı dayanıklılık kazandırır. Demiri oksitlenmeye karşı korur.

Özellikleri verilen maden aşağıdakilerden hangisidir?

A) Lületaşı B) Asbest C) Barit D) Krom E) Feldspat

7. I. Tunçbilek II. Yatağan III. Keban IV. Karakaya
Yukarıdaki santrallerden hangi ikisinin bulunduğu yerde hava kirliliğinin diğerlerine göre daha az olması beklenir?

A) I ve II. B) II ve III. C) I ve III. D) II ve IV. E) III ve IV.

8. Aşağıdaki Türkiye Haritasında bazı enerji üretim tesisleri işaretlenmiştir.



Bu tesislerden hangisi doğalgaz ile çalışmaktadır?

A) I. B) II. C) III. D) IV. E) V.

9. Hidroelektrik, Güneş ve rüzgâr enerji santrallerinin üretim miktarı iklim özelliklerine göre değişiklik göstermektedir.

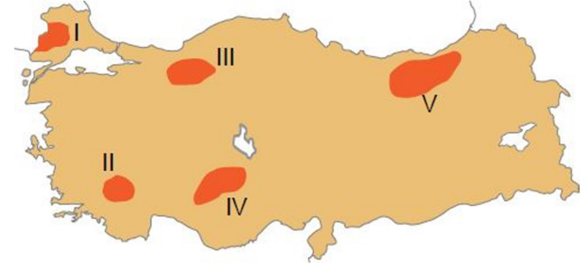
Buna göre:

I. Oymapınar II. Yatağan III. Alaçatı IV. Hamitabat

Verilen enerji üretim tesislerinden hangilerinin üretim miktarı yıldan yıla daha çok değişiklik göstermektedir?

A) I ve II. B) I ve III. C) II ve III. D) II ve IV. E) III ve IV.

10. Yerin derinliklerinden gelen sıcak sular kullanılarak enerji üretmek mümkündür.



Haritada verilen taralı alanların hangisinde bu tür enerji tesisi bulunmaktadır?

A) I B) II C) III D) IV E) V

11. Güneş enerjisinden yararlanılarak elektrik enerjisi elde edilebilmektedir. Ülkemizde bu enerji sisteminden verimli bir şekilde faydalanılacak yerler mevcuttur.



Haritada numaralandırılmış yerlerin hangisi güneş enerjisi için verimli değildir?

A) I B) II C) III D) IV E) V

12. Ülkemizde bulunan petrol arıtma tesislerinden hangisi hammadde kaynağının yakınına kurulmuştur?

A) Batman B) Orta Anadolu
C) İpraş D) Ataş
E) Aliağa

1. Türkiye'de sanayi sektörünün gelişimi ile ilgili olarak aşağıda verilenlerden hangisi söylenemez?

- A) Cumhuriyet'in ilk yıllarında fabrika kurulumunda gerekli araçların temin edilmesi için gümrük vergisi muafiyeti sağlanmıştır.
 B) Sanayi üretiminin milli gelir içerisindeki payı Cumhuriyet Dönemi'nden günümüze kadar artış göstermiştir.
 C) Cumhuriyet'in ilk yıllarında devlet tarafından cam, kâğıt, kumaş gibi sanayi kuruluşları kurulmuştur.
 D) 1950'den sonra yerli ve yabancı sermaye ortaklığıyla kurulan kuruluşlar desteklenmiştir.
 E) Günümüzde büyük sanayi kuruluşları doğrudan devlet tarafından kurulmaktadır.

2. Aşağıdakilerden hangisi bir yerde sanayi tesislerinin kurulması için gerekli olan şartlardan biri değildir?

- A) Yeterli sermaye birikiminin olması
 B) Ulaşım olanaklarının gelişmiş olması
 C) Ham madde kaynaklarının yeterli olması
 D) İş gücü potansiyelinin fazla olması
 E) Yer şekillerinin engebeli olması

3. Ülkemizde madencilik faaliyetlerinin yoğun olarak yapıldığı bazı yerlerde sanayi üretimi gelişmiştir. Bu sebeple bu yerlerde nüfus yoğunluğu genel olarak fazladır.

Bu yerlere örnek olarak aşağıdaki şehirlerden hangisi gösterilemez?

- A) Karabük B) Bodrum C) Elbistan
 D) Batman E) Divriği

4. Sanayi tesislerinin yoğun olduğu yerlerde hava kirliliği, sanayi tesislerinin daha az olduğu yerlere göre daha fazladır. Yalnızca bu bilgiye bakılarak aşağıda verilen şehirlerimizden hangisinde hava kirliliğinin diğerlerine göre daha az olması beklenir?

- A) Artvin B) Sakarya C) Adana
 D) Bursa E) Gaziantep

5. Aşağıda verilen sanayi kuruluşlarından hangisinde kullanılan ham maddenin üretim miktarı iklim koşullarına bağlı olarak değişmez?

- A) Pamuklu dokuma sanayi
 B) Çay sanayi
 C) Şeker sanayi
 D) Un sanayi
 E) Lastik sanayi

6. Türkiye'nin doğusunda sanayi tesislerinin yetersiz olmasında aşağıdakilerden hangisinin etkisi diğerlerine göre daha azdır?

- A) Enerji üretiminin yetersiz olması
 B) Pazar alanlarına uzak olması
 C) Yer şekillerinin engebeli olması
 D) Ulaşım imkânlarının yetersiz olması
 E) İklim koşullarının uygun olmaması

7. Sanayi üretimini desteklemek amacıyla kurulmuş olan ve sanayi tesisleri için gerekli olan hizmetlerin hepsinin bulunduğu alanlara organize sanayi bölgesi adı verilmektedir. Aşağıdaki illerden hangisinde organize sanayi bölgelerinin sayısı daha fazladır?

- A) Muğla B) Bursa C) Kars
 D) Karabük E) Hakkari

8. Tarım, sanayi ve hizmet sektörleri şehirlerin gelişmesinde etkili olan ekonomik faaliyetlerdendir.

Bu faaliyetlerden sanayi sektörü aşağıdaki şehirlerin hangisinin gelişmesine daha fazla katkı sağlamıştır?

- A) İskenderun B) Kırşehir C) Yozgat
 D) Karaman E) Aksaray

9. I. İpekli dokuma
 II. Yünlü dokuma
 III. Keten dokuma
 IV. Pamuklu dokuma

Yukarıda verilen sanayi kollarından hangileri hayvancılık faaliyetlerine bağlı olarak yapılmaktadır?

- A) I ve II. B) I ve III C) II ve III. D) I ve IV. E) II ve IV.

10. Ülkemizde sanayi faaliyetlerinin yoğun olduğu yerlerden biri Kocaeli ve çevresidir.

Burada sanayi faaliyetlerinin yoğun olması üzerinde:

- I. İş gücüne ulaşılabilir olması,
 II. tüketim alanlarına ulaşım için uygun konumda olması,
 III. hammadde ve enerji üretim alanlarının yakınında olması

Verilenlerden hangileri etkili olmuştur?

- A) Yalnız I. B) Yalnız II. C) I ve II. D) I ve III. E) II ve III.

11. Ülkemizde sanayi ve hizmet sektörlerinde çalışanların oranı Cumhuriyet Dönemi'nden günümüze kadar büyük bir artış göstermiştir.

Bu bilgiye bakılarak aşağıdaki çıkarımlardan hangisi yapılabilir?

- A) Tarımsal üretim miktarının azaldığı
 B) Sanayi üretiminden elde edilen gelirin azaldığı
 C) Ülkemizin ekonomik alanda gelişme gösterdiği
 D) Tarım alanlarının erozyona bağlı olarak daraldığı
 E) Küresel iklim değişiminin tarımsal üretimi olumsuz etkilediği

12. I. Samsun - bakır sanayi
 II. Karabük - demir-çelik tesisleri
 III. Yatağan - termik santral

Yukarıda verilen sanayi tesislerinden hangileri hammadde kaynağına yakın değildir?

- A) Yalnız I. B) Yalnız II. C) I ve II. D) I ve III. E) II ve III.

14- İLK KÜLTÜR MERKEZLERİ

1. İlk medeniyetler Nil, İndus, Ganj, Fırat Dicle, Sarıırmak gibi yerlerde kurulmuştur.

İlk medeniyetlerin bu alanlarda kurulmasında

I. İklim koşulları

II. Bakı özellikleri

III. Su kaynakları

IV. Bitki örtüsü özellikleri

Verilen özelliklerden hangi ikisi diğerlerine göre daha fazla etkili olmuştur?

A) I ve II. B) I ve III. C) II ve III. D) II ve IV. E) III ve IV.

2. • Fırat ve Dicle nehirleri arasında kalan bölgedir.

• Tarıma bağlı olarak oluşan köyler zamanla şehirlere dönüşmüştür.

• Sümer, Babil, Akad, Asur, Elam gibi medeniyetler kurulmuştur.

Yukarıda genel özelliklerinden bazıları verilen ilk medeniyet merkezi aşağıdakilerden hangisidir?

A) Mezopotamya B) Hint C) Anadolu
D) Çin E) Orta Amerika

3. Akdeniz çevresinde kurulan medeniyetlerin en belirgin özelliği denizcilik faaliyetlerinde ilerlemiş olmalarıdır.

Akdeniz medeniyetlerinin bu özelliği kazanmasındaki temel faktör aşağıdakilerden hangisidir?

A) Tarım alanlarının darlığı
B) Akarsuların azlığı
C) Yerüstü ve yeraltı kaynakların azlığı
D) Doğal liman sayısının fazlalığı
E) Ekonomik değeri yüksek ürünlerin üretilmesi

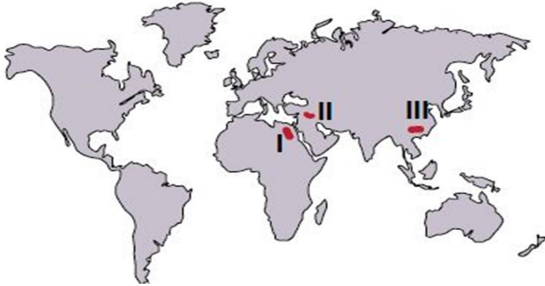
4. Dünya üzerinde kurulan ilk medeniyetlerin su kaynakları çevresinde yoğunlaştığı görülür.

Aşağıda verilen akarsu ve çevresinde kurulan medeniyet eşleştirmelerinden hangisi doğrudur?

İndus Nil Sarıırmak

A) Maya Mısır Mezopotamya
B) Mısır Mezopotamya Maya
C) Hint Mısır Çin
D) Mısır Maya Mezopotamya
E) Maya Mısır Çin

5. Haritada numaralandırılarak verilen alanlar ile bu alanlarda kurulan medeniyet eşleştirmesi aşağıdakilerden hangisinde doğru verilmiştir?

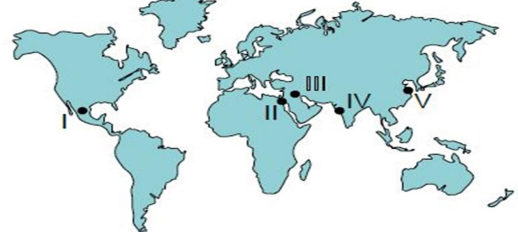


I II III
A) Mısır Mezopotamya Çin
B) Akdeniz Çin Maya
C) Maya Akdeniz Çin
D) Hint Maya İnka
E) Çin İnka Akdeniz

6. Aşağıdakilerden hangisi ilk medeniyetlerin kurulmasında ve gelişmesinde diğerlerine göre daha az etkili olmuştur?

A) İklim koşulları B) Hidrografik yapı
C) Toprak özellikleri D) Yer şekilleri
E) Bitki örtüsü

• Fırat ve Dicle nehirleri arasında kurulmuştur.
• Sulama kanallarını yapmışlardır.



7. Yukarıda bazı özellikleri verilen ilk kültür merkezlerinin kuruldukları yer haritada kaç numara ile gösterilmiştir?

A) I. B) II. C) III. D) IV. E) V.

• Önce Meksika, zamanla Orta Amerika'ya hakim olmuştur.
• XIII - XVI.yy arasında yaşamıştır.
• Bahçe sanatı, sulama, nadas uygulamışlardır.
• Dini inanışları yaşamlarında çok önemlidir.



8. Yukarıda bazı özellikleri verilen uygarlık haritada numaralandırılmış yerlerin hangisinde yaşamıştır?

A) I. B) II. C) III. D) IV. E) V.

9. Nil nehrinin taşması mısır medeniyetinin hangi alanda ilerlemesine katkı sağlamıştır?

A) Astronomi B) Tıp C) Denizcilik
D) Tarım E) Ulaşım

10. Aşağıdakilerden hangisi Hint medeniyetinin özelliklerinden biri değildir?

A) Tarımsal faaliyetler üzerinde doğal koşulların etkisi fazladır.
B) Kast sistemi ile toplum çeşitli sınıflara ayrılmıştır.
C) Uygun coğrafi koşullar nedeniyle pek çok kez istilaya uğramıştır.
D) Tıp, matematik ve astronomi alanlarında önemli gelişmeler göstermişlerdir.
E) İndus, Ganj ve Brahmaputra nehirleri havzasında kurulup gelişmiştir.

11. I. Gelişmiş tarım yöntemleri uygulamışlardır.

II. Taş işçiliği ve mimaride gelişmişlerdir.

III. Güneşin hareketleri konusunda uzmanlaşmışlardır.

IV. İpekli dokumada ilerlemişlerdir.

Yukarıda verilenlerden hangileri Aztek medeniyetine ait bir özellik değildir?

A) I ve II. B) I ve III. C) II ve III. D) II ve IV. E) III ve IV.

1. Kültür, bir toplumun tarihsel süreç içinde kuşaktan kuşağa aktardığı maddi ve manevi özelliklerin tümü olarak ifade edilebilir.

Bu özelliklerin oluşmasında;

- I. ekonomik faaliyetler,
- II. doğal çevre özellikleri,
- III. diğer kültürlerle olan etkileşim

Verilenlerden hangileri etkili olmaktadır?

A) Yalnız I. B) Yalnız II. C) I ve II. D) II ve III. E) I, II ve III.

2. Aşağıda Türk kültürüne ait bazı özellikler verilmiştir:

- I. Çadırda yaşama
- II. Kilim dokumacılığı
- III. Uzun süreli hapis cezalarının bulunmaması

Bu özelliklerden hangileri Türklerin göçebe yaşam tarzına sahip olduğunu göstermektedir?

A) Yalnız I. B) Yalnız II. C) I ve II. D) I ve III. E) II ve III.

3. Aşağıdaki Türk kültürüne ait özelliklerden hangisi, Türk kültüründe ticaretin önemli bir yer tuttuğunu gösterir?

- A) Tahıl üretimi yapmaları
- B) Kervansaraylar inşa etmeleri
- C) Kilim dokumacılığı yapmaları
- D) Nalbantlık mesleğinin gelişmesi
- E) Küçükbaş hayvancılık faaliyetlerinde bulunmaları

- I. Heykel
- II. Lokum
- III. Ebru sanatı

4. Yukarıda verilenlerden hangileri Türk kültürüne ait simgeler arasında gösterilir?

A) Yalnız I. B) Yalnız II. C) I ve II. D) II ve III. E) I, II ve III.

5. Aşağıda verilen ülkelerin hangisinin kültür özellikleri üzerinde Türk kültürünün etkisinin daha az olduğu söylenir?

- A) Suriye
- B) Mısır
- C) Bulgaristan
- D) Arnavutluk
- E) Danimarka

6. I. Savaşlar

II. Ticari faaliyetler

III. Tarımsal faaliyetler

Yukarıda verilenlerden hangileri kültürlerin etkileşim kurmasında etkili olmuştur?

A) Yalnız I. B) Yalnız II. C) I ve II. D) II ve III. E) I, II ve III.

7. Aşağıdakilerden hangisi Türk Kültürünün genel özellikleri arasında gösterilemez?

- A) Çok köklü ve eski bir kültür olması
- B) Denizcilik faaliyetlerinin gelişmiş olması
- C) Dünya barışını ve insan sevgisini esas alması
- D) Göçebe ve yerleşik özellik taşıması
- E) Deniz etkisine kapalı karasalılık etkisinin fazla olması

8. Aşağıdaki ülkelerin hangisi Latin Amerika Kültür Bölgesi'nde yer almaz?

- A) Portekiz
- B) Brezilya
- C) Meksika
- D) Arjantin
- E) Şili

9. I. Barınak türleri

II. Ahlak kuralları

III. inanç sistemi

IV. Giyinme tarzları

Yukarıda verilenlerden hangileri kültürlerin maddi unsurları arasında gösterilir?

A) I ve II. B) I ve IV. C) II ve III. D) II ve IV. E) III ve IV.

10. Ahilik, Selçuklular Dönemi'nde, Anadolu'da halkın sanat, ticaret ve çeşitli meslek kollarında yetişmesini sağlayan, hem de bu işlerle uğraşan insanların ahlaki yönden gelişmesini amaçlayan bir teşkilattır. Ahilik iyi ahlakın, doğruluğun, kardeşliğin ve yardımseverliğin birleştiği sosyal ve ekonomik bir düzendir.

Bu bilgiler doğrultusunda Ahilik Teşkilatı'nın Anadolu üzerindeki etkileri arasında,

I. Üretim faaliyetlerini doğrudan etkilemiştir.

II. Asayiş olaylarının azalmasında etkili olmuştur.

III. Türk kültürünün gelişmesine katkı sağlamıştır.

Verilenlerden hangileri söylenir?

A) Yalnız I. B) Yalnız II. C) I ve II. D) II ve III. E) I, II ve III.

11. Kültürü oluşturan unsurlardan maddi unsurların manevi unsurlara oranla daha hızlı değiştiğini söyleyebiliriz.

Buna göre aşağıda verilen unsurlardan hangisi diğerlerine göre daha hızlı değişmektedir?

- A) Dil
- B) Giyim tarzı
- C) İnanç sistemi
- D) Ahlak kuralları
- E) Örf ve adet

12. Kültür bölgelerinin oluşturulmasında dil ve din, ön plana çıkan iki önemli kültür ögesidir.

Bu özelliklere göre kültür bölgeleri oluşturulduğunda;

I. Kanada

II. Arjantin

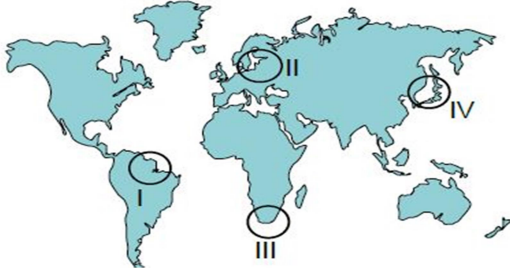
III. Cezayir

IV. Libya

Ülkelerden hangileri aynı kültür bölgesi içerisinde yer alır?

A) I ve II. B) I ve III. C) II ve III. D) II ve IV. E) III ve IV.

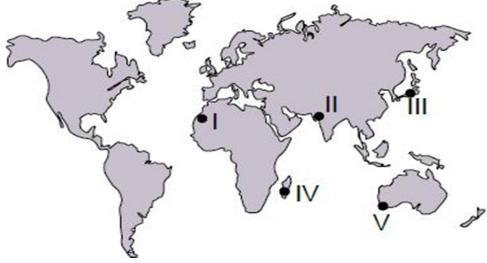
16 - KÜRESEL TİCARET



1. Yukarıda işaretlenmiş alanlardan hangi ikisi küresel ölçekte önemli sanayi üretim alanları içindedir?

- A) I ve II. B) I ve III. C) II ve III. D) II ve IV. E) III ve IV.

2. Limandan ayrıldıktan sonra en az yedi gün süreyle denizde kalıp avlanma yapabilen, avladıkları balıkları muhafaza ve işleme imkânlarına sahip gemilerle kara sularının dışında yapılan balıkçılık faaliyetlerine açık deniz balıkçılığı denilmektedir. **Bu balıkçılık türü,**



Haritada işaretlenen yerlerin hangisinde daha fazla gelişme göstermiştir?

- A) I B) II C) III D) IV E) V

3. Nüfus artış hızı ve nüfus yoğunluğunun fazla olduğu bazı ülkelerde işçi maliyetlerinin ucuz olmasına bağlı olarak sanayi üretiminin fazla olduğunu söyleyebiliriz.

Bu duruma örnek olarak,



Haritada işaretlenen yerlerin hangisi gösterilir?

- A) I B) II C) III D) IV E) V

4. K ve Z ülkelerinin

- iklim özellikleri,
- yer şekilleri,
- çalışan nüfusun ekonomik faaliyet kollarına dağılımlarının benzer olduğu bilinmektedir.

Yalnızca bu bilgiler doğrultusunda K ve Z ülkeleri arasında aşağıda verilen sektörlerden hangisinin ticari potansiyelinin daha az olması beklenir?

- A) Tarımsal ürünler B) Elektronik eşya
C) Motorlu taşıt D) Fosil yakıt
E) Demir-çelik

5. Günümüzde küresel ticaret üzerinde aşağıda verilen ülkelerin hangisinin payı diğerlerine göre daha azdır?

- A) Çin B) İsveç C) Almanya D) Japonya E) İngiltere

6. Bir ürünün tanıtılması ve tüketiciye ulaştırılması ticari faaliyetler için oldukça önemlidir.

Bu cümlede ticaret üzerinde aşağıdakilerden hangisinin önemli olduğuna değinilmiştir?

- A) Doğal çevre özellikleri
B) Pazarlama faaliyetleri
C) Hammadde temini
D) Üretim miktarı
E) İş gücü

7. I. Katar II. Rusya
III. Türkiye IV. İran
V. Cezayir

Yukarıda verilen ülkeler içinde doğalgaz üretimi en az olan ülke hangisidir?

- A) I B) II C) III D) IV E) V

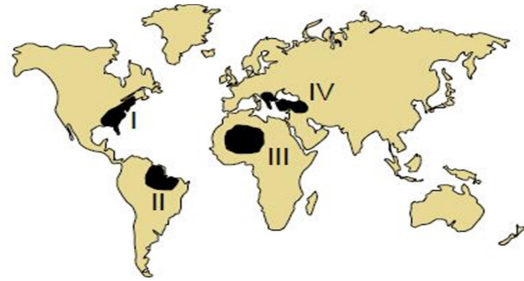
8. Pakistan, Mısır ve Venezuela ülkeleri daha çok hammadde ihraç edip, sanayi ürünleri ithal ederler.

Bu durumun nedeni olarak;

- I. iş gücü olanaklarının sınırlı olması,
II. sanayi üretim tesislerinin yetersiz olması,
III. sermaye birikiminin yetersiz olması

Verilenlerden hangileri gösterilemez?

- A) Yalnız I. B) Yalnız II. C) I ve II. D) I ve III. E) II ve III.



9. Bu alanlardan hangi ikisinde hizmet sektörünün diğer ikisine oranla daha fazla geliştiği söylenir?

- A) I ve II. B) I ve III. C) II ve III. D) I ve IV. E) III ve IV

10. Aşağıda verilen ülkelerin hangisinin ithalatında tarımsal ürünlerin payı daha fazladır?

- A) Gana B) Rusya C) Ekvador D) Malezya E) Kolombiya

11. Ticari faaliyetler Kuzey Yarım Küre'de, Güney Yarım Küre'ye oranla daha fazla gelişmiştir.

Bu durum üzerinde;

- I. nüfusun alansal dağılışı,
II. kara ve denizlerin dağılışı,
III. üretim ve tüketim bölgelerinin konumu

Verilenlerden hangileri etkili olmuştur?

- A) Yalnız I. B) Yalnız II. C) I ve II. D) II ve III. E) I, II ve III.

17 - TURİZM

1. Turizm faaliyetlerinin geliştiği yerlerde bu faaliyetlere bağlı olarak bazı hizmetlerin gelişme gösterdiğini söyleyebiliriz.

Bu hizmetlere örnek olarak;

- I. konaklama hizmetleri,
- II. yeme-içme sektörü,
- III. ulaşım hizmetleri

Verilenlerden hangileri gösterilir?

A) Yalnız I. B) Yalnız II. C) I ve II. D) II ve III. E) I, II ve III.

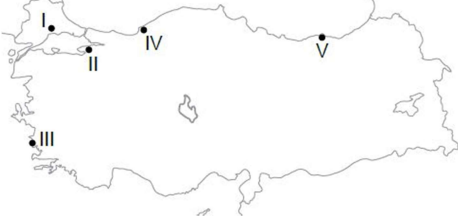
2. İskandinav Yarımadası üzerinde bulunan ülkelerde Mayıs ayının son haftasında 24 saate yakın gündüz süresi yaşanır. Ağustos ayının sonlarına doğru ise geceler yarı aydınlık geçer. Beyaz gecelerde İskandinav ülkelerini, günü doyasıya yaşamamanın coşkusu sarar. Buna bağlı olarak bu ülkelerde şölenler, festivaller düzenlenir.

İskandinav Yarımadası'nda yaşanan bu durum aşağıdakilerden hangisinin turizm faaliyetleri üzerindeki etkisine örnek olarak gösterilebilir?

- A) Çevresel etkilerin
- B) Politik etkilerin
- C) Sosyal etkilerin
- D) Ekonomik etkilerin
- E) Kültürel etkilerin

3. Güneşli gün sayısının fazla olduğu ve plaj oluşumlarının görüldüğü yerler deniz turizmi için elverişlidir.

Bu bilgiye örnek olarak,



Haritada işaretlenen yerlerden hangisi gösterilir?

A) I B) II C) III D) IV E) V

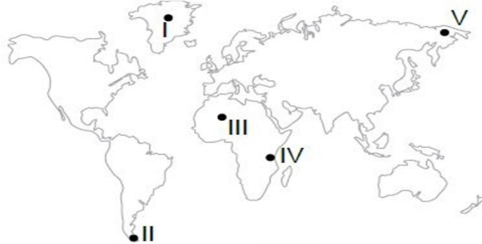
4. • Dünya'nın ilk ve en eski ulusal parkıdır.
• İçinde bulunan büyük gayzerleri ile tanınır.
• Üç yüze yakın şelale barındırır.

Özellikleri verilen ulusal park hangisidir?

- A) Acadia
- B) Yellowstone
- C) Yosemite
- D) Altındere Vadisi
- E) Büyük Kanyon

5. Vahşi yaşam alanlarında gözlem yapmak bazen de avlanmak amacıyla yapılan turizm türüne safari turizmi denilebilir.

Bu turizm türünün,



Haritada verilen yerlerin hangisinde daha fazla geliştiği söylenir?

A) I B) II C) III D) IV E) V

6. Aşağıdaki tabloda, Dünya Turizm Örgütü'nün 2007 yılı verilerine göre bazı ülkelere gelen turist sayısı, turizm geliri ve bunların Dünya genelindeki payları verilmiştir.

Ülke	Gelen turist sayısı (milyon kişi)	Dünya'daki payı (%)	Turizm Geliri (milyar dolar)	Dünya'daki pay ı (%)
Fransa	81,9	9,1	54,2	6,3
İspanya	59,2	6,6	57,8	6,8
ABD	56,0	6,2	96,7	11,3
Çin	54,7	6,1	41,9	4,9
Türkiye	22,2	2,5	18,5	2,2

Tablodaki bilgilere bakılarak aşağıdakilerden hangisi kesin olarak söylenir?

- A) Türkiye'de deniz turizmi gelişmiştir.
- B) Türkiye'nin turizm gelirleri İspanya'dan fazladır.
- C) Turist başına düşen gelir en fazla olan ülke Fransa'dır.
- D) Kişi başına düşen turizm gelirleri ülkelere göre değişir.
- E) ABD'nin turizm geliri, İspanya ve Çin'in turizm gelirlerinin toplamından fazladır.

7. Aşağıda verilenlerden hangisi turizmin kültürel etkisine örnektir?

- A) Ülkenin kalkınması için gerekli kaynağı sağlaması
- B) Alt yapı ve üst yapının iyileşmesini sağlaması
- C) İstihdam sağlayarak işsizliği azaltması
- D) Ülkelerin ödemeler dengesini sağlaması
- E) Farklı yaşam tarzlarının keşfedilmesi

8. Turizm faaliyetlerinden sağlanan gelirin gelişmiş ülkelerde, gelişmemiş ülkelere oranla daha fazla olduğunu söyleyebiliriz.

Bu durum üzerinde;

- I. turizm sektöründe kaliteyi artırmak için eğitimler vermek,
- II. reklam ve tanıtım faaliyetleri için yeterli kaynağı sağlamak,
- III. sürdürülebilir turizm stratejileri uygulamak

Verilenlerden hangileri etkili olmuştur?

A) Yalnız I. B) Yalnız II. C) I ve II. D) II ve III. E) I, II ve III.

9. Anadolu Yarımadası geçmişten günümüze birçok kültüre ev sahipliği yapmıştır. Hititler, Sümerler, Urartular, İyonlar, Romalılar, Selçuklular, Osmanlılar bu yarımada üzerinde yerleşme faaliyetlerinde bulunmuştur. **Bu durum Anadolu'da aşağıda verilen turizm türlerinden hangisinin gelişmesine daha çok katkı sağlamıştır?**

- A) Deniz turizmi
- B) İnanç turizmi
- C) Kültür turizmi
- D) Yayla turizmi
- E) Kongre turizmi

10. Aşağıdakilerden hangisi Türkiye'nin turistik önem taşıyan doğal unsurlarından biridir?

- A) Peribacaları
- B) Ayasofya Müzesi
- C) Aspendos Tiyatrosu
- D) Efes Antik Kenti
- E) Safranbolu evleri

- I. Turizm sektöründe çalışanlara yabancı dil eğitimi vermek.
- II. Turizm sektöründe çalışanlara mesleki eğitimler vermek.
- III. Yerel halkı turizm konusunda bilgilendirmek.

Yukarıda verilenlerden hangilerinin turizm faaliyetlerinde kaliteyi artırması beklenir?

A) Yalnız I. B) Yalnız II. C) I ve II. D) II ve III. E) I, II ve III.

- I. Artemis Tapınağı
 - II. Babil'in Asma Bahçeleri
 - III. Zeus Heykeli
 - IV. Kral Mozoles'in Mezarı
 - V. İskenderiye Feneri
 - VI. Keops Piramidi
 - VII. Rodos Heykeli
- Yukarıdaki mekanlardan hangileri Anadolu Yarımadası üzerinde bulunmaktadır?**

A) III ve VII. B) II ve IV. C) I ve IV. D) IV ve V. E) VI ve VII.

18 - ÜLKELERİ TANIYALIM

- Ülke topraklarının büyük kısmı deniz seviyesinin altındadır.
- İklimi üzerinde Gulf Stream sıcak su akıntısının önemli etkisi vardır.
- Ren Nehri bu ülke üzerinden Kuzey Denizi'ne dökülmektedir.

1. Özellikleri verilen ülke aşağıdakilerden hangisidir?

- A) Fransa B) Almanya C) İngiltere D) Hollanda E) İspanya

2. Nijerya'da sanayi faaliyetlerinin yeterince gelişmemesinin nedeni olarak

- Sermaye birikiminin yetersiz olması*
- Teknolojik gelişmişliğin az olması*
- Doğal kaynakların yetersiz olması*

Verilenlerden hangileri gösterilir?

- A) Yalnız I. B) Yalnız II. C) I ve II. D) I ve III. E) II ve III

3. İnsani Gelişme Endeksi, ülkelerin ortalama yaşam uzunluğu, okuryazar oranı ve yaşam düzeyi açısından ölçülmesi sonucunda hazırlanmaktadır.

Buna göre aşağıda verilen ülkelerin hangisinde bu endeks daha yüksektir?

- A) Şili B) Norveç C) Kazakistan D) Pakistan E) Arjantin

4. Fransa'da Atlas Okyanusu'na dökülen akarsuların ağız kısımlarında haliçler oluşmasının temel nedeni aşağıdakilerden hangisidir?

- A) Gelgit genişliğinin fazla olması
B) Batı rüzgârlarının etkili olması
C) Doğal liman oluşumlarının görülmesi
D) Fransa'da karasal iklim özelliklerinin görülmesi
E) Ülkenin batı kesiminde yer şekillerinin sade olması

5. Sulama, gübreleme, ilaçlama ve kaliteli tohum gibi uygulamalardan bilimsel yöntemlerle yararlanan tarım metoduna intansif (modern) tarım denir. Bu yöntemde tarımsal üretim doğal koşullardan fazla etkilenmez ve tarımsal verimlilik yüksektir.

Aşağıdakilerden hangisi bu tarımsal yöntemin yaygın olduğu ülkelere biridir?

- A) Hollanda B) Somali C) Kenya
D) Meksika E) Hindistan

6. Dünya genelinde bazı ülkelerin temel geçim kaynağı tarımsal faaliyetlerdir.

Bu ülkeler arasında aşağıdakilerden hangisi gösterilemez?

- A) Afganistan B) Portekiz C) Somali
D) Kenya E) Gana

7. Tarım alanlarının sınırlı olduğu bazı gelişmiş ülkeler tarımsal üretimde yüksek verim alabilmektedirler.

Bu ülkelere örnek olarak aşağıdakilerden hangisi gösterilir?

- A) Mali B) Brezilya C) Fransa
D) Moritanya E) Hindistan

8. ABD'nin Atlas Okyanusu kıyılarında bulunan şehirlerinde, nüfus yoğunluğunun yüksek olmasında;

- ulaşım faaliyetlerinin gelişmiş olması,*
- yer şekilleri özelliklerinin elverişli olması,*
- ticari faaliyetlerin gelişmiş olması*

Verilenlerden hangileri etkili olmuştur?

- A) Yalnız I. B) Yalnız II. C) I ve II. D) II ve III. E) I, II ve III.

9. Az gelişmiş ülkelerde daha çok temel ihtiyaçları karşılamaya yönelik olan tarım, ekstansif (geleneksel) yöntemlerle yapılır.

Bu tarımsal yöntemin uygulandığı ülkeler ile ilgili aşağıdakilerden hangisi söylenemez?

- A) Üretim genellikle doğa koşullarına bağlı olarak yapılır.
B) Tarımsal üretimde yıldan yıla dalgalanmalar görülür.
C) Tarımsal verim yüksek olup, tarım ürünü ihracatı fazladır.
D) Tarımsal üretimde makineden çok insan ve hayvan gücü kullanılır.
E) Tarım toprakları bakımsız olup tarımda sulama, gübre ve ilaç kullanımı azdır.

10. I. Ekonomisi büyük oranda tarım ve hayvancılığa dayanır. Nüfusun %65'i tarım sektöründe çalışmaktadır.

II. Ekonomisi büyük oranda hizmetler ve sanayi sektörüne dayanır. Nüfusunun %2,7'si tarım sektöründe çalışmaktadır. Yukarıda iki ülke ile ilgili bazı bilgiler verilmiştir.

Bu bilgiler dikkate alındığında ülkeler ile ilgili aşağıdakilerden hangisi doğrudur?

- A) I. Ülke Batı Avrupa ülkesidir.
B) II. Ülkenin dış ticaret hacmi daha azdır.
C) I. Ülkede tarımsal verim daha yüksektir.
D) II. Ülkenin ekonomisi daha fazla gelişmiştir.
E) İki ülkenin de nüfusunun yarısı sanayide çalışmaktadır.

11. Kahve tarımı genellikle dönenceler arasında, tropikal iklimin etkili olduğu yerlerde yapılmaktadır.

Buna göre aşağıda verilen ülkelerin hangisinde kahve üretimi yapılması beklenmez?

- A) Brezilya B) Etiyopya C) Meksika
D) Kanada E) Peru

12. • Ülkenin kuzeyinde Himalaya Dağları uzanmaktadır.

• En önemli akarsuları Ganj ve Brahmaputra nehirleridir.

Özellikleri verilen ülke aşağıdakilerden hangisidir?

- A) Hindistan B) Brezilya C) Malezya
D) Mısır E) Kolombiya

1. Birleşmiş Milletler Örgütü'ne üye ülkelerden beş tanesi alınan kararlarda veto hakkına sahiptir. Bu beş ülkeden birinin veto ettiği karar yürürlüğe girememektedir. Bu nedenle bu örgütün demokratik bir yapıda olmadığı söylenebilir.

Aşağıdaki ülkelerden hangisi bu beş ülkeden biri değildir?

- A) Almanya B) Rusya C) Çin
D) Fransa E) İngiltere

2. Türkiye, Birleşmiş Milletler'e 1945 yılında üye olmuş ve üye olduktan sonra bazı ülkelere asker göndermiştir.

Bu ülkeler arasında;

- I. Somali,
II. Bolivya,
III. Bosna-Hersek

Verilenlerden hangileri gösterilir?

- A) Yalnız I. B) Yalnız II. C) I ve II.
D) I ve III. E) I, II ve III.

3. 1949 yılında Sovyetler Birliği'ne karşı Avrupa'nın güvenliğini sağlamak için ABD öncülüğünde 12 devletin katılımıyla kurulan askeri bir örgüttür.

Bu askeri örgüt aşağıdakilerden hangisidir?

- A) BM B) NATO C) NAFTA D) IMF E) OECD

4. Aşağıda OPEC ile ilgili olarak verilmiş olan bilgilerden hangisi yanlıştır?

- A) Petrol ihraç eden ülkeler tarafından kurulmuştur.
B) Nijerya ve Cezayir birliğe sonradan katılmıştır.
C) Ekonomi alanında kurulmuş bir örgüttür.
D) Örgüt üye ülkeler üzerinde yaptırım gücüne sahiptir.
E) Uluslararası alanda petrol fiyatları konusunda işbirliğini amaçlar.

5. Dünya üzerinde siyasi, askerî ve ekonomik sorunların önlenmesi ve tekrar yaşanmaması için küresel ve bölgesel örgütler kurulmuştur.

Bu örgütlerden;

- I. Petrol İhraç Eden Ülkeler Örgütü (OPEC)
II. Karadeniz Ekonomik İşbirliği Teşkilatı (KEİ)
III. Ekonomik İşbirliği ve Kalkınma Örgütü (OECD)

Hangileri bölgesel faaliyet göstermektedir?

- A) Yalnız I. B) Yalnız II. C) I ve II. D) II ve III. E) I, II ve III.

6. Birinci ve İkinci Dünya Savaşları sonucunda birçok ülke ekonomik krizler yaşamıştır. Bu dönemde ABD ekonomik anlamda diğer ülkelere göre daha güçlü bir ülke konumunda idi. ABD bu dönemde kriz yaşayan ülkelere ekonomik yardımlarda bulunmuş ve bu amaçla bir kuruluşun kurulmasını gündeme getirmiştir.

Bu doğrultuda kurulan örgüt hangisidir?

- A) IMF B) NAFTA C) KEİ D) AB E) İKO

7. • Avrupa Kıtası'nın kalkınmasını sağlamak amacıyla kurulmuştur.

• Asıl amacı Avrupa Kalkınma Planı (Marshall Planı)'nı uygulamaktır.

• Günümüzde 30 üyesi bulunan örgüte Türkiye de dâhildir.

Özellikleri verilen örgüt hangisidir?

- A) NATO B) OECD C) KEİ D) AB E) BM

8. • 1951 yılında Avrupa Kömür ve Çelik Topluluğu ismiyle kurulmuştur.

• Kuruluşunda ekonomik bir örgüt iken daha sonradan siyasi bütünleşmeyi de içeren bir örgüt haline gelmiştir.

• Temel amacı üye ülkeler arasında gümrük birliği ve bu ülkelerin ekonomi politikalarında birlik oluşturmaktır.

Özellikleri verilen örgüt hangisidir?

- A) BM B) KEİ C) AB D) NATO E) İKO

9. Gelişen Sekiz Ülke (D-8); üye ülkeler arasındaki ekonomik ve ticari iş birliğini ön planda tutarak gelişmekte olan ülkelerin dünya ekonomisindeki konumunu iyileştirmeyi amaçlayan bir kuruluştur. D-8 üyesi ülkelerin aynı zamanda İslam İşbirliği Teşkilatı'na da üyeliği bulunmaktadır. Üye ülkeler Türkiye, İran, Pakistan, Bangladeş, Malezya, Endonezya, Mısır ve Nijerya'dır.

Bu kuruluş ile ilgili olarak;

- I. Üye ülkelerin ekonomisini güçlendirmeyi amaçlar.
II. Asya ve Afrika kıtalarından üye ülkeler bulunmaktadır.
III. Üye ülkelerin tamamı İslam ülkeleridir.

Verilenlerden hangileri doğrudur?

- A) Yalnız I. B) Yalnız II. C) I ve II. D) II ve III. E) I, II ve III.

10. Uluslararası alanda kurulmuş olan örgütleri küresel ve bölgesel olarak sınıflandırmak mümkündür.

Bu şekilde yapılacak bir sınıflandırmada;

- I. AB, II. BM, III. OECD,
IV. KEİ, V. IMF

Verilenlerden hangi ikisi diğer üçünden farklı bir grupta yer alır?

- A) I ve III. B) I ve IV. C) II ve IV. D) III ve V. E) IV ve V.

11. • İslam ülkelerinde işbirliğinin sağlanması

• Müslüman halkların haklarının korunması ve güvenliğinin sağlanması

Yukarıda verilenler hangi örgütün amaçları arasındadır?

- A) İKO B) KEİ C) NAFTA D) OECD E) BM

12. G-20 ülkelerinin liderleri, her yıl çeşitli platformlarda, uluslararası finans kurumları ile finansal düzenlemeyi geliştirme gibi konuları görüşmek üzere düzenli olarak toplanır. Zirvenin ana gündem maddesi ekonomi olmakla beraber dünyadaki siyasi ve diplomatik gelişmeler de ilgili toplantılarda görüşülmektedir.

Bu amaçla 15 Kasım 2015'te G-20 ülkeleri liderlerinin bir araya geldiği 10. Zirve'ye ev sahipliği yapan ülke aşağıdakilerden hangisidir?

- A) İngiltere B) Türkiye C) Kanada
D) Brezilya E) Güney Afrika

1. Sanayi üretiminin fazla olduğu yerlerde fosil yakıtların fazlaca kullanılmasına bağlı olarak bazı çevre sorunları yaşanmaktadır.

Buna göre, aşağıda verilen ülkelerin hangisinde bu sebepten dolayı oluşacak çevre sorunlarının daha fazla görülmesi beklenir?

A) Libya B) Nijerya C) Venezuela D) İngiltere E) Norveç

2. Enerji kaynaklarından bazılarının kullanımı sonucunda ortaya çıkan karbondioksit, metan, diazotoksit gibi gazlar sera etkisi yaparak küresel iklim değişikliğine neden olmaktadır.

Bu kaynaklar arasında;

- I. Güneş, II. Petrol,
III. Doğalgaz, IV. Rüzgâr

Verilenlerden hangileri gösterilir?

A) I ve II. B) I ve III. C) II ve III. D) II ve IV. E) III ve IV.

3. Maden işletmelerinin çevresel etkileri arasında;

- I. açık maden işletmelerinin doğal peyzajı bozması,
II. bazı maden işletmelerinin çevresindeki tarım ve yerleşme alanlarının toz etkisi altında kalması,
III. bitki örtüsünün tahrip edilmesine bağlı olarak erozyonun hız kazanması

Verilenlerden hangileri gösterilir?

A) Yalnız I. B) Yalnız II. C) I ve II. D) II ve III. E) I, II ve III.

4. Uluslararası alanda sulak alanların korunması amacıyla imzalanan anlaşma aşağıdakilerden hangisidir?

- A) Ramsar Sözleşmesi B) Barcelona Antlaşması
C) Kyoto Protokolü D) Washington Antlaşması
E) Bern Antlaşması

5. Doğal kaynakların kullanıma açılması için öncelikle aşağıdakilerden hangisi gereklidir?

- A) Ekonomik açıdan değerli olması
B) Doğada yeteri kadar bulunması
C) Kullanımına ait yöntemlerin gelişmiş olması
D) Kullanım alanının geniş olması
E) Stratejik bir öneme sahip olması

6. Akarsular üzerine elektrik enerjisi üretmek amacıyla kurulan barajların tarım alanları üzerinde olumsuz bir etkiye sahip olduğu söylenebilir.

Bu durumun gerekçesi olarak aşağıdakilerden hangisi gösterilir?

- A) Sulama olanakları sunması
B) Bazı yerleşim yerlerini istila etmesi
C) Üzerinde balıkçılık faaliyetlerinin yapılması
D) Barajların bulunduğu yerde iklimi ılımanlaştırması
E) Alüvyonların delta ovalarına ulaşmasını engellemesi

7. Orman alanlarının sürdürülebilir kullanımı için;

- I. kâğıt üretiminde hızlı büyüyen ağaç türlerinin tercih edilmesi,
II. kurumaya yüz tutmuş ağaçların kesilmesi ve yerine yenilerinin yetiştirilmesi,
III. doğal bitki örtüsü kesilerek yerine kereste potansiyeli daha yüksek ağaçların dikilmesi

Verilenlerden hangileri yapılabilir?

A) Yalnız I. B) Yalnız II. C) I ve II. D) II ve III. E) I, II ve III

8. • Elektrik enerjisi elde edilmesi

- Tarihi yerlerin sular altında kalması
- Tarım alanlarının sulanması
- Bazı hayvan türlerinin zarar görmesi
- Nehirde yaşayan canlıların yaşam alanını sınırlandırması

Yukarıda verilenlerden kaç tanesi barajların olumlu etkileri arasında gösterilir?

A) 1 B) 2 C) 3 D) 4 E) 5

9. Özellikle toprak kaynakları sağlıklı gıda üretiminin temelidir. Tüm dünyada gıda üretiminde kullanılan toprak miktarı ise sınırlıdır. Bu sebeple bu kaynakların gelecek nesillerin de yeterince yararlanabileceği şekilde kullanılması gereklidir.

Verilen bilgilerde toprak kaynaklarının kullanımında aşağıdakilerden hangisinin önemi vurgulanmıştır?

- A) Verimli doğal kaynak kullanımı için teknolojik imkânlardan yararlanılması
B) Doğal kaynaklar kullanılırken sürdürülebilir politikaların izlenmesi
C) Doğal kaynak kullanımında en ekonomik olan politikanın izlenmesi
D) Doğal kaynak kullanımı için yapılan kontrollerin gerekliliği
E) İnsan ihtiyaçlarının sınırlandırılması

10. Dünya'da kentsel nüfusun giderek artmakta olduğu ve bu artışın devam edeceği öngörülmektedir. Günümüzde yaklaşık 1/2 oranında olan kentsel nüfusun artarak, 2030'lu yılların ortalarında, 2/3 oranına yükseleceği ve bunun sonucunda 7 milyar civarındaki nüfusun kent alanlarında yaşayacağı tahmin edilmektedir. **Bu bilgilerden hareketle;**

- I. kent alanlarının genişlemesi,
II. orman ve mera alanlarının daralması,
III. deprem ve volkanizma olaylarında artış görülmesi

Verilenlerden hangilerinin gerçekleşmesi beklenir?

A) Yalnız I. B) Yalnız II. C) I ve II. D) II ve III. E) I, II ve III.

11. Yanlış arazi kullanımı doğal çevreyi etkilediği kadar insanları da olumsuz etkilemektedir.

Bu duruma örnek olarak aşağıdakilerden hangisi gösterilir?

- A) Küresel ısınma sonucunda bazı sulak alanların yok olması
B) Bitki örtüsünün tahrip olduğu yerlerde bazı canlı türlerinin yok olması
C) Maki bitki örtüsünün tahrip edildiği yerlerde garig bitki örtüsünün gelişmesi
D) Tarım alanlarının daralması sonucunda gıda fiyatlarının artış göstermesi
E) Sanayi atıklarının yerüstü sularına karışması sonucunda su ekosistemlerinin bozulması

CEVAPLAR

Test 9 1. D 2. B 3. C 4. E 5. D 6. E 7. D 8. C 9. B 10. E 11. D 12. B

Test 10 1. B 2. B 3. A 4. C 5. E 6. A 7. D 8. C 9. C 10. E 11. C 12. D

Test 11 1. D 2. D 3. E 4. A 5. B 6. B 7. C 8. C 9. A 10. E 11. B

Test 12 1. E 2. C 3. A 4. D 5. C 6. D 7. E 8. A 9. B 10. B 11. D 12. A

Test 13 1. E 2. E 3. B 4. A 5. E 6. A 7. B 8. A 9. A 10. B 11. C 12. C

Test 14 1. B 2. A 3. D 4. C 5. A 6. E 7. C 8. A 9. A 10. C 11. D 12. D

Test 15 1. E 2. E 3. B 4. D 5. E 6. C 7. B 8. A 9. B 10. E 11. B 12. E

Test 16 1. D 2. C 3. E 4. A 5. B 6. B 7. C 8. A 9. D 10. B 11. E

Test 17 1. E 2. A 3. C 4. B 5. D 6. D 7. E 8. E 9. C 10. A 11. E 12. C

Test 18 1. D 2. C 3. B 4. A 5. A 6. B 7. C 8. E 9. C 10. D 11. D 12. A

Test 19 1. A 2. D 3. B 4. D 5. B 6. A 7. B 8. C 9. E 10. B 11. A 12. B

Test 20 1. D 2. C 3. E 4. A 5. B 6. E 7. C 8. B 9. B 10. C 11. D