

## 10 SINIF 2. DÖNEM 1. YAZILI HAZIRLIK NÜFUS - GÖÇLER

1. Nüfus artış hızının ise her yıl düzenli olarak azaldığı bir ülkede,

- I. Kalkınma hızının
- II. Kişi başına düşen milli gelirin
- III. Eğitim ve sağlık hizmetlerinin
- IV. Enerji tüketiminin
- V. Hammadde ihracatının

Yukarıdakilerden hangisinin artışından söz edilemez?

- A) I B) II C) III D) IV E) V

2. Herhangi bir bölgede iş imkânlarının azalması bölge dışına olan göçü artırır.



Buna göre haritada işaretlenmiş bölgelerin hangisinde bölge dışına olan göç daha fazladır?

- A) I B) II C) III D) IV E) V

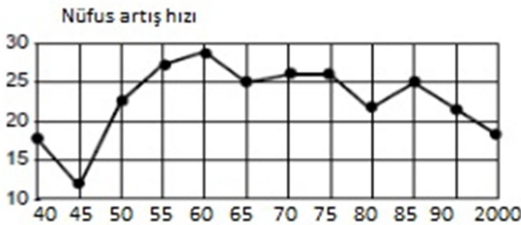
- I. İç ve dış göçlerin artması
- II. Eğitim ve sağlık hizmetlerinin aksaması
- III. Konut ihtiyacının azalması
- IV. Kişi başına düşen gelirin artması

3. Yukarıdakilerden hangileri nüfus artış hızı yüksek olan bir ülkenin karşılaştığı durumlardan biri değildir?

- A) I ve II B) Yalnız III C) II ve III  
D) III ve IV E) Yalnız II

4. Aşağıdakilerden hangisi bir ülkenin genç nüfuslu olduğunu gösterir? (ÖSS)

- A) Sanayi ürünleri üretiminin fazla olması
- B) Çalışan nüfusun yaş ortalamasının düşük olması
- C) Tarımla uğraşan nüfusun azalması
- D) Nitelikli işçi sayısının fazla olması
- E) Ortalama yaşam süresinin uzun olması



5. Yukarıdaki grafikte ülkemizde 1955 ile 2000 yılları arasındaki nüfus artış hızı (binde) olarak gösterilmiştir. Yalnızca grafiğe bakarak aşağıdakilerden hangisine ulaşılabılır?

- A) 1975-1980 yılları arasında nüfus azalmıştır.
- B) Nüfus artış hızında dalgalanmalar görülür.
- C) 1940-1945 yılları arasında nüfus artış hızının azalmasının nedeni II. Dünya Savaşı ve siyasi baskılardır.
- D) 1955-1960 yılları arası nüfusun en fazla olduğu dönemdir.
- E) Nüfus artış hızı %15'in altına hiç düşmemiştir.

- I. İş imkânları fazladır
- II. Çarpık kentleşme görülür
- III. Nüfus dağılışı iklim ve yer şekillerinden etkilenmez
- IV. Çalışan nüfusun yaş ortalaması düşüktür

6. Yukarıdakilerden hangileri gelişmiş bir ülkeye ait değildir?

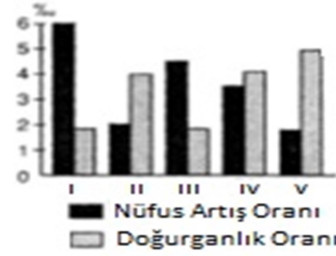
- A) Yalnız I B) I ve III C) II ve IV D) I, II, ve III E) I, III ve IV

7. Aşağıdakilerden hangisi nüfus artışının olumlu sonuçlarından değildir?

- A) Vergi gelirlerinin artması
- B) İşçi ücretlerinin düşmesi
- C) Askeri gücün artması
- D) İç ve dış göçler yaşanması
- E) Piyasanın genişlemesi

8. Orta Asya, Himalayalar, Kongo havzası ve Grönland yeryüzünün seyrek nüfuslu yerlerindedir. Bu bölgelerin coğrafi özellikleri düşünüldüğünde aşağıdakilerden hangisinin bir yerdeki nüfusun seyrek olmasına neden olduğu söylenemez?

- A) Akarsu boylarının uzun olması
- B) Yağış miktarının az ve yağış rejiminin düzensiz olması
- C) Yıl boyunca nem oranının yüksek yağışın fazla olması
- D) Buzulların geniş alan kaplaması
- E) Engebenin fazla olması



9. Yukarıdaki grafikte beş farklı bölgedeki nüfus artış oranları ile doğurganlık oranları verilmiştir. Ortalama yaşam süreleri birbirine yakın olduğu düşünülürse kaç numaralı bölgeler dışarıdan göç almaktadır?

- A) I ve II B) I ve III C) I ve V D) II ve IV E) III ve IV

10. Ülkelerin bazı özellikleri gelişmişlik göstergeleri hakkında bilgi verir. Buna göre;

- I. Okur-yazar oranı
- II. Nüfusun sektörel dağılımı
- III. Nüfus yoğunluğu
- IV. Yaşam süresi

Gibi özelliklerden hangisi, bir ülkenin gelişmişlik göstergesi değildir?

- A) Yalnız I B) Yalnız III C) II ve III D) II ve IV E) Yalnız II

11. Aşağıdakilerden hangisi, insanlık tarihi boyunca nüfus artışında sıçramaya neden olan olaylardan biridir?

- A) Doğal afetler
- B) Salgın hastalıklar
- C) Göç hareketleri
- D) Sanayi Devrimi
- E) Turizmin gelişmesi

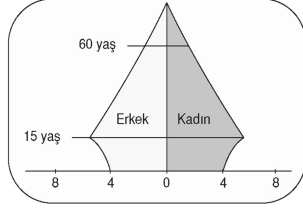
12. Aşağıdakilerden hangisi kırdan kente göçün itici nedenleri arasında değildir?

- A) Ürün çeşidinin fazlalığı
- B) Hızlı nüfus artışı
- C) Tarımda makineleşme
- D) Eğitim, sağlık gibi hizmetlerde yetersizlik
- E) Miras yoluyla toprakların bölünmesi

13. Türkiye'de, kıyılarda ve kıyılara yakın yerlerde nüfus yoğunluğu iç kesimlere göre daha fazladır. **Bu genelleme aşağıdaki yerlerden hangisi için geçerli değildir?**

- A) Çatalca - Kocaeli Platosu B) Teke Yöresi  
C) Gediz Ovası D) Çarşamba Ovası  
E) Zonguldak Yöresi

14. Nüfus yaş piramidi yukarıdaki gibi olan bir ülke için aşağıdakilerden hangisi söylenebilir?



- A) Doğurganlık oranında hızlı bir düşme yaşanmıştır.  
B) Geri kalmış ülkelere ait nüfus özelliği gösterir.  
C) Yaşlı nüfusun oranı, yetişkin nüfustan fazladır.  
D) Almanya gibi ülkelere ait nüfus yaş piramididir.  
E) Önceki yıllara göre doğum oranı artmıştır.

15. Nüfus artış hızı yüksek olan bir ülke için aşağıdakilerden hangisi söylenemez?

- A) Bağımlı nüfus oranı düşüktür.  
B) Doğum oranı ölüm oranından fazladır.  
C) Gelişme hızı yavaştır.  
D) Yaşlı nüfus oranı düşüktür.  
E) Çocuk nüfus oranı yüksektir.

16. Aşağıdakilerden hangisi göç sonucunda, göç edilen yerde gerçekleşen olgulardan değildir?

- A) Sanayi kuruluşlarının şehir içinde kalması  
B) Trafik sorunlarının yaşanması  
C) Alt yapı sorunlarının yaşanması  
D) Nüfusa yönelik yatırımların azalması  
E) Çevre sorunlarının yaşanması

17. I. Hindistan II. Pakistan  
III. Kanada IV. İsveç

Yukarıdakilerden hangi ikisi en fazla beyin göçü veren ülkelerdendir?

- A) I ve II B) I ve III C) II ve III D) II ve IV E) III ve IV

I. Doğum oranı düşüktür.

II. Ortalama yaşam süresi uzundur.

III. Ülke dışına göç azdır.

IV. Toplam nüfus içinde orta ve yaşlı nüfus sayısı fazladır.

18. Yukarıda bazı nüfus özellikleri verilmiş olan ülke aşağıdakilerden hangisi olabilir?

- A) Meksika B) İran C) Pakistan D) Almanya E) Fas

I. Nüfus artış hızının en düşük olduğu dönem 1945'tir.

II. Nüfus artış hızının en yüksek olduğu dönem 1960'tır.

III. Nüfus artış hızının düştüğü dönemde nüfus da azalmıştır.

19. Yukarıdakilerden hangileri Türkiye nüfusuyla ilgili verilmiş yanlış bilgidir?

- A) Yalnız I B) Yalnız II C) Yalnız III D) I ve II E) I, II ve III

20. Tarımda makineleşme arttıkça kırdan kente göçler de artmaktadır. Buna göre aşağıdaki yerlerden hangisinden yapılan göç makineleşmeyle açıklanamaz?

- A. Trabzon B) Konya C) Adıyaman D) Konya E) Çorum

## AŞAĞIDAKİ SORULARI CEVAPLAYIN

21. Mübadele ve mülteci kavramlarını açıklayın.

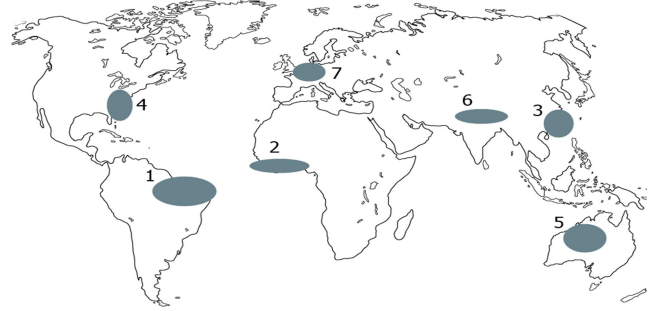
22. Beyin göçünün iki sebebini yazın.

23. İç göçlerin iki sebeplerinden iki tanesini yazın:

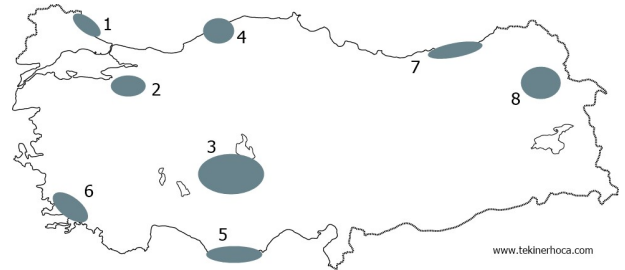
24. İç göçlerin sonuçlarından iki tanesini yazın.

26. Nüfus artış hızının olumlu sonuçlarından iki tane yazın.

27. Nüfus artış hızının olumsuz sonuçlarından iki tane yazın.



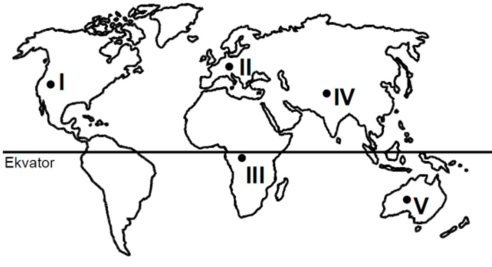
Yukarıdaki dünya haritasında işaretli yerlerin isimlerini yazarak nüfusun seyrek ya da sık olmasının sebepleriyle belirtin. Örn. 1. Amazon havzası – seyrek – Ekvator sıcak ve nemli



Türkiye haritasında işaretli yerlerin isimlerini yazarak nüfusun seyrek ya da sık olmasının sebepleriyle belirtin. Örn. 1. Yıldız dağları – seyrek – Yer şekilleri dağlık

**CEVAPLAR:** 1E 2E 3D 4B 5B 6C 7D 8A 9B 10B 11D 12A 13B 14A 15A 16D 17A 18D 19C 20A

**10 SINIF 2. DÖNEM 1. YAZILI HAZIRLIK  
BİTKİLER**



1. Orman üst sınırını sıcaklığın yetersizliği ve yükselti belirler. Buna göre, haritadaki

numaralanmış yerlerin hangisinde orman üst sınırının en yüksek olması beklenir? 2009 ÖSS

- A) I B) II C) III D) IV E) V

2. X bölgesinin doğal bitki örtüsü maki, Y bölgesinin doğal bitki örtüsü bozkırdır. Bu durum, X ve Y bölgelerinin aşağıdakilerin hangisi bakımından farklı olmasına bağlanabilir? 2006 ÖSS

- A) Düzlük alanların oranı  
B) Toprak türü  
C) Uygulanan tarım yöntemleri  
D) Yapılan hayvancılık türü  
E) İklim tipi



3. Bu alanların hâkim doğal bitki örtüleri arasında aşağıdakilerden

hangisi yoktur? 2014 LYS

- A) Ot toplulukları B) Tundra  
C) İğne yapraklı ormanlar D) Geniş yapraklı ormanlar  
E) Ekvatorial yağmur ormanları

4. Karadeniz Bölgesindeki ormanlarda deniz seviyesine yakın alanlarda geniş yapraklı, yükseltilere çıkıldıkça karışık, daha yukarıya çıkıldıkça iğne yapraklı ormanlara rastlanmaktadır. Bu değişikliklerin temel sebebi nedir?

- A) Toprak yapısı B) Yağış rejimi  
C) Yağışın miktarı D) Sıcaklık değişimi  
E) Yer şekilleri

5. Akdeniz Bölgesi'nde makilerin tahribatı hızla devam etmektedir. Bölgede makilerin tahribatı sonucu ortaya çıkan bitki topluluğunun adı nedir?

- A) Bozkır B) Dağ çayırları C) Garigler  
D) Meşe ormanları E) Geniş yapraklı ormanlar

6. Bir bölgede ormanların tahrip olduktan sonra tekrardan oluşabilmesi için yağış miktarının buharlaşma miktarından fazla olması gerekir. Aşağıda isimleri verilmiş olan iklim tiplerinden hangisinde tahrip edilen ormanların tekrar yetişebilmesi daha zordur?

- A) Muson iklimi B) Ekvatorial iklim  
C) Step iklimi D) Ilıman okyanus iklimi  
E) Akdeniz iklimi

7. Makiler Akdeniz Bölgesinin tipik bitki örtüsüdür. Akdeniz Bölgesinde yer almamasına rağmen aşağıdaki bölümlerin hangisinde makilere rastlanır?

- A) Kars B) Trabzon C) Diyarbakır  
D) Muş E) Bolu

8. Doğal bitki örtüsünün bozkır (step) olduğu bir yer için aşağıdaki yorumlardan hangisi yapılabilir?

- A) Ortalama yükseltisi fazladır  
B) Yazlar sıcak ve kurak geçmektedir  
C) Kışlar ılık ve yağışlı geçer  
D) Yıllık sıcaklık farkı düşüktür  
E) Nem yıl boyunca yüksektir

9. Bitki örtüleri enleme ve yükseltiye göre kuşaklar oluşturmaktadır. Buna göre aşağıdaki bitki türlerinden hangileri sırasıyla kutuplara en yakın ve deniz seviyesine göre en yüksekte bulunur?

- A) Tundra-Çayır B) Tundra-Kaktüs  
C) Muson ormanları-Step D) Tayga ormanları-Savan  
E) Yağmur ormanları-Maki

10. Aşağıdaki iklim tiplerinden hangisi doğal bitki örtüsü ile yanlış eşleştirilmiştir?

- A) Akdeniz - Maki B) Tundra-Tundra  
C) Step - Tayga D) Ilıman Okyanus - Karışık orman  
E) Subtropikal iklim - Savan

11. Bitki coğrafyası konusunda araştırma yapan bir bilim adamı, araştırma için gittiği yörede kekik, lavanta, zakkum ve defne gibi bitkilerin yaygın olduğunu gözlemlemiştir. Bu yöredeki bitki örtüsü, aşağıdakilerden hangisine örnektir?

- A) Çayır B) Maki C) Bozkır D) Savan E) Tundra

12. Rize – Orman, Eskişehir – Bozkır, Antalya – Maki, Kars - Çayır

Yukarıdaki merkezlerde bitki türlerinin farklı olması bu merkezlerin öncelikle aşağıdaki özelliklerinden hangisinin farklı olmasıyla açıklanabilir?

- A) Enlem değerlerinin B) Bakı özelliklerinin  
C) Akarsu rejimlerinin D) Jeolojik yapılarının  
E) Sıcaklık ve yağış özelliklerinin

13. Kuzey Yarım kürede doğu-batı uzantılı bir dağın güney yamacında güneşlenme isteği fazla olan bitkiler yayılış gösterir. Bu durum bitki dağılışında aşağıdakilerden hangisinin etkisini gösteren bir örnek olur?

- A) Yükselti B) Nemlilik C) Bakı  
D) Karasallık E) Enlem

14. Yağışların ağaç yetişmesine imkân vermediği bölgelerde görülen bitki örtüsüne ot adı verilir. Buna göre aşağıdakilerden hangisi ot formasyonu arasında yer almaz?

- A) Taygalar B) Savan C) Tundra D) Çayır E) Bozkır

15. Zeytin, zakkum, defne gibi bitkilerin yaygın olarak bulunduğu bir bölge için aşağıdakilerden hangisi kesin değildir?

- A) Orta kuşakta yer aldığı B) Yaz kuraklığının belirgin olduğu  
C) Kışların ılık geçtiği D) Dört mevsimin belirgin yaşandığı  
E) Akarsu debilerinin ilkbaharda arttığı

16) İlbahar yağışlarıyla yeşeren, yaz sıcaklığıyla birlikte sararıp, kuruyan bitkilere bozkır denir. Buna göre bozkır bitkisinin aşağıdaki yerlerden hangisinde görülmesi daha zordur?

A) Bolu B) Konya C) Kayseri D) Adıyaman E) Afyon

17. **X bölgesi:** Bozkır bitki örtüsü yaygındır.

**Y bölgesi:** Maki bitki örtüsü yaygındır.

**Buna göre:**

I. X bölgesinde yıllık yağış miktarı daha fazladır.

II. Her iki bölgede de yaz kuraklığı belirgindir.

III. Y bölgesinde don olayı pek yaşanmaz.

IV. Her iki bölgede de denizellik belirgindir.

**İfadelerinden hangileri yanlıştır?**

A) I ve II B) I ve IV C) II ve III  
D) III ve IV E) I, II ve IV

18. K doğal bitki örtüsünün bozkır olduğu yörelerde, L ise doğal bitki örtüsünün orman olduğu yörelerde yetişen bir kültür bitkisidir. Buna göre, K ve L bitkilerinin en yaygın olduğu bölgeler aşağıdakilerin hangisinde doğru olarak verilmiştir?

**K Bitkisi**

**L Bitkisi**

A) Konya Doğu Karadeniz  
B) Kıyı Ege Güney Marmara  
C) Orta Fırat Orta Kızılırmak  
D) Dicle Yukarı Fırat  
E) Yukarı Sakarya İç Batı Anadolu

19. Türkiye’de, iç bölgelerde antropojen bozkır o alanlarının varlığı aşağıdakilerden hangisinin göstergesidir?

A) Toprak türlerinin değiştiğinin  
B) Orman örtüsünün tahrip edildiğinin  
C) Sıcaklık ortalamalarının düştüğünün  
D) Yıllık ortalama yağış miktarının azaldığının  
E) Küçükbaş hayvancılık faaliyetlerinin azaldığının

20. Aşağıda verilen bitki türlerine ait özelliklerden hangisi, ayraç içindeki terimle uyumsuzdur?

A) Dünya’daki en geniş alanı Türkiye’dedir. Işığı seven, hızlı büyüyen bir ağaçtır, (kızılçam)  
B) Ülkemizin hemen her bölgesinde farklı türleriyle yayılış gösterir, (meşe)  
C) Daha çok Toroslarda yayılış göstermekle birlikte Kuzey Anadolu’da da görülür, (ladin)  
D) Genellikle 1-3 metre boyunda olan ağaççıkların oluşturduğu bitki topluluğudur, (maki)  
E) Kış aylarında kar altında kalıp, ilbaharda yeşeren, yaz boyu yeşil kalan ot topluluklarıdır, (dağ çayır)

21. 12 binden fazla bitki türüne sahip ülkemiz bu bakımdan dünyanın en zengin ülkelerinden biridir. Aşağıdakilerden hangisinin ülkemizdeki bitki türünün fazla olmasındaki etkisi daha azdır?

A) Asya ve Avrupa kıtalarında topraklarının bulunmasının  
B) Yer şekillerinin kısa mesafelerde çeşitlilik göstermesinin  
C) Üç tarafının denizlerle çevrili olmasının  
D) Farklı iklim özelliklerinin görülmesinin  
E) Orta kuşakta yer almasının

## AŞAĞIDAKİ SORULARI CEVAPLAYIN

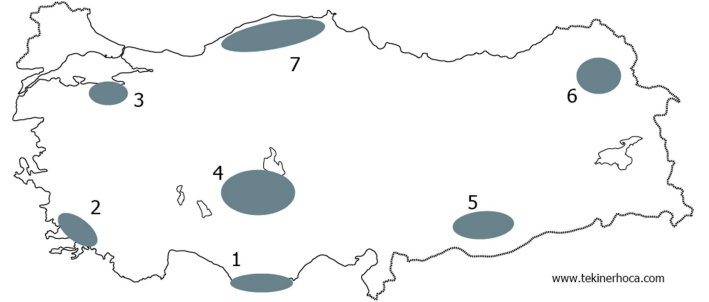
Endemik bitki nedir? İki örnek verin

Ülkemizde en yaygın olarak yetişen iki ağaç türünü yazın

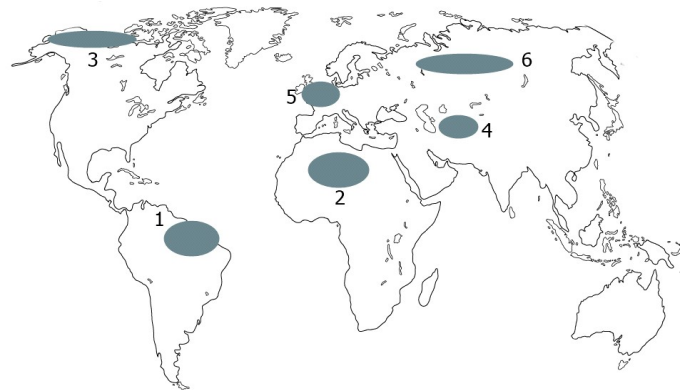
Yükseklere çıktıkça bitki örtüsünün geniş yaprak, karışık, iğne yaprak şeklinde kuşaklara ayrılmasının sebeplerini yazın.

Garig ile Antropojen bozkırın ortak yanı nedir?

Ülkemizde ormanlar nerelerde fazla, nerelerde azdır? Neden?



Yukarıdaki Türkiye haritasında işaretlenmiş bazı alanlar gösterilmiştir. Buralardaki hâkim doğal bitki örtülerini yazın. Örn. 1 Maki



Yukarıdaki Türkiye haritasında işaretlenmiş bazı alanlar gösterilmiştir. Buralardaki hâkim doğal bitki örtülerini yazın.

**CEVAPLAR:** 1C 2E 3C 4D 5C 6C 7B 8B 9A 10C 11B 12E 13C 14A 15E 16A 17B 18A 19B 20C 21A