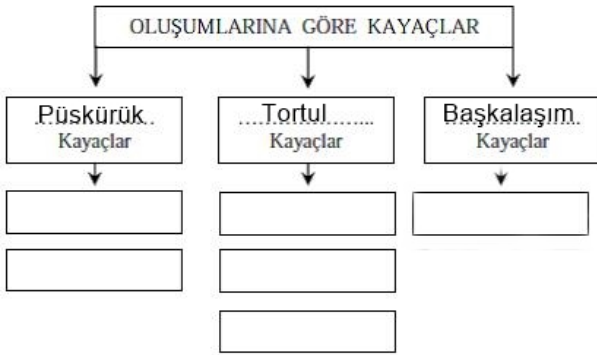


	Etkili olan Kuvvet	Aşındırma	Biriktirme
Delta	Akarsu		*
Mantar kaya			
Obruk			
Irmak adası			
Peneplen			
Falez			
Lagün			
Dev kazanı			
Barkan			
Hörgüç kaya			
Traverten			

1. Yukarıdaki tabloyu uygun şekilde doldurun.



Yukarıdaki tabloda oluşumlarına göre kayaç tipleri verilmiştir. Boşluklara uygun örnek yazın.

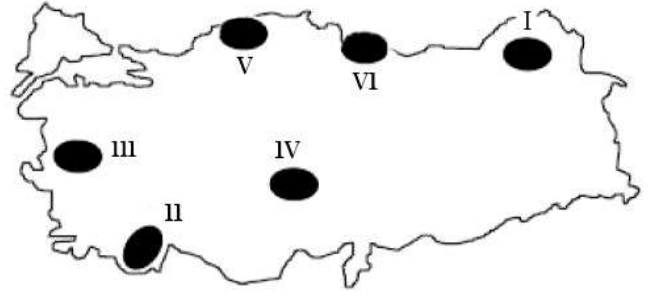
İç Kuvvet ne demektir:

İç Kuvvetler dörde ayrılır:

- 1.
- 2.
- 3.
- 4.

Dünyada gerçekleşmekte olan EPIROJENEZ'e iki örnek verin.

- 1.
- 2.



Yukarıdaki Haritaya göre;

A. (....) numaralı bölgede kalkerli arazinin varlığı sebebiyle karstik şekiller yaygındır.

Karstik şekil nedir:

B. (....) numaralı bölgede volkan tufu ve bazalt bloklarının varlığı peribacalarının oluşmasını sağlamıştır.

Peribacası nedir:

C. (....) numaralı bölgede delta ovası oluşmuştur.

Delta ovası nedir:

D. (....) numaralı bölgede boyuna kıyılar görülür.

Boyuna kıyı nedir:

E. (....) numaralı bölgede sirk göllerine rastlanır.

Sirk gölü nedir:

F. (....) numaralı bölgede akarsular menderesler şeklinde akar.

Menderes nedir:

Aşağıdaki ifadeleri Doğru / Yanlış olarak belirtin.

(.....) Toros Dağları üçüncü jeolojik zamanda (tersiyer) oluşmuştur.

(.....) Türkiye'nin bulunduğu alanda İkinci Jeolojik Zaman'da Tethis Denizi adlı bir deniz vardır.

(.....) İstanbul Boğazı ve Çanakkale Boğazları Kuaaterner'de (4. zaman) oluşmuştur.

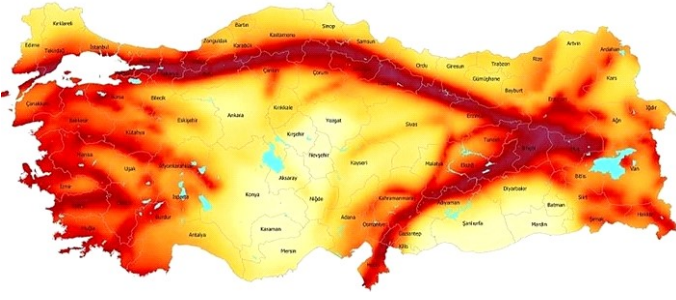
(.....) Zonguldak'taki taş kömürü yatakları paleozoikte (1. zaman) oluşmuştur.

(.....) Türkiye bugünkü genel görünümünü Birinci Jeolojik Zaman'da kazanmıştır.

(.....) Dünyada masif arazilerde deprem riski yüksektir.

(.....) Anadolu yarımadasının her yıl birkaç cm yükselmesi Orojeneze örnektir.

(.....) Volkanik araziler tarım açısından verimlidir.



Yukarıda Türkiye fay hatları haritası gösterilmiştir. Buna göre;

Kuzey Anadolu Fayı'nı kısaca açıklayın:

Güney Anadolu Fayını kısaca açıklayın:

Batı Anadolu Fayını kısaca açıklayın.

Deprem riskinin düşük olduğu üç yer yazın.

Aşağıdaki kavramları açıklayın.

Graben:

Transgresyon:

Krater:

Fosil:

Denge Profili:

Karstik Şekil:

İç püskürük Kayaç:

Fiyort Kıyı:

Falez:

Lagün:

OBSİDYEN – KUZEY ANADOLU – PANGEA – MASİF - ANTİKLİNAL – ALP – KALKER – KÖMÜR – SİAL – LEVHA
Yukarıda verilen kavramları uygun boşluklara yerleştirin.

Ülkemizin kuzeyinde uzanan dağ sırası:

Orojenezle kıvrılan dağın üst kısmı:

Avrupa'da uzanan kıvrım dağı:

Yerkabuğunun en üstündeki katı tabaka:

Magma üzerinde hareket eden parçalar:

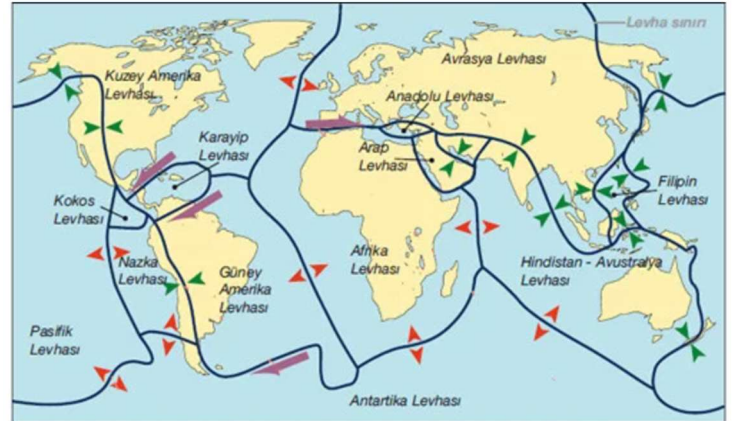
Cam gibi keskin bir volkanik taş:

Kıtaların birbirinden ayrılmadan önceki adı:

Eski zamanda oluşmuş kara parçası

Kireçtaşına Coğrafyada verilen isim:

Bitkilerin karbonlaşmasıyla oluşan kayaç:



Yukarıdaki haritada levha sınırları gösterilmiştir. Buna göre;

1. Levha sınırlarında ne gibi coğrafi olaylar görülür?

2. Deprem riskinin yüksek olduğu üç ülke yazın.

3. Deprem riskinin düşük olduğu üç ülke yazın.

4. Anadolu hangi levhaların karşılaşma alanında yer alır?