

COĞRAFYA DERSİ 10. SINIFI 1. DÖNEM 2. YAZILI ÖRNEĞİ (C)

1-Bitki örtüleri enleme ve yükseltiye göre kuşaklar oluşturmaktadır. Buna göre aşağıdaki bitki türlerinden hangileri sırasıyla kutuplara en yakın ve deniz seviyesine göre en yüksekte bulunur?

- A) Tundra-Çayır B) Tundra-Kaktüs
C) Muson ormanları-Step D) Tayga ormanları-Savan
E) Yağmur ormanları-Maki

2- I. Doğum oranı düşüktür.

II. Ortalama yaşam süresi uzundur.

III. Ülke dışına göç azdır.

IV. Toplam nüfus içinde orta ve yaşlı nüfus sayısı fazladır.

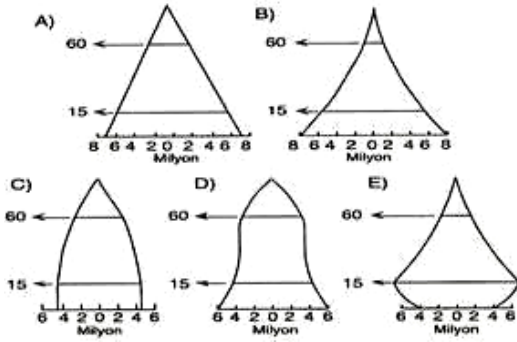
Yukarıda bazı nüfus özellikleri verilmiş olan ülke aşağıdakilerden hangisi olabilir?

- A) Meksika B) İran C) Pakistan
D) Almanya E) Senegal

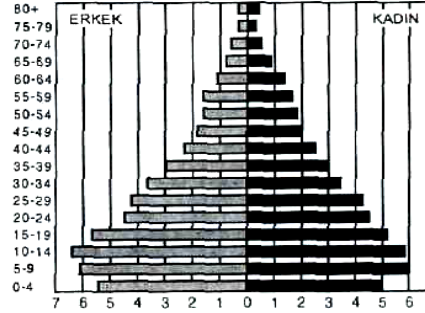
3- Kimyasal çözülmenin yeterli olduğu alanlarda yağışın fazla olduğu yerlerde toprak oluşumu kolaydır. Buna göre aşağıdakilerden hangisinde toprak oluşumu daha zordur?

- A) Ekvator çevresi B) Muson Asya'sı
C) Akdeniz Havzası D) Çöl alanları
E) Batı ve Orta Avrupa

4. Aşağıda verilmiş nüfus piramitlerinden hangisi, nüfus artışının, hızlı bir düşüşten sonra tekrar artmaya başladığı bir ülkeye ait olabilir.



5- YAŞ GRUPLARI



-TÜRKİYE-

Yukarıda nüfusun yaş ve cinsiyete göre dağılımı verilen ülke için, aşağıdakilerden hangisi söylenemez?

- A) Gelişmekte olan bir ülkedir.
B) Doğum oranı yüksektir.
C) 5-14 yaş grubunda erkeklerin oranı kadınlardan fazladır.
D) Genç nüfuslu bir ülkedir.
E) Bağımlı nüfus oranı azdır.

6-17. Yüzyılın ilk yarısından 20. Yüzyıla kadar Avrupa'dan Amerika Kıtası'na büyük göçler yaşanmıştır. Aşağıdakilerden hangisi bu göçlerin nedenlerinden biri değildir?

- A) Siyasal baskılardan kaçmak
B) Dinsel inançlarını özgürce yerine getirmek
C) Yeni fırsatlardan yararlanmak
D) Maceraya atılmak
E) Daha iyi eğitim hizmetleri alabilmek

7- Aşağıdakilerden hangisi siyasi güçlere örnek olarak verilebilir?

- A) Aral gölünün kuruması nedeniyle bölgede yaşanan göç
B) Mübadele göçleri
C) Türklerin orta Asya'dan göçü
D) Avrupa'dan Amerika'ya yapılan göç
E) Türkiye'den Almanya'ya çalışmak için yapılan göç

8- Aşağıda ölüm, doğum ve gerçek nüfus artış oranlarının verilmiş olduğu ülkelere hangisi, dış ülkelere göç vermektedir?

	Doğum (binde)	Ölüm (binde)	Gerçek Nüfus Artışı (binde)
A	18	12	10
B	32	20	12
C	38	18	10
D	20	5	35
E	12	2	20

9- Doğal bitki örtüsünün bozkır (step) olduğu bir yer için aşağıdaki yorumlardan hangisi yapılabilir?

- A) Ortalama yükseltisi fazladır
B) Yazlar sıcak ve kurak geçmektedir
C) Kışlar ılık ve yağışlı geçer
D) Yıllık sıcaklık farkı düşüktür
E) Bağıl nem yıl boyunca yüksektir

10-Geçmişte nüfus sayımları daha çok hangi amaçlarla yapılmıştır?

- A) Okuma-yazma oranını tespit etmek
B) Kent ve kır nüfusunu tespit etmek
C) Nüfus hareketlerini tespit etmek
D) Asker sayısını ve vergi yükümlülerini tespit etmek
E) Nüfusun mesleklere göre dağılımını tespit etmek

11- I- Yazının bulunması

II- Alet yapılmaya başlanması

III-Tarım yapılmaya başlanması

IV-Barutun keşfi ile ateşli silahların kullanılması

V-Sanayi devriminin gerçekleşmesi

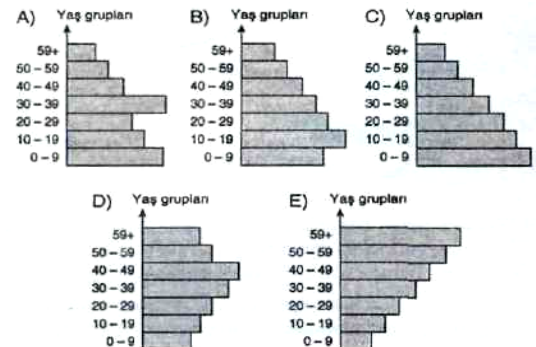
Yukarıda verilmiş olan olaylardan hangisi veya hangileri Dünya nüfusunda önemli artışlara sebep olmuştur?

- A) Yalnız V B) II-III-IV C) I-II-V
D) Yalnız III E) II-III-V

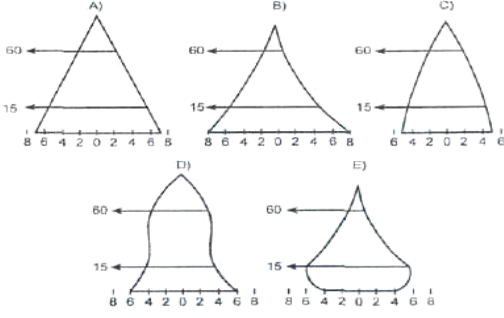
12-Aşağıdakilerden hangisi nüfusun hızla artmasının nedenlerinden değildir?

- A) Nüfusun katlanarak çoğalması
B) Tıp alanındaki gelişmeler
C) Eğitim seviyesinin yükselmesi
D) Salgın hastalıkların önlenmesi
E) Beslenme şartlarının iyileşmesi

13- Bir ülkenin gelişmişlik düzeyini belirleyen göstere nüfusun yaş yapısı kabul edilirse, aşağıda nüfus piramitleri verilen beş ülkeden hangisinin daha az geliştiği söylenebilir?



14- Aşağıdaki nüfus piramitlerinden hangisi 0-5 yaş grubundaki nüfusta ölüm oranlarının azaldığı ve nüfusun artış hızının yavaşladığı ülkelerin nüfus piramididir?



15- X bölgesi yoğun göç alan bir bölgedir. Ülkenin hemen her bölgesi için bir cazibe merkezi durumunda olan X bölgesinin nüfusu her geçen gün artmaktadır.

Buna göre; göçlerin x bölgesinde aşağıdaki mekânsal sonuçlardan hangisine neden olması beklenmez?

- A) İş alanlarının ve çeşitliliğinin artması
- B) Hava ve ses kirliliğinin artması
- C) İşçi ücretlerinin artması
- D) Sanayi merkezlerinin yerleşim alanlarının içinde kalması
- E) Kültürel çeşitliliğin artması

16- Doğum oranının en yüksek olduğu kıta Afrika'dır. Daha sonra Güneybatı Asya ve Güney Amerika gelir.

Aşağıdakilerden hangisi ile doğum oranının fazlalığı arasında direkt bir etkileşim kurulabilir?

- A) Tarım alanlarının fazlalığı
- B) Gelişme düzeyi ve sanayileşme oranı
- C) Tarımsal çeşitlilik
- D) Hayvancılık faaliyetleri
- E) Ülkenin mensup olduğu din.

17- Aşağıdakilerden hangisi, göçlerin siyasi nedenleri arasında yer almaz?

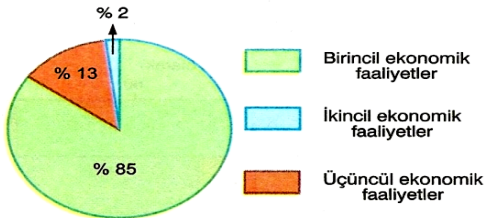
- A) İşsizlik
- B) Savaş
- C) Mübadele
- D) İhtilal
- E) Ülke sınırlarının değişmesi

18- Türklerin dışındaki topluluklarında yer değiştirmesi şeklinde gerçekleşen Kavimler Göçü tarihsel olarak önemli değişmelere yol açmıştır. Aşağıdakilerden hangisi, kavimler Göçü' nün sonuçlarından değildir?

- A) Avrupa' da feodalitenin kurulması
- B) Asya' da nüfusun artması
- C) Avrupa' nın sosyal, siyasi ve etnik yapısının değişmesi
- D) Avrupa Hun devletinin kurulması
- E) Roma İmparatorluğunun zayıflaması

19-

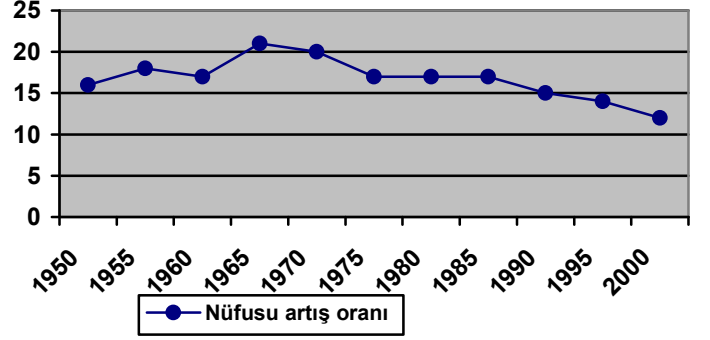
Aşağıdaki grafikte, bir ülkede çalışan nüfusu sektörlere göre dağılımı verilmiştir.



Buna göre, aşağıdakilerden hangisi bu ülkenin genel özelliklerinden biri olamaz?

- A) Nüfus artış hızı yüksektir.
- B) Bebek ölüm oranları yüksektir.
- C) Ortalama yaşam süresi uzundur.
- D) Kişi başına düşen millî gelir azdır.
- E) İhracatında sanayi ürünlerinin payı azdır.

20- Aşağıdaki grafikte dünya nüfusunun artış oranları gösterilmiştir.



Bu grafikten aşağıdaki bilgilerden hangisine ulaşılamaz?

- A) 1975-1985 yılları arasında nüfus artış hızı pek değişmemiştir
- B) Dünya nüfusunun en fazla olduğu yıl 1965 dir.
- C) Nüfus artış hızının en düşük olduğu yıl 2000 dir
- D) 1960-1965 yılları arasında nüfus artış hızı artmıştır
- E) 1985-2000 yılları arasında nüfus artış hızı azalmıştır.

21. Aşağıdakilerden hangisi, bir bölgede etkili olan sıcaklık ve yağış rejimi hakkında en çok bilgi verir?

- A) Doğal bitki örtüsü
- B) Akarsu ağı
- C) Denize yakınlık
- D) Yükselti
- E) Hâkim rüzgar yönü

22. Tarih öncesi devirlerde doğum oranının çok yüksek olduğu tahmin edilmekle birlikte nüfus artışının da hızlı olmadığı bilinmektedir. Bu durumun ortaya çıkmasında;

- I. Yaşam süresinin kısa olması
- II. Salgın hastalıkların yaygınlığı
- III. İklim koşullarının elverişsiz olması
- IV. Çocuk ölümlerinin fazla olması

Gibi faktörlerden hangisinin etkisi olmamıştır?

- A) Yalnız II
- B) Yalnız III
- C) I Ve II
- D) I VE IV
- E) III Ve IV

23. Nüfus artış hızının artması aşağıdaki ülkelerden hangisinde bir sorun oluşturmaz?

- A) Hindistan
- B) Almanya
- C) Pakistan
- D) Mısır
- E) Çin

24 Aşağıdakilerin hangisinde, nüfus artış hızının en az ve en fazla olduğu kıtalar birlikte verilmiştir?

- A) Asya-Avrupa
- B) Avrupa-Afrika
- C) Asya-Avustralya
- D) Güney Amerika-Asya
- E) Kuzey Amerika-Afrika

5 Ekonomik gelişmesi nüfus artış hızının gerisinde kalan ülkede, altından kalkamayacak sorunlar ortaya çıkar.

Buna göre aşağıdakilerden hangisi, hızlı nüfus artışıyla ortaya çıkan sorunlar arasında yer almaz?

- A) Kişi başına düşen millî gelirin azalması
- B) Eğitim ve sağlık hizmetlerinin aksaması
- C) Köyden kente göçün artması
- D) Suç oranının yükselmesi
- E) Şehirlerin düzenli bir şekilde büyümesi

26. Nüfus artışı, göç veren yerlerde yaşarlarken göç alan yerlerde hızlanır. Buna bağlı olarak göç alan yerlerde bazı sorunlar ortaya çıkar. Aşağıdakilerden hangisi, söz edilen sorunlar arasında yer almaz?

- A) Trafik sorunu
- B) Altyapı yetersizliği
- C) Eğitim ve sağlık hizmetlerinin aksaması
- D) Ticaret faaliyetlerinin azalması
- E) Çarpık kentleşme

27. Aşağıdakilerden hangisi, uluslararası işçi göçlerinin olumlu etkileri arasında yer **almaz**?

- A) Ülkeler arasında ekonomik ve kültürel ilişkiler gelişir.
B) Göç veren ülkelerde işsizlik azalır.
C) Göç edenler, sosyal ve kültürel yönden uyum zorluğu yaşar.
D) Göç alan ülkelerde üretim artışı sağlanır.
E) Göç edenler kazandıkları paralarla ülkelerine yatırım yapar.

28. En eski ekonomik faaliyetlerden biri olan tarım, günümüze önemini artırarak devam etmektedir. Aşağıdakilerden hangisi, bu durumun nedenleri arasında yer **almaz**?

- A) Besine olan ihtiyacın her geçen gün artması
B) Sanayi için ham madde üretmesi
C) Dünya nüfusunun hızla artması
D) Günümüzde de önemli besinlerin tarımda elde edilmesi
E) Tarımda makine kullanımının yaygınlaşması

29. Ticaret, tarih öncesi çağlarda başlamış olmakla birlikte özellikle 15. Yüzyıldan sonra çok büyük önem kazanmıştır.

Aşağıdakilerden hangisi, ticareti arttıran buluşlardan biri **değildir**?

- A) Ateşin bulunması
B) Tekerleğin keşfi
C) Buharlı makinelerin yapılması
D) Seramik sanatının yapılması
E) Ekonomik faaliyetlerin çeşitlenmesi

30. Aşağıdaki ekonomik faaliyetlerden hangisi, birincil ekonomik faaliyetler arasında yer **almaz**?

- A) Ziraat
B) Hayvancılık
C) Turizm
D) Ormanlık
E) Balıkçılık

31. İnsanlık tarihi boyunca, Dünya nüfusunun patlama şeklinde çoğaldığı üç belirgin sıçrama dönemi vardır.

Buna göre nüfusun artışıdaki belirgin sıçrama dönemlerinin ortaya çıkmasında;

- I İnsanların alet yapmayı öğrenmesi
II Hayvanların evcilleştirilmesi
III Tarıma öğrenilip yerleşik hayata geçilmesi
IV Yazının icadıyla antlaşmaların yapılması
V Sanayi Devrimi'nin gerçekleşmesi

Faktörlerinden hangisinin etkili olduğu **söylenemez**?

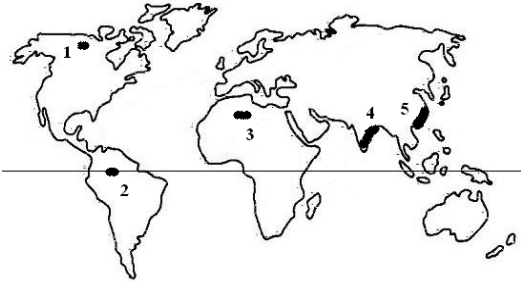
- A) I B) II C) III D) IV E) V

32. 1800' lü yıllara kadar ancak 1 milyara ulaşabilen Dünya nüfusu, 1950' li yıllardan sonra adeta nüfus patlaması şeklinde artarak günümüzde 7 milyara ulaşmıştır.

Dünya nüfusunun 1950' li yıllardan sonraki artışında aşağıdakilerden hangisinin etkili olduğu **söylenemez**?

- A) Deprem bölgelerine olan yerleşmelerin azalması
B) Sağlık hizmetlerinin gelişmesi
C) Beslenme koşullarının iyileşmesi
D) Tıp alanındaki gelişmelerin yaygınlaşması
E) Ulaşım ve iletişim hizmetlerinin yaygınlaşması

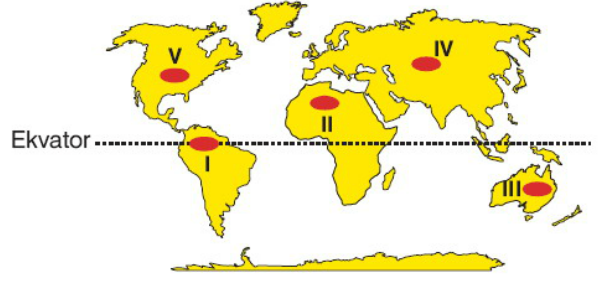
33.



Yukarıdaki Dünya haritasında taralı olarak gösterilen alanların hangisi aşırı kuraklıktan dolayı seyrek nüfuslanmıştır?

- A) 1 B) 2 C) 3 D) 4 E) 5

34.



İklim koşulları düşünüldüğünde, yukarıdaki haritada numaralandırılmış yerlerden hangisinde bitki örtüsünün **daha gür** olduğu söylenebilir?

- A) I B) II C) III D) IV E) V

35.

- I. Ormanlık, madencilik, hayvancılık ve tarım ürünleri yetiştiriciliği bu sektörün temel faaliyetidir.
II. Ham maddelerin işlendiği ve değerli ürünlere dönüştürüldüğü sanayi ile ilgili faaliyetler bu grupta yer alır.
III. Pazarlama, turizm, eğitim, sağlık, bankacılık v.b bu gruba girer.

Yukarıda özellikleri verilen ekonomik faaliyet kol- ları aşağıdakilerden hangisinde doğru verilmiştir?

	I	II	III
A) Birincil	Birincil	İkincil	Üçüncül
B) İkincil	İkincil	Birincil	Üçüncül
C) Üçüncül	Üçüncül	Birincil	İkincil
D) Birincil	Birincil	Üçüncül	İkincil
E) İkincil	İkincil	Üçüncül	Birincil

36. Ülkemizin yöreleri arasındaki gelişmişlik farkı iç göçün yaşanmasının temel nedenidir. Buna göre, iç göçün azaltılmasında aşağıdakilerden hangisi akılcı bir çözüm **olamaz**?

- A) Geri kalmış yörelerde tarımsal sulamayı yaygınlaştırmak
B) Geri kalmış yörelerde sanayinin gelişimini teşvik etmek
C) Altyapı hizmetlerini bütün bölgelerde yaygınlaştırmak
D) Gelişmiş yörelerde konut yapımını hızlandırmak
E) Eğitim ve sağlık hizmetlerini dengeli hale getirmek

37. Volkanik dağlarının çevreleri, deprem, kızgın lav örtüleri, çamur selleri, kızgın bulut ve küller gibi çeşitli tehlikelerle dolu yerlerdir. Fakat buna rağmen bu bölgelerde çok önemli yerleşim merkezleri kurulmuş, önemli tarım alanları olmuştur.

Bu durumun temel nedeni aşağıdakilerden hangisidir?

- A) Yeraltı suyunun kolayca sağlanması
B) Tarım topraklarının yetersiz kalması
C) Topraklarının verimli olması
D) Bitki örtüsünün zengin olması
E) Otlak ve meraların fazla olması

38. 'Türkiye'de akarsular, saniyede akıttıkları toplam su miktarı bakımından fazla zengin sayılmaz. Ancak enerji potansiyeli bakımından oldukça zengindir.'

Bu durum aşağıdakilerden hangisine kanıt olabilir?

- A) Akarsu yataklarında eğimin fazla olduğuna.
B) Akarsu havzalarının geniş olduğuna.
C) Akarsuların kar suyuyla beslendiğine.
D) Akarsu rejimlerinin düzensizliğine.
E) Akarsuların sık sık yatak değiştirdiğine.

39. Aşağıdakilerden hangisi kırdan kente göçün itici nedenleri arasında değildir?

- A) Miras yoluyla mal varlığının bölünmesi
B) Ürün çeşidinin fazlalığı
C) Tarımda makineleşme
D) Eğitim, sağlık gibi hizmetlerde yetersizlik
E) Hızlı nüfus artışı

40. Dünya üzerinde bazı akarsu havzalarında iklim koşulları ve ya yer şekillerinin olumsuz etkisinden dolayı yerleşmeler oldukça azdır. Aşağıda verilen akarsuların hangisinde böyle bir durumdan söz edilemez?

- A) Amazon B) Ganj C) Obi D) Kongo E) Yenisey

41. Güney Amerika kıtasında yer alan ülkelerden Peru'da şiddetli depremler yaşanırken Brezilya'da deprem riski çok düşüktür. Bu durum iki ülkenin hangi yönden farklı olduğunun bir göstergesi olabilir?

- A) Yıllık yağış miktarı B) Nüfus yoğunluğu
C) Kentleşme oranı D) Tarımsal etkinlikler
E) Jeolojik yapı

42. Bir yörede nüfus artışları, iş olanaklarının artışıyla sıkı bir ilişki içinde ise bu yöredeki nüfus artışında aşağıdakilerden hangisinin payının en büyük olduğu söylenebilir? (ÖSS)

- A) Konut yapımının hızlanmasının
B) Doğumların artmasının
C) Ölümlerin azalmasının
D) Çevreden göçlerin çoğalmasının
E) Düzenli ulaşım ağına sahip olmasının

43. Aşağıdakilerden hangisi bir ülkenin genç nüfuslu olduğunun göstergesi? (ÖYS)

- A) Sanayi ürünleri üretiminin fazla olması
B) Çalışan nüfusun yaş ortalamasının düşük olması
C) Tarımla uğraşan nüfusun azalması
D) Nitelikli işçi sayısının fazla olması
E) Ortalama yaşam süresinin uzun olması

**44. I. Genç nüfus oranının fazla olması
II. Ortalama yaşam süresinin uzun olması
III. Yerleşme ve nüfus dağılışının doğal faktörlere bağlı olması
IV. Nüfus artış hızının düşük olması**

Yukarıda verilenlerden hangileri, gelişmiş ülkelerin nüfus özelliklerindedir?

- A) I ve II B) I ve III C) II ve III D) II ve IV E) III ve IV

45. Aşağıdakilerden hangisi, bir ülkede sanayinin gelişmekte olduğunun göstergelerinden biri değildir?

- A) Hammaddeye duyulan ihtiyacın artması
B) Tarımsal üretimin azalması
C) Enerji tüketiminin artması
D) Teknoloji kullanımının artması
E) Çalışan nüfus içinde, niteliksiz işçi payının azalması

**46. Rize – Orman, Eskişehir – Bozkır,
Antalya –Maki, Kars - Çayır**

Yukarıdaki merkezlerde bitki türlerinin farklı olması bu merkezlerin öncelikle aşağıdaki özelliklerinden hangisinin farklı olmasıyla açıklanabilir?

- A) Enlem değerlerinin B) Bakı özelliklerinin
C) Akarsu rejimlerinin D) Jeolojik yapılarının
E) Sıcaklık ve yağış özelliklerinin

47. İklimin ve ana kayanın etkisiyle çok uzun sürelerde oluşan tabakalı topraklara yerli topraklar denilirken, dış güçler tarafından taşınarak oluşan topraklara taşınmış toprak denilir. Buna göre, aşağıdaki toprak tiplerinden hangisi diğerlerinden daha farklı bir şekilde oluşmuştur?

- A) Laterit B) Terra – rossa C) Alüvyon
D) Çernezyom E) Podzol

48. Türkiye'de orman alanlarının çok büyük bir bölümü kıyı bölgesinde bulunurken iç bölgelerimizde orman varlığının fazla olmadığı görülür.

Bu durum üzerinde;

I. Ormanların tahrip edilmesi

II. Yağışın az olması

III. Ortalama sıcaklıkların düşük olması

IV. Yer şekillerinin engebeli olması

gibi faktörlerden hangileri daha fazla etkili olmuştur?

- A) I ve II B) II ve III C) II ve IV D) I ve III E) III ve IV

49. Yerin derinliklerinden kaynaklanan, yeryüzünde meydana gelen titreşim ve salınım hareketlerine deprem denir. Buna göre, aşağıdakilerden hangisi, depremin sık görüldüğü alanların özelliklerinden biri değildir?

- A) Yerkabuğunun hareketli alanlarıdır
B) Fay hatları üzerindedir.
C) I. zamanda oluşmuş eski kıta çekirdekleridir.
D) Volkanik alanlara yakındır.
E) Sıcak su kaynakları vardır.

50. Laterit topraklar, dönenceler arası kuşağın sıcak ve nemli bölgelerin toprağıdır. Bu bölgelerin bitki örtüsünün gür olmasına rağmen humus miktarı bakımından zayıftır. Bu durumun temel sebebi aşağıdakilerden hangisidir?

- A) Yağış miktarı fazla olduğundan dolayı toprakların fazla yıkanması
B) Akarsuların debilerinin yüksek olması
C) Yıllık sıcaklık farklarının az olması
D) Kimyasal çözülmenin az olması
E) Fiziksel çözülmenin fazla olması

51. Sarkıt, dikit, sütun gibi yeryüzü şekillerinin oluşumunda aşağıdaki kayalardan hangisi etkilidir?

- A) Püskürük B) Başkalaşım C) Kimyasal tortul
D) Fiziksel tortul E) Organik tortul

52. Aşağıdakilerden hangisi, yeryüzünde bulunan sularla ilgili doğru bir yargı değildir?

- A) Suların çok büyük bir bölümü okyanuslar ve denizlerde toplanmıştır.
B) En fazla su taşıyan nehirler Ekvatorial kuşaktadır.
C) Tatlı su kaynakları yeryüzünde dengeli bir şekilde dağılmamıştır.
D) Tatlı suların çok büyük bölümü, insanların kullanımı için uygun olan akarsu, göl gibi yerlerde bulunur.
E) Dünya'nın en büyük iç denizi Akdeniz'dir.

53. Aşağıdakilerden hangisi akarsularla ilgili yanlış bir kavramdır?

- A) Kaynak suları, yağışlar, kar ya da buz erimeleri ile oluşan ve bir yatak boyunca akan sulara akarsu denir.
B) Akarsuyun akımının yıl içerisinde gösterdiği değişmelere debi denir.
C) Sularını denize ulaştıramayan akarsuların havzalarına kapalı havza denir.
D) Akarsuyun doğduğu yere akarsu kaynağı denir.
E) Ülkemizdeki akarsu rejimleri genelde düzensizdir.

54. I. Akdeniz iklimi -Terra-rossa toprakları

II. Çöl iklimi-Çernezyom toprakları

III. Ekvatorial iklim- Podzol toprakları

IV. Ilıman okyanusal iklim- Kahverengi orman toprakları

V. Tundra İklimi-Kestane renkli step topraklar
Yukarıdaki iklim-toprak eşleştirmelerinden hangisi veya hangileri yanlıştır?

- A) Yalnız I B) II ve III C) I, II ve III
D) IV ve V E) II, III ve V

-CEVAP ANAHTARI-

- 1A 2D 3D 4D 5E 6E 7B 8B 9B 10D 11E 12C 13C 14E
15C 16B 17A 18B 19C 20B 21A 22B 23B 24B 25E 26D
27C 28E 29A 30 C 31D 32A 33C 34A 35A 36D 37C
38A 39B 40B 41E 42D 43B 44D 45B 46E 47C 48A 49C
50A 51C 52D 53B 54E